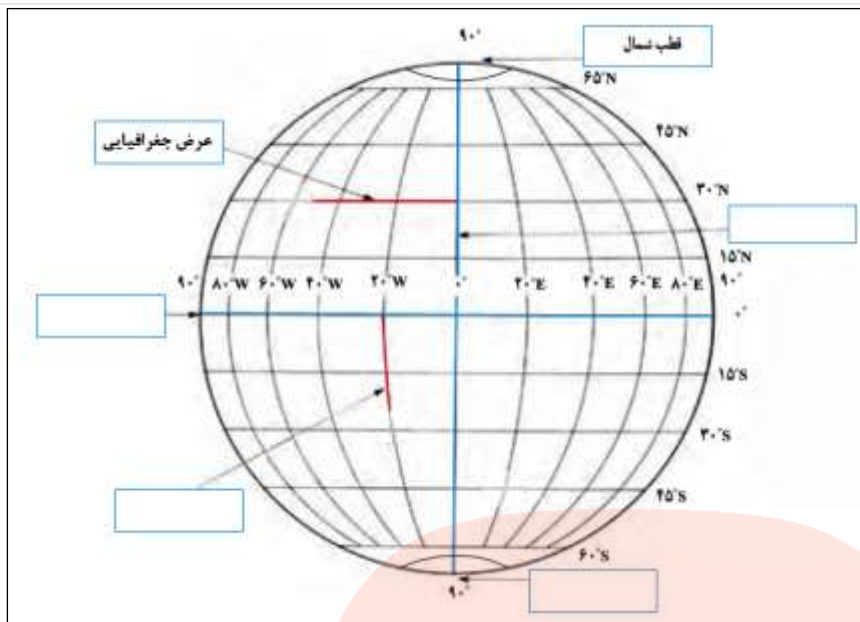


نام و نام خانوادگی:	نام درس:
مقطع و رشته:	نام دبیر:
شماره داوطلب:	تاریخ امتحان:/...../..... ۱۳
تعداد صفحه سؤال:	ساعت امتحان:صبح / عصر
	مدت امتحان: دقیقه

ردیف	سوالات	بازم
الف	سوالات صحیح- غلط (۱ تا ۴)	۲
۱	در زمان شاه تهماسب، قزوین پایتخت سلسله صفویه شد.	۰/۵
	<input type="checkbox"/> صحیح <input type="checkbox"/> غلط	
۲	آخرین پادشاه صفوی، لطفعلی خان بود که از محمود افغان شکست خورد.	۰/۵
	<input type="checkbox"/> صحیح <input type="checkbox"/> غلط	
۳	منظور از اعتمادالدوله در دوره صفوی همان وزیر بزرگ بود.	۰/۵
	<input type="checkbox"/> صحیح <input type="checkbox"/> غلط	
۴	پرتغال، اسپانیا، انگلیس و فرانسه جزو پیشگامان استعمار بودند.	۰/۵
	<input type="checkbox"/> صحیح <input type="checkbox"/> غلط	
ب	سوالات چهارگزینه‌ای (۵ تا ۱۰)	۳
5	کدام سیاره جزء سیارات <u>درونی</u> منظومه خورشیدی است؟	۰/۵
	الف) نپتون <input type="checkbox"/> ب) مشتری <input type="checkbox"/> ج) ناهید <input type="checkbox"/> د) اورانوس <input type="checkbox"/>	
6	این سیاره به تنهایی ۶۰ قمر دارد.	۰/۵
	الف) مریخ <input type="checkbox"/> ب) نپتون <input type="checkbox"/> ج) کیوان <input type="checkbox"/> د) مشتری <input type="checkbox"/>	
7	دانشمندان عمر آن را ۴/۵ میلیارد سال تخمین زده‌اند؟	۰/۵
	الف) زمین <input type="checkbox"/> ب) کیهان <input type="checkbox"/> ج) منظومه خورشیدی <input type="checkbox"/> د) الف و ج <input type="checkbox"/>	
8	این عامل جنبه اقتصادی دارد و به معنای سطح مطلوب زندگی است.	۰/۵
	الف) سواد و آموزش <input type="checkbox"/> ب) متوسط طول عمر <input type="checkbox"/> ج) امید به زندگی <input type="checkbox"/> د) میزان درآمد و رفاه <input type="checkbox"/>	
9	میان دما و ارتفاع در لایه تروپوسفر رابطه‌ی وجود دارد.	۰/۵
	الف) معکوس <input type="checkbox"/> ب) معنادار <input type="checkbox"/> ج) مستقیم <input type="checkbox"/> د) نامنظم <input type="checkbox"/>	
10	این گزینه به فاصله ساحل تا عمق ۲۰۰ متری دریاها و اقیانوس‌ها اشاره دارد.	۰/۵
	الف) فلات قاره <input type="checkbox"/> ب) شیب قاره <input type="checkbox"/> ج) ایوان خشکی <input type="checkbox"/> د) الف و ج <input type="checkbox"/>	
پ	جاخالی (۱۱ تا ۱۴)	۲
۱۱	ستاره خورشید یکی از میلیون‌ها ستاره‌ی است.	۰/۵

۰/۵	مدار استوا یک مدار درجه است.	۱۲															
۰/۵	فاصله هر مکان با نصف النهار مبدا بر حسب درجه، نامیده می شود.	۱۳															
۰/۵	گازی به نام ۲۱ درصد از هواکره را تشکیل می دهد.	۱۴															
۲	سوالات جورکردنی (۱۵) شماره گزینه مرتبط با هر یک از عبارتهای الف، ب، ج و د را مقابل آن بنویسید (یک گزینه اضافی است).	ت ۱۵															
	الف) حاصل راه یافتن مواد مذاب به خارج از پوسته زمین است. () ب) پایین ترین لایه هواکره که نزدیک به سطح زمین است. () ج) برابر شدن درازی روز و شب در اول بهار و اول پاییز را گویند. () د) از بین بردن کامل جنگل ها در یک ناحیه را گویند. () ۱- تروپوسفر ۲- اعتدالین ۳- کوههای آتشفشانی ۴- اتمسفر ۵- جنگل زدایی																
۲	تکمیل نمودار (هر مورد ۰/۵ نمره)	ث															
	<div style="display: flex; justify-content: space-around;"> <div style="text-align: center;"> <p>انواع ناهمواری ها</p> <div style="display: flex; justify-content: center; gap: 20px;"> <div style="border: 1px solid black; padding: 5px;">U شکل</div> <div style="border: 1px solid black; padding: 5px;">V شکل</div> </div> <div style="display: flex; justify-content: center; gap: 20px; margin-top: 10px;"> <div style="border: 1px solid black; width: 60px; height: 20px;"></div> <div style="border: 1px solid black; width: 60px; height: 20px;"></div> </div> </div> <div style="text-align: center;"> <p>دو معیار برای سنجش مختصات جغرافیایی</p> <div style="display: flex; justify-content: center; gap: 20px; margin-top: 10px;"> <div style="border: 1px solid black; width: 60px; height: 20px;"></div> <div style="border: 1px solid black; width: 60px; height: 20px;"></div> </div> </div> </div>	۱۶															
۲	تکمیل جدول (هر مورد ۰/۵ نمره)	ج															
	<table border="1" style="width: 100%; border-collapse: collapse;"> <thead> <tr> <th style="width: 20%;">ردیف</th> <th style="width: 60%;">توضیح</th> <th style="width: 20%;">پاسخ</th> </tr> </thead> <tbody> <tr> <td>۱</td> <td>شکل مداری که زمین در حرکتش به دور خورشید می پیماید.</td> <td></td> </tr> <tr> <td>۲</td> <td>انسان را جزو این دسته از عوامل تغییر شکل ناهمواری ها در نظر می گیرند.</td> <td></td> </tr> <tr> <td>۳</td> <td>این ساعت در تعیین زمان باز و بسته شدن ادارات اهمیت دارد.</td> <td></td> </tr> <tr> <td>۴</td> <td>نتیجه ی برخورد دو ورقه به یکدیگر است.</td> <td></td> </tr> </tbody> </table>	ردیف	توضیح	پاسخ	۱	شکل مداری که زمین در حرکتش به دور خورشید می پیماید.		۲	انسان را جزو این دسته از عوامل تغییر شکل ناهمواری ها در نظر می گیرند.		۳	این ساعت در تعیین زمان باز و بسته شدن ادارات اهمیت دارد.		۴	نتیجه ی برخورد دو ورقه به یکدیگر است.		۱۷
ردیف	توضیح	پاسخ															
۱	شکل مداری که زمین در حرکتش به دور خورشید می پیماید.																
۲	انسان را جزو این دسته از عوامل تغییر شکل ناهمواری ها در نظر می گیرند.																
۳	این ساعت در تعیین زمان باز و بسته شدن ادارات اهمیت دارد.																
۴	نتیجه ی برخورد دو ورقه به یکدیگر است.																
۲	تکمیل نقشه (هر مورد ۰/۵ نمره)	چ															
	موارد خواسته شده را داخل کادر مربوطه بنویسید.	۱۸															



۱	چستان (هر مورد ۰/۵ نمره)	ح
	<p>الف) من کیستم؟ «مذهب شیعه رو در ایران رسمی کردم و تبریز رو پایتخت حکمرانی خودم قرار دادم».</p> <p>ب) من چیستم؟ «خیلی دوست داری اسم منو بدونی؟ خب خوب دقت کن. من پرسودترین کالای صادراتی دوره شاه عباس اول بودم. چیه نفهمیدی؟ راهنمایی میخای؟ یه جاده قدیمی هم به اسم من نامگذاری شده. بازم نفهمیدی؟ بابا نام خانوادگی یه کرمم هستم؛ اگه باز نفهمیدی دیگه خیلی آغایی!».</p> <p>(الف) → </p> <p>(ب) → </p>	۱۹
۲	تکمیل شکل (هر مورد ۰/۵ نمره)	خ
	<p>با فرض اینکه شکل زیر مربوط به چهار محیط سیاره زمین است، نام هر یک از محیط‌های چهارگانه را داخل کادر مربوطه بنویسید.</p>  <p>A: شامل سنگ و خاک است. ()</p> <p>B: شامل نیتروژن و اکسیژن است. ()</p> <p>C: شامل دریاها و اقیانوس‌ها است. ()</p> <p>D: شامل انسان‌ها، گیاهان و جانوران است. ()</p>	۲۰
۲	تشریحی (۲۱ تا ۲۴)	د
۰/۵	پس از شاه اسماعیل چه کسی به حکومت رسید و کدام شهر را پایتخت قرار داد؟	۲۱

۰/۵	عوامل موثر بر آب و هوای جهان را نام ببرید. (۲ مورد)	۲۲
۰/۵	نام دو عنصر مهم که باعث تنوع زیست بومها شده‌اند را بنویسید.	۲۳
۰/۵	الف) بسترین وسعت این زیست بوم در قاره آفریقا است. زیست بوم ب) هوای گونه گیاهی مختص این زیست بوم است. زیست بوم	۲۴
۲۰ نمره	پیروز و سربلند باشید! «کریمی»	۲۴ سؤال



نام درس: نام دبیر: تاریخ امتحان:/...../..... ۱۳ ساعت امتحان:صبح / عصر مدت امتحان: دقیقه		پاسخ نامه سوالات
---	--	-------------------------

بارم	سوالات	ردیف
۲	سوالات صحیح - غلط (۱ تا ۴)	الف
۰/۵	صحیح	۱
۰/۵	غلط	۲
۰/۵	غلط	۳
۰/۵	صحیح	۴
۳	سوالات چهارگزینه‌ای (۵ تا ۱۰)	ب
۰/۵	گزینه ج	۵
۰/۵	گزینه د	۶
۰/۵	گزینه د	۷
۰/۵	گزینه د	۸
۰/۵	گزینه الف	۹
۰/۵	گزینه د	۱۰
۲	جاخالی (۱۱ تا ۱۴)	پ
۰/۵	کهکشان راه شیری	۱۱
۰/۵	صفر	۱۲
۰/۵	طول جغرافیایی	۱۳
۰/۵	اکسیژن	۱۴

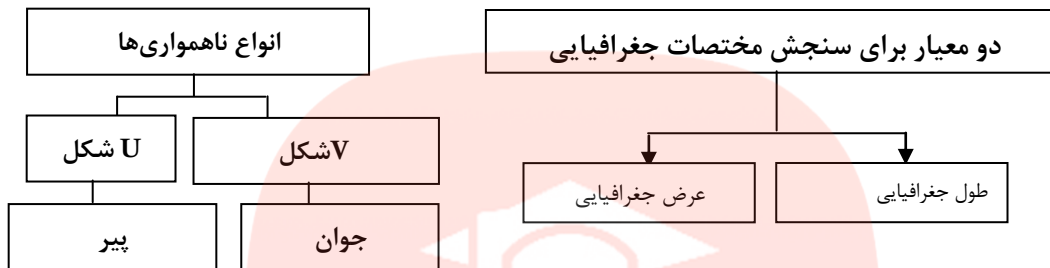
مای درس

گروه آموزشی عصر

www.my-dars.ir

- الف) (۳)
- ب) (۱)
- ج) (۲)
- د) (۵)

تکمیل نمودار (هر مورد ۰/۵ نمره)

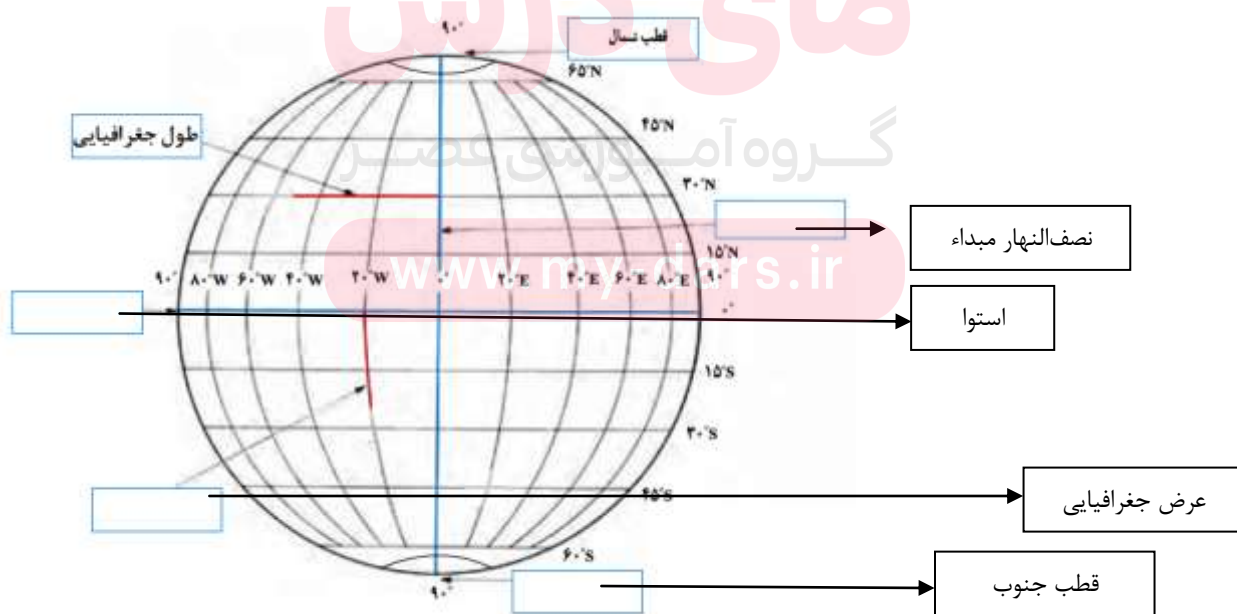


تکمیل جدول (هر مورد ۰/۵ نمره)

ردیف	توضیح	پاسخ
۱	شکل مداری که زمین در حرکتش به دور خورشید می‌پیماید.	بیضی
۲	انسان را جزو این دسته از عوامل تغییر شکل ناهمواری‌ها در نظر می‌گیرند.	بیرونی
۳	این ساعت در تعیین زمان باز و بسته شدن ادارات اهمیت دارد.	ساعت رسمی
۴	نتیجه‌ی برخورد دو ورقه به یکدیگر است.	کوهزایی

تکمیل نقشه (هر مورد ۰/۵ نمره)

موارد خواسته شده را داخل کادر مربوطه بنویسید.



۱	چیستان (هر مورد ۰/۵ نمره)	ح ۱۹
	<p>(الف) </p> <p>(ب) </p>	
۲	تکمیل شکل (هر مورد ۰/۵ نمره) با فرض اینکه شکل زیر مربوط به چهار محیط سیاره زمین است، نام هر یک از محیط‌های چهارگانه را داخل کادر مربوطه بنویسید.	خ ۲۰
	 <p>شامل سنگ و خاک است. (سنگ کره یا لیتوسفر)</p> <p>شامل نیتروژن و اکسیژن است. (هواکره یا اتمسفر)</p> <p>شامل دریاها و اقیانوس‌ها است. (آب کره یا هیدروسفر)</p> <p>شامل انسان‌ها، گیاهان و جانوران است. (زیست کره یا بیوسفر)</p>	
۲	سوالات تشریحی (۲۱ تا ۲۴)	د
۰/۵	پسرش شاه تهماسب - قزوین	۲۱
۰/۵	۲ مورد از موارد ذیل: (۱) زاویه تابش خورشید و عرض جغرافیایی (۲) دوری و نزدیکی به اقیانوسها و دریاها (۳) ارتفاع از سطح زمین (۴) فشار هوا و جریان باد	۲۲
۰/۵	بارش و دما یا آب و هوا	۲۳
۰/۵	الف) ساوان ب) جنگلهای بارانی استوایی	۲۴

پیروز و سربلند باشید! «کریمی»

www.my-dars.ir

