

نام و نام خانوادگی :

سال نهم شعبه کلاس :

سال تحصیلی : (۹۵ - ۹۴)

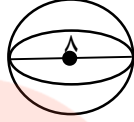
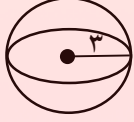
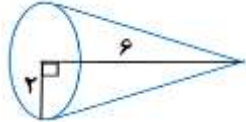
بسمه تعالی

تاریخ :

نام دبیر : آقای زیرکاری

نمره :

(آزمون ۵ نمره) ۶

بارم	سـد	هـالات	دیف	بارم	سـد	هـالات	دیف
۱	اگر حجم هرمی ۷۲ سانتی متر مکعب و ارتفاع ۹ سانتی متر باشد. مساحت قاعده هرم چند سانتی متر مربع است.	۱۳	۱	۱	مساحت کره زیر را به دست آورید.		۱
۱/۵	الف) حجم هرم مربع القاعده ای با ضلع ۴ و ارتفاع ۱۲ سانتی متر را بیابید. ب) گسترده هرم مربع القاعده را رسم کنید.	۱۴	۱/۵	۲	حجم هر شکل را به دست آورید.	 	۲

نام و نام خانوادگی :

سال نهم شعبه کلاس :

سال تحصیلی : (۹۵ - ۹۴)

بسمه تعالی


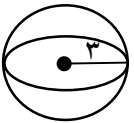
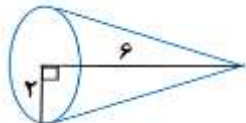
تاریخ :

نام دبیر : آقای زیرکاری

نمره :

دبیرستان هیات امنایی شهید رزمجو مقدم

(آزمون ۵ نمره) ۶

بارم	سـد	هـالات	دیف	بارم	سـد	هـالات	دیف
۱	اگر حجم هرمی ۷۲ سانتی متر مکعب و ارتفاع ۹ سانتی متر باشد. مساحت قاعده هرم چند سانتی متر مربع است.	۱۳	۱	۱	مساحت کره زیر را به دست آورید.		۱
۱/۵	الف) حجم هرم مربع القاعده ای با ضلع ۴ و ارتفاع ۱۲ سانتی متر را بیابید. ب) گسترده هرم مربع القاعده را رسم کنید.	۱۴	۱/۵	۲	حجم هر شکل را به دست آورید.	 	۲