

- ۱- برای آن که اطلاعاتی در رابطه با جمعیت کشورمان به دست آوریم باید از و و پایگاه اینترنتی استفاده کنیم.
- ۲- به نسبت افرادی که در یک مکان زندگی می کنند آن مکان می گویند.
- ۳- دشت کویر و دشت لوت می باشند.
- ۴- پرجمعیت ترین و پرتراکم ترین ناحیه ی کشور ما است.
- ۵- دومین ناحیه ی پرتراکم کشور است.
- ۶- چه زمانی جمعیت یک کشور کاهش می یابد؟
- ۷- برای محاسبه ی تراکم جمعیت یک منطقه چه باید کرد؟
- ۸- چرا نواحی داخلی ایران جمعیت بسیار کمی زندگی می کنند؟
- ۹- علت زیادی جمعیت در کناره دریای خزر چیست؟
- ۱۰- علت زیادی جمعیت در جلگه خوزستان چه می باشد؟
- ۱۱- در مناطق مرکزی، جنوبی و داخلی ایران به دلیل خشکی هوا و کمبود بارندگی خاک بسیار کم است.
- ۱۲- در گذشته اغلب مناطق ایران آب را در ذخیره می کردند.
- ۱۳- ایرانیان در حدود ۲ هزار سال پیش با حفر قنات توانستند از آب های استفاده کنند.
- ۱۴- رودها در حوضه ی آبریز داخلی معمولاً یا می باشند.
- ۱۵- تنها رودی در ایران که قابل کشتیرانی است می باشد.
- ۱۶- دو منبع حیاتی برای جانداران را بنویسید.
- ۱۷- رودهای حوضه ی آبریز خلیج فارس و دریای عمان از کجا سرچشمه می گیرند؟
- ۱۸- چه عواملی برای تشکیل خاک در یک منطقه سهم می باشد؟
- ۱۹- سه عاملی که سبب از بین رفتن خاک می شود را بنویسید.
- ۲۰- کدام نواحی ایران دارای خاک های حاصلخیزتری می باشد؟
- ۲۱- اگر تعداد افرادی که متولد می شوند، بیشتر از افرادی که می میرند باشد، جمعیت می یابد.
- ۲۲- اگر تعداد افرادی که متولد می شوند، کم تر از افرادی که می میرند باشد، جمعیت می یابد.

- ۲۳- کشورهایی مانند و رشد منفی جمعیت دارند.
- ۲۴- هنگامی که تعداد زاد و ولدها کم تر از مرگ و میرها باشد، به این رشد، می گویند.
- ۲۵- جمعیت ۱ تا ۲۵ سال در کشور ما در گروه و قرار دارند.
- ۲۶- جمعیت ۲۵ تا ۶۵ سال در کشور ما در گروه قرار دارند.
- ۲۷- جمعیت ۶۵ سال به بالا در کشور ما در گروه قرار دارند.
- ۲۸- با کم شدن زاد و ولد جمعیت جوان و جمعیت سالمندان می یابد.
- ۲۹- در کشور ما مرکز آمار ایران مسئولیت را برعهده دارد.
- ۳۰- در ایران، اطلاعات مربوط به جمعیت را جمع آوری و در کتابها و نشریات الکترونیکی منتشر می کند.
- ۳۱- اطلاعات جمعیتی ایران را می توان از و و به دست آورد.
- ۳۲- برای محاسبه ی تراکم جمعیت یک منطقه جمعیت آن منطقه را بر آن تقسیم می کنند.
- ۳۳- تراکم جمعیت کشور ما در سال ۱۳۹۰ حدود نفر در کیلومتر مربع بوده است.
- ۳۴- نواحی و خالی از جمعیت می باشند.
- ۳۵- در نواحی ایران به دلیل کمبود بارندگی، آب و هوای گرم و خشک و خاک های نامساعد و شور، جمعیت زندگی می کنند.
- ۳۶- تهران و شهرهای کوچک و بزرگ اطراف آن را می نامند.
- ۳۷- چون تهران است، در این شهر سازمان های دولتی مهم، دانشگاه ها، بیمارستان ها و صنایع زیادی مستقر شده است.
- ۳۸- در به دلیل باران کافی، آب فراوان، هوای معتدل و خاک حاصلخیز رونق دارد.
- ۳۹- ناحیه ی خوزستان به دلیل داشتن منابع و دارای جمعیت است.
- ۴۰- در کوهپایه های البرز و زاگرس و دشت های حاصلخیز، هرکجا و وجود داشته باشد، جمعیت زیادی را به خود جذب کرده است.
- ۴۱- طبق سرشماری سال ۱۳۹۰ بیش از مردم در شهرها و کم تر از در روستاها زندگی می کرده اند.
- ۴۲- در ایران شهر جمعیتشان بیش از یک میلیون نفر است.
- ۴۳- شهرهای ، و از شهرهای پرجمعیت ایران به حساب می آیند.

۴۴- ایران در بین کشورهای همسایه‌ی خود کشوری است.

۴۵- چه زمانی جمعیت یک کشور افزایش می‌یابد؟

۴۶- کدام کشورها در جهان دارای رشد منفی جمعیت هستند؟

۴۷- منظور از رشد منفی جمعیت چیست؟

۴۸- گروه‌های سنی جمعیت در ایران را بنویسید.

۴۹- مشکلات رشد منفی جمعیت چیست؟

۵۰- جمعیت ایران نسبت به کشورهای همسایه چگونه است؟

۵۱- برای دستیابی به اطلاعات جمعیتی مرکز آمار ایران چه باید کرد؟

۵۲- تراکم جمعیت ایران در سال ۱۳۹۰ چند نفر است و چگونه به دست آمده است؟

۵۳- عوامل تأثیرگذار بر پراکندگی جمعیت در یک منطقه را بنویسید.

۵۴- چرا در منطقه‌ی شهری تهران سازمان‌های مهم دولتی، دانشگاه‌ها و بیمارستان‌های زیادی مستقر شده است؟

۵۵- چرا در ناحیه‌ی خزری، کشاورزی رونق دارد؟

۵۶- در کدام قسمت از کشور، جمعیت به خاطر وجود معادن و ذخایر افزایش یافته است؟

۵۷- در کدام قسمت از کوهپایه‌های البرز و زاگرس و دشت‌های حاصلخیز ایران، شهرها و روستاهای زیادی وجود دارد؟

۵۸- طبق سرشماری سال ۱۳۹۰ چند درصد از مردم ایران شهرنشین و روستانشین بوده‌اند؟

۵۹- چند شهر در ایران دارای جمعیتی بیش از یک میلیون نفر می‌باشد؟

۶۰- پرجمعیت‌ترین شهرهای ایران کدامند؟

۶۱- هنگامی که یک منطقه زیاد می‌شود، مصرف منابع بیشتر می‌شود.

۶۲- و دو منبع محدود در طبیعت هستند.

۶۳- منابع طبیعی دو دسته هستند: و

۶۴- آب مورد نیاز انسان از آب‌های و یا آب‌های تأمین می‌شود.

۶۵- آب‌های شامل آب چاه، چشمه و قنات می‌شود.

۶۶- منظور از آب‌های سطحی همان آب می‌باشد.

۶۷- مقدار منابع آب در ایران است.

۶۸- یکی از منابع مهم تأمین آب شهرنشینان و روستائیان هستند.

۶۹- اغلب رودهای دائمی و پرآب ایران از کوه‌های و سرچشمه می‌گیرند.

۷۰- رودهای پرآب ایران چون از شیب‌های تند کوهستانی جاری می‌شوند، نیستند.

۷۱- جهت جریان آب یعنی

۷۲- رودهای ایران از نظر جهت جریان به حوضه‌ی آبریز تقسیم می‌شوند.

۷۳- رودهای پرآب کوه‌های البرز به می‌ریزند.

۷۴- رودهایی که از کوه‌های زاگرس یا کوه‌های پراکنده‌ی داخلی سرچشمه می‌گیرند به و می‌ریزند.

۷۵- رودهایی که به دریاچه‌ها و باتلاق‌های داخلی یا زمین‌های اطراف خود نفوذ می‌کنند، معمولاً یا هستند.

۷۶- در هنگام دوش گرفتن به طور متوسط در هر دقیقه لیتر آب مصرف می‌شود.

۷۷- از نظر دین اسلام آلوده کردن آب‌ها است.

۷۸- مواد شوینده به دلیل داشتن ترکیبات شیمیایی باید کمتر مصرف شوند زیرا آب‌های را آلوده می‌کنند.

۷۹- مصرف سرانه‌ی آب کشور ایران است.

۸۰- میزان مجاز مصرف آب برای یک فرد در شبانه‌روز لیتر تعیین شده است.

۸۱- در ایران متوسط مصرف آب در شبانه‌روز تا لیتر است.

۸۲- هر لیتر تقریباً معادل لیوان آب است.

۸۳- با و مصرف آب روز به روز بیشتر شده است.

۸۴- در گذشته آب و وجود نداشت.

۸۵- امروزه آب آشامیدنی سالم از طریق در اختیار مردم قرار می‌گیرد.

۸۶- برای آب و رساندن آن به داخل لوله‌های منازل پول و زحمت زیادی صرف می‌شود.

۸۷- خاک، یک منبع مهم تأمین است.

۸۸- در ۱۰ دقیقه زمان دوش گرفتن حمام معادل لیتر آب مصرف می‌شود.

۸۹- انسان در طی سالیان دراز از برای ساختن ظروف و وسایل زندگی، جاده‌ها و خانه‌ها استفاده کرده است.

۹۰- لایه‌ی نازکی از است که از خرد شدن سنگ‌ها پدید آمده است.

۹۱- خاک طیّ زمان طولانی با توجه به عواملی مانند ، و یک منطقه تشکیل می‌شود.

۹۲- هر نوع خاک خاصی دارد که انواع مختلف خاک‌ها را تشکیل می‌دهد.

۹۳- در کشور ما در و و خاک‌های حاصلخیزی وجود دارد.

۹۴- خاک حاصلخیز دارای مواد و مناسب است.

۹۵- خاک برخی از مناطق مرکزی، داخلی و جنوبی به علت وجود یا برای کشاورزی مناسب نیست.

۹۶- در مناطق داخلی، مرکزی و جنوبی به علت و هوموس خاک بسیار کم است.

۹۷- سالیانه تن خاک در جهان از بین می‌رود.

۹۸- مصرف بیش از حدّ و کشت پی در پی یک محصول در زمین باعث از بین رفتن خاک می‌شود.

۹۹- برای تشکیل یک سانتی‌متر خاک زراعی سال وقت لازم است.

۱۰۰- و موجب می‌شود خاک در اثر باد و باران به راحتی شسته شود.

۱۰۱- در کشور ما سازمان حفاظت از خاک را بر عهده دارد.

۱۰۲- دفن زباله‌ها در خاک باعث از بین رفتن می‌شود.

۱۰۳- ایجاد ساختمان و جاده و کارخانه روی باعث از بین رفتن خاک می‌شود.

۱۰۴- چه زمانی در یک منطقه مصرف منابع بیشتر می‌شود؟

۱۰۵- منابع طبیعی به چند دسته تقسیم می‌شوند؟ نام ببرید.

۱۰۶- آب مورد نیاز انسان از کجا تأمین می‌شود؟

۱۰۷- یکی از منابع مهم تأمین آب شهرنشینان و روستانشینان چیست؟

۱۰۸- اغلب رودهای دائمی و پرآب ایران از کجا سرچشمه می‌گیرند؟

۱۰۹- چرا رودهای ایران قابل کشتیرانی نمی‌باشند؟

۱۱۰- رودهای ایران از لحاظ جهت جریان به چند دسته تقسیم می‌شوند؟ نام ببرید.

۱۱۱- رودهایی که از کوه‌های البرز سرچشمه می‌گیرند، به کدام حوضه‌ی آبریز می‌ریزند؟

۱۱۲- ویژگی اصلی رودهایی که به حوضه‌ی آبریز داخلی می‌ریزند چیست؟

۱۱۳- چرا با آن‌که کشور ایران از شمال و جنوب به دریاها بزرگ راه دارد، با مشکل کمبود آب مواجه است؟

۱۱۴- وظیفه‌ی انسان‌ها برای حفظ آب چیست؟

۱۱۵- با دو مثال طریقه‌ی درست مصرف کردن آب در زندگی روزمره را شرح دهید.

۱۱۶- با دو مثال بنویسید چگونه می‌توان از آلودگی آب جلوگیری کرد؟

۱۱۷- میزان مصرف آب در ایران و جهان را با هم مقایسه کنید.

۱۱۸- طریقه‌ی تأمین آب مصرفی مردم در گذشته و حال را با یک‌دیگر مقایسه کنید.

۱۱۹- اگر ۱۰ دقیقه زمان دوش گرفتن باشد، حساب کنید چند لیتر آب مصرف می‌شود؟

۱۲۰- میزان مصرف آب در طی زمان چه تغییراتی داشته است؟

۱۲۱- اهمیت خاک در زندگی انسان چیست؟ (سه مورد)

۱۲۲- خاک چگونه پدید آمده است؟

۱۲۳- آیا می‌توان گفت خاک انواع مختلفی دارد؟

۱۲۴- خاک‌های کدام قسمت از ایران دارای نمک یا آهک است و برای کشاورزی مناسب نمی‌باشند؟

۱۲۵- چرا در مرکز، داخل و جنوب ایران هوموس خاک بسیار کم است؟

۱۲۶- در کشور ایران وظیفه‌ی سازمان جنگل‌ها، مراتع و آبخیزداری چیست؟

۱۲۷- خاک مناطق مرکزی را با خاک جلگه‌ها مقایسه کنید.


۱۲۸- ایران سرزمین پهناوری است که جمعیت آن در همه‌جا به‌طور یکسان پراکنده شده است. (صحیح) - (غلط)

۱۲۹- با افزایش جمعیت میزان مصرف منابع افزایش می‌یابد. (صحیح) - (غلط)

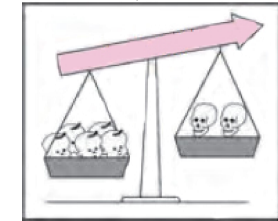
۱۳۰- انسان‌ها جزء منابع و سرمایه‌های یک کشور نیستند. (صحیح) - (غلط)

۱۳۱- ایران در بین همسایه‌های خود پرجمعیت است. (صحیح) - (غلط)

۱۳۲- شکل های زیر هر کدام مربوط به چیست؟ توضیح دهید.



(۲)



(۱)

۱۳۳- جمعیت را به گروه های سنی مختلف تقسیم می کنند. (صحیح) - (غلط)

۱۳۴- هر کدام از شهرهای زیر به چه دلیل جمعیت جذب کرده است؟
الف) تهران (ب) ناحیه خوزستان (ج) جلگه های کنار دریای خزر

۱۳۵- سه مورد از عواملی که بر پراکندگی جمعیت تأثیر می گذارند را نام ببرید.

۱۳۶- چرا دشت لوت و دشت کویر خالی از جمعیت هستند؟

۱۳۷- بر طبق نقشه، کدام یک از کشورهای همسایه ایران پرجمعیت هستند؟

۱۳۸- با منفی شدن رشد جمعیت چه مشکلاتی برای یک کشور ایجاد می شود؟

۱۳۹- در استان البرز تعداد جمعیت ۲۴۱۲۵۱۳ نفر می باشد. اگر مساحت آن ۵۱۲۵ کیلومتر مربع باشد تراکم در استان البرز چقدر است؟ عدد به دست آمده چه چیزی را نشان می دهد؟

۱۴۰- در منطقه ای عدد تراکم ۲۰۷ به دست آمده است. این عدد چه چیزی را نشان می دهد؟

۱۴۱- پرتراکم ترین و پرجمعیت ترین ناحیه کشورمان جلگه های کناره دریای خزر است. (صحیح) - (غلط)

۱۴۲- تراکم جمعیت شهر الف را با توجه به جدول روبه رو محاسبه کنید.

تراکم (نفر در هر کیلومتر مربع)	مساحت (کیلومتر مربع)	جمعیت (نفر)
	۳۵۰۰۰	۷۰۰۰۰

۱۴۳- تراکم جمعیت را در شکل روبه رو محاسبه کنید. (مساحت زمین ۴ کیلومتر مربع می باشد).



۱۴۴- در جدول روبه رو مشخص کنید هر مورد مربوط به کدام گروه جمعیتی می باشد؟

(۱)	(۲)	(۳)
سال ۲۵ - ۱	سال ۶۵ - ۲۵	بیش تر از ۶۵

۱۴۵- وقتی جمعیت یک منطقه زیاد می شود مصرف منابع

۱۴۶- آب مورد نیاز انسان فقط از آب های سطحی (رودها) تأمین می شود. (صحیح) - (غلط)

۱۴۷- چرخه آب را روی شکل توضیح دهید.

۱۴۸- منابع آب در ایران نامحدود است. (صحیح) - (غلط)

۱۴۹- اغلب رودهای موقتی ایران از کوه های البرز و زاگرس سرچشمه می گیرند. (صحیح) - (غلط)

۱۵۰- رودهای پرآب ایران چون از شیب های تند کوهستانی جاری می شود قابل کشتیرانی هستند. (صحیح) - (غلط)

۱۵۱- رودهای ایران از نظر جهت جریان به چند دسته تقسیم می شوند؟ نام ببرید.

۱۵۲- چرا با آن که کشور ایران از شمال و جنوب به دریاهای بزرگی راه دارد با مشکل کمبود آب مواجه است؟

۱۵۳- حوضه های آبریز داخلی رودهایی موقت یا فصلی هستند که به دریاچه و باتلاق های داخلی یا زمین های اطراف خود می ریزند. (صحیح) - (غلط)

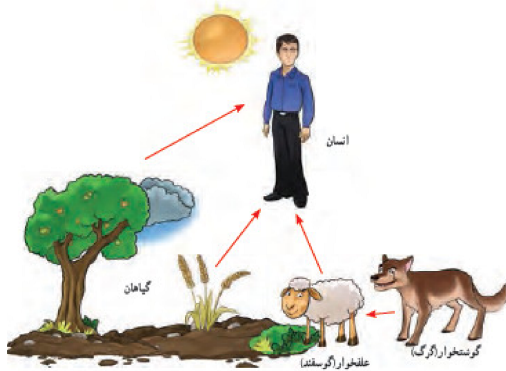
۱۵۴- حوضه آبریز دریای خزر رودهایی هستند که از کوه های زاگرس یا کوه های پراکنده داخلی سرچشمه می گیرند.

(صحیح) - (غلط)

۱۵۵- حوضه آبریز دریای خزر از کوه های البرز و ارتفاعات شمالی کشور سرچشمه می گیرند. (صحیح) - (غلط)

۱۵۶- با افزایش جمعیت و مصرف آب روز به روز بیش تر شده است.

۱۵۷- چرخه تغذیه را با توجه به شکل توضیح دهید.



۱۵۸- خاک لایه نازکی از پوسته زمین است که از خرد شدن سنگ ها پدید آمده است. (صحیح) - (غلط)


۱۵۹- خاک ها با توجه به عواملی مانند سنگ ها، آب، دمای هوا، موجودات زنده یک منطقه تشکیل می شوند.

(صحیح) - (غلط)

۱۶۰- در مناطق مرکزی، داخلی یا جنوبی کشور به علت و ، هوموس خاک بسیار کم است.

۱۶۱- قطع درختان و کندن بوته‌ها چگونه می‌تواند باعث از بین رفتن خاک شود؟

۱۶۲- خاک‌های حاصلخیز کشور ما در کدام منطقه قرار دارد و علت حاصلخیزی آن چیست؟



مای درس

گروه آموزشی عصر

www.my-dars.ir