

نام و نام خانوادگی :

سال هشتم شعبه کلاس :

سال تحصیلی : (۹۶-۹۷)

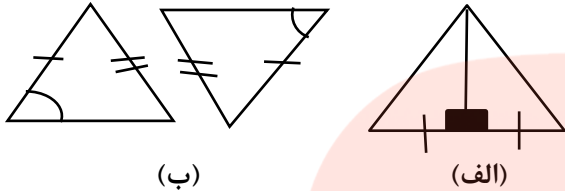
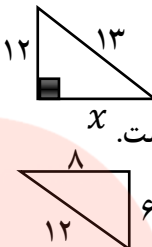
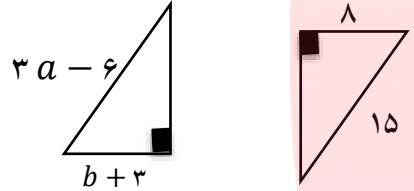
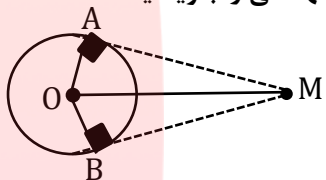
بسمه تعالی

تاریخ :

نام دبیر : آقای زیر کاری

نمره :

(آزمون ۵ نمره) ۶

بارم	سئوالات	ردیف	بارم	سئوالات	ردیف
۱	<p>کدام یک از مثلث های زیر همنهشت هستند؟ به کدام حالت؟</p>  <p>(الف) (ب)</p>	۱۳	۱	<p>الف) در شکل زیر مقدار x را به دست آورید.</p>  <p>ب) آیا مثلث زیر قائم الزویه است.</p>	۱
۱/۵	<p>با توجه به شکل به سوالات پاسخ دهید.</p> <p>الف) نوع تبدیل : ب) مقدار a و b را به دست آورید.</p> 	۱۴	۱/۵	<p>ضلع ها و زاویه های برابر را مشخص سپس نوع حالت همنهشتی را بنویسید.</p> 	۲

نام و نام خانوادگی :

سال هشتم شعبه کلاس :

سال تحصیلی : (۹۶-۹۷)

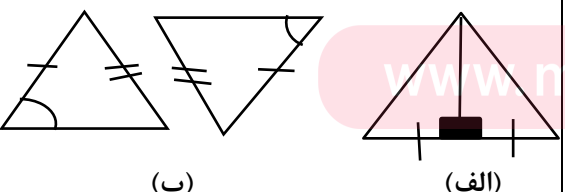
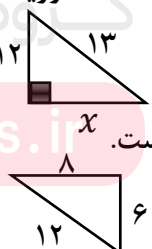
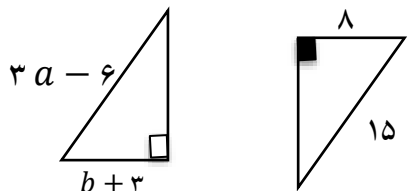
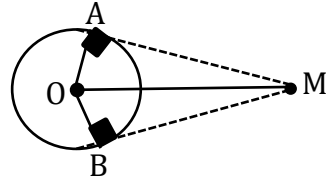
بسمه تعالی

تاریخ :

نام دبیر : آقای زیر کاری

نمره :

(آزمون ۵ نمره) ۶

بارم	سئوالات	ردیف	بارم	سئوالات	ردیف
۱	<p>کدام یک از مثلث های زیر همنهشت هستند؟ به کدام حالت؟</p>  <p>(الف) (ب)</p>	۱۳	۱	<p>الف) در شکل زیر مقدار x را به دست آورید.</p>  <p>ب) آیا مثلث زیر قائم الزویه است.</p>	۱
۱/۵	<p>با توجه به شکل به سوالات پاسخ دهید.</p> <p>الف) نوع تبدیل : ب) مقدار a و b را به دست آورید.</p> 	۱۴	۱/۵	<p>ضلع ها و زاویه های برابر را مشخص سپس نوع حالت همنهشتی را بنویسید.</p> 	۲