

مدت امتحان : ۶۰ دقیقه




تاریخ امتحان : ۹۴/۰۳/۰۳

ساعت امتحان : ۸ صبح

تعداد صفحه : ۳

نمونه شماره دو (پیشنهادی)

صفحه اول

بارم	ردیف
۳	۱
	شما در کدام یک از کارهای مدرسه می‌توانید با کارکنان و مسئولان مدرسه خود همکاری داشته باشید؟ دو مورد
	
	برای وارد شدن به فضای مجازی و استفاده از اینترنت چه نکاتی را باید رعایت کنید؟ دو مورد
	
	برای هریک از موقعیت‌های زیر یک رفتار مناسب بنویسید:
	۱- وقتی از دست کسی خشمگین هستیم ۲- وقتی کسی از دست ما عصبانی است
	
۰/۵	۲ جنوب غربی آسیا قلب تمدن اسلامی محسوب می‌شود. <input type="radio"/> ص <input type="radio"/> غ
۰/۵	۳ از نظر زمین‌شناسی به مناطق شمالی اروپا اروپای پای‌جوان می‌گویند. <input type="radio"/> ص <input type="radio"/> غ
۰/۵	۴ سواحل قاره اروپا صاف و بدون بریدگی است. <input type="radio"/> ص <input type="radio"/> غ
۰/۵	۵ مهم‌ترین کشور صنعتی آسیا ژاپن است. <input type="radio"/> ص <input type="radio"/> غ
۰/۵	۶ آب و هوای بری یا قاره‌ای دارند:
	الف) بخش‌های داخل و مرکز آسیا <input type="radio"/> ب) سرزمین‌های مجاور دریاها از سرخ تا تایوان <input type="radio"/>
	ج) سرزمین‌های مجاور قطب شمال در سیبری <input type="radio"/> د) سرزمین‌های جنوب آسیا <input type="radio"/>
۰/۵	۷ این جلگه از آبرفت رود ینی‌سئی و رودهای رشته‌کوه اورال پدید آمده است:
	الف) جلگه گنگ و سند <input type="radio"/> ب) جلگه بزرگ چین <input type="radio"/> ج) جلگه سیبری <input type="radio"/>
	د) جلگه بین‌النهرین <input type="radio"/>
۰/۵	۸ این دوره از نظر گسترش دانش و فرهنگ و ادب از دوره‌های برجسته تاریخ ایران محسوب می‌شود:
	الف) خوارزمشاهیان <input type="radio"/> ب) سلجوقیان <input type="radio"/> ج) غزنویان <input type="radio"/> د) ایلخانان <input type="radio"/>
۰/۵	۹ بخش اعظم کشور کانادا در آب و هوای قرار گرفته است.
	الف) معتدل اقیانوسی <input type="radio"/> ب) قطبی <input type="radio"/> ج) معتدل بری <input type="radio"/> د) سرد <input type="radio"/>

صفحه دوم		سوالات امتحان نوبت دوم درس مطالعات اجتماعی پایه هشتم دوره اول متوسطه
۰/۵	۱۰	یکی از جزایر مهم و بزرگ اقیانوسیه ، کشور است .
۰/۵	۱۱	تنها چین خوردگی مهم آفریقا در شمال غربی این قاره ، رشته کوه است .
۰/۵	۱۲	جلگه مرکزی استرالیا از آبرفت رود.....پدید آمده است .
۰/۵	۱۳	وزیر آلب ارسلان و ملکشاهبود .
۰/۵	۱۴	چنگیز مجموعه قوانینی را با عنوانتدوین کرد و به اجرا گذاشت .
۰/۵	۱۵	چرا در بیش تر قسمت های آفریقا هوا گرم است و زمستان دیده نمی شود ؟
۰/۵	۱۶	در کدام یک از مناطق قاره آمریکا محصولات نظیر قهوه و نیشکر به عمل می آید؟ آمریکای شمالی <input type="checkbox"/> آمریکای لاتین <input type="checkbox"/> برای پاسخ خود دلیل بیاورید .
۰/۵	۱۷	کدام بناهای تاریخی در زمان ایلخانان در قسمت های مختلف ایران ساخته شد ؟
۱	۱۸	با توجه به کلمات پاسخ دهید : (محمود _ آلب ارسلان - مسعود - طغرل - ملکشاه) - حکومت ساجوقیان در دوره او به اوج قدرت رسید - چندین بار به هندوستان لشکر کشی کرد و به همین سبب در تاریخ شهرت یافت - در نبرد ملازگرد رومیان را شکست داد و امپراتور روم را به اسارت گرفت..... - خلیفه عباسی به او لقب سلطان رکن الدین داد www.mv-dars.ir
۱	۱۹	برای پاسخ هر سوال دو مورد نام ببرید : - از کشورهای مهم صنعتی اروپاو..... - از محصولات مدیترانه ای جنوب اروپاو.....
۱	۲۰	هریک از نقشه های زیر چه اطلاعاتی به ما می دهند : (هر کدام دو مورد) - نقشه های طبیعی - نقشه های سیاسی

۱	<p>کوتاه پاسخ دهید :</p> <p>در همان برخورد اول با سپاه مغول چنان دچار بیم و هراس شد که فرار کرد</p> <p>پس از مرگ او حکومت ایلخانان فرو پاشید و ایران بار دیگر گرفتار جنگ و غارت شد</p> <p>شهامتی از خود نشان داد و در یک جنگ برمغولان پیروز شد .اما کاری از پیش نبرد</p> <p>پس از مرگ چنگیز مامور شد فتوحات مغول در ایران و دیگر بخش های جهان اسلام را کامل کند</p>	۲۱
۱	<p>نام ببرید :</p> <p>- کوههای کم ارتفاع قدیمی در قاره آمریکا</p> <p>- بیابان های قاره آمریکا</p>	۲۲
۱	<p>با توجه به انواع آب و هوا در جنوب غربی آسیا گزینه های مرتبط را با شماره مشخص کنید :</p> <p>(.....سواحل گرم) (.....اطراف دریای مدیترانه) (.....نواحی مرتفع و کوهستانی) (.....بیابان های وسیع)</p> <p>۱- زمستان آب و هوای سرد و تابستان آب و هوای معتدل دارند .</p> <p>۲- آب و هوای خشک یا نیمه خشک دارند .</p> <p>۳- آب و هوای شرجی دارند .</p> <p>۴- زمستان معتدل و پرباران و تابستان گرم و خشک دارند</p>	۲۳
۱	<p>نام ببرید :</p> <p>- در جنوب غربی آسیا این کشور ها توانسته اند از طریق رونق گردشگری یا تجارت و بازرگانی ، اقتصاد خود را متحول کنند</p> <p>- در جنوب غربی آسیا این کشور ها به دلیل جنگ و نبودن امنیت و اشغال نظامی آمریکا نتوانسته اند از نظر اقتصادی پیشرفت کنند</p>	۲۴
۱	<p>منظور از اروراسیا چیست ؟</p>	۲۵
۱	<p>ایران بعنوان کشوری قدرتمند در جنوب غربی آسیا از چه جایگاهی برخوردار است ؟ دو مورد</p>	۲۶
<p>نمره به عدد..... نمره به حروف نام و نام خانوادگی دبیرامضا</p>		