


به نام خدا

ارزشیابی ریاضی کلاس اول

نام و نام خانوادگی : .....

۱- شکل های مثل هم را داخل خط بسته بگذار.



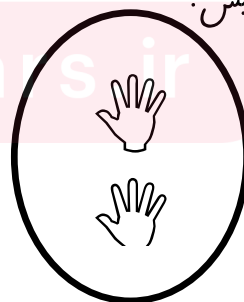


۲- گل های سمت راست خانه را رنگ کن.



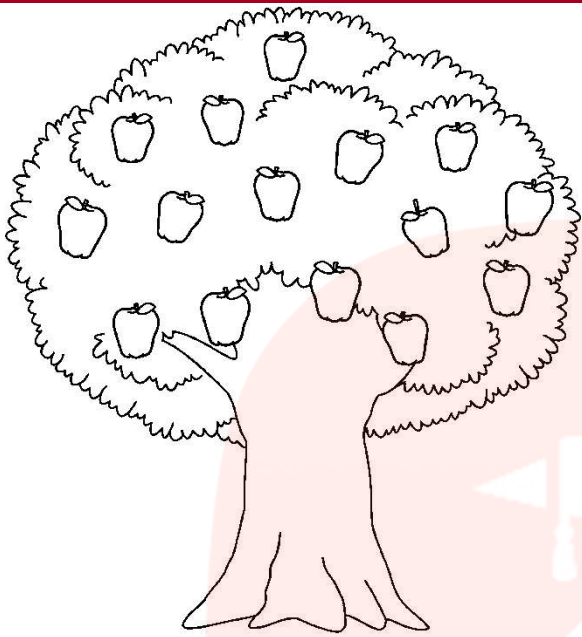
۳- دختری را که به سمت چپ می رود رنگ کن.



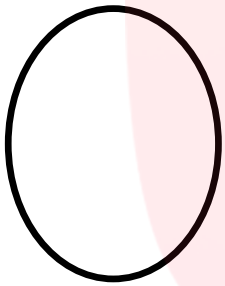
۴- عدد هر دسته را بنویس.




۵- همان اندازه که گل می بینی از سیب ها رنگ کن.



۶- برای هر عدد شکل مناسب بکش.



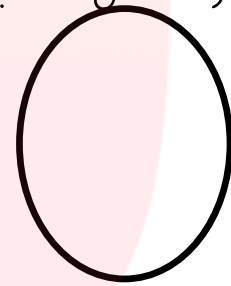
۲



۸



۶




۳


۷- جدول شگفت انگیز را کامل کن.

	۱	۳	۵	۴
۳	۲	۴	۱	۵
۴	۲	۱	۳	۵
۵	۴	۱	۳	۵
۱	۵	۴	۳	۵


۸- دور عدد مناسب خط بکش.



۷ - ۶ - ۵



۲ - ۴ - ۳




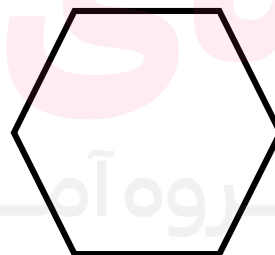
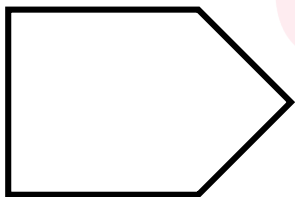
۶ - ۷ - ۸

۹- در جای خالی عدد مناسب بنویس.

		۲		۴		۶		۸
--	--	---	--	---	--	---	--	---

.			۳				۷	
---	--	--	---	--	--	--	---	--

۱۰- هر شکل چند گوشه دارد؟ عدد آن را بنویس.







www.my-dars.ir




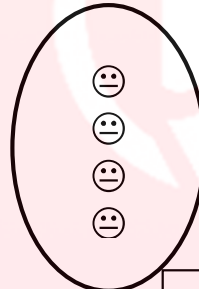

۱۱- الگو را ادامه بده.




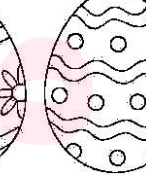

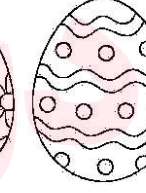

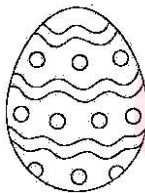

۱۲- عدد هر دسته را بنویس و شکل های دسته ی بیشتر را رنگ کن.



۱۳- شکل های هر دو دسته روی هم چندتا می شوند؟ با عدد نشان بده.



۱۴- ششمین شکل از ست راست را رنگ کن.



گروه آموزشی عصر

[www.my-dars.ir](http://www.my-dars.ir)