

۱ من چه عددی هستم که یکانم بزرگ ترین عدد یک رقمی و دهگانم کوچک ترین عدد یک رقمی و صدگانم ۳ تا از یکانم کمتر است.

ص	د	ی

من را به حروف و رقم بنویس.

رقم : حروف:

۲ با کارت های

۹

۳

۶

 عددهای سه رقمی بساز که رقم یکانش بیشتر از رقم دهگانش و رقم دهگانش کمتر از رقم صدگانش باشد.

.....


۳ الگوها را ادامه بده.

۱۱۴ - ۱۲۴ - ۱۳۴ - - - - -

۴۸۰ - ۴۸۵ - ۴۹۰ - - - - -

۱ - ۲ - ۵ - ۱۰ - -

۴ ساعت قبل و بعد را نشان بده.



یک ربع قبل



نیم ساعت بعد



..... :

..... :

..... :

۵ تفاوت و شباهت شکل های زیر را بنویس.




تفاوت:

.....

شباهت:

علامت مناسب <=> بگذار.

۱۰ سانتی متر  ۹۶ میلی متر  سی دقیقه  یک ربع 

$۷۵ + ۵۰ + ۵۰ + ۱۰۰ + ۱۰۰ + ۵۲۰$  $۵۰۰ + ۲۰ + ۱۰۰ + ۲۰۰ + ۵۰ + ۵$

۶

جمع و تفریق های زیر را به روش خواسته شده حل کن.

فرایندی	انتقالی	تقریبی
$\begin{array}{r} ۲۳۸ \\ + ۴۵۶ \\ \hline \end{array}$ $\begin{array}{r} ۶۷۳ \\ - ۳۵۴ \\ \hline \end{array}$	$\begin{array}{r} ۶۸۳ \\ + ۱۶۸ \\ \hline \end{array}$ $\begin{array}{r} ۶۰۳ \\ - ۴۳۴ \\ \hline \end{array}$	$۸۳ \rightarrow \dots \quad ۴۶ \rightarrow \dots$ $-۳۷ \rightarrow \dots \quad +۱۲ \rightarrow \dots$

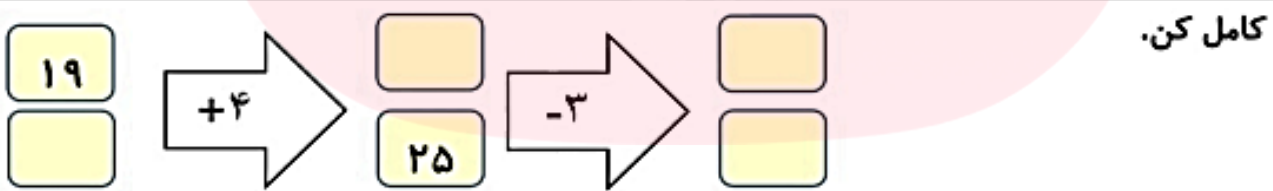
۷

به اعداد زیر دقت کن و اعداد فرد و زوج را در جدول در جای مناسب قرار بده.

$۲۲۳ - ۵۰ - ۲۹ - ۷۲ - ۵ - ۴۸ - ۳۶ - ۴ - ۳۰۵ - ۲۷ - ۱$

۸

زوج فرد



۹

باتوجه به شکل جملات را کامل کن.



۱۰

..... قسمت از قسمت صفحه رنگ نشده است.
 تا تایی می شود تا
 تا تایی می شود تا

مسئله

کتاب داستان من ۲۹۶ صفحه دارد.. اگر من شنبه ۹۸ صفحه و امروز ۷۶ صفحه از کتابم را بخوانم.
 چند صفحه ی دیگر مانده است که نخوانده ام؟

۱۱

۱ من چه عددی هستم که یکانم بزرگ ترین عدد یک رقمی و دهگانم کوچک ترین عدد یک رقمی و صدگانم ۳ تا از یکانم کمتر است.

ص	د	ی
۶	۱	۹

من را به حروف و رقم بنویس.

رقم : ۶۱۹ حروف: شش صد و نوزده

۲ با کارت های ۹ ۳ ۶ عددهای سه رقمی بساز که رقم یکانش بیشتر از رقم دهگانش و رقم دهگانش کمتر از رقم صدگانش باشد.

.....۶۳۹.....۹۳۶.....

۳ الگوها را ادامه بده.

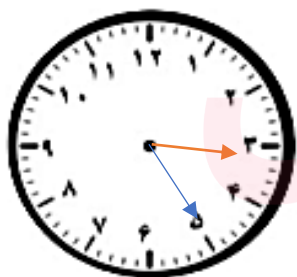
۱۱۴ - ۱۲۴ - ۱۳۴ - - - - - - -
 ۱۴۴ - ۱۵۴ - ۱۶۴ - ۱۷۴ - ۱۸۴

۴۸۰ - ۴۸۵ - ۴۹۰ - - - - - -
 ۴۹۵ - ۵۰۰ - ۵۰۵ - ۵۱۰ - ۵۱۵ - ۵۲۰

۱ - ۲ - ۵ - ۱۰ - -
 ۱۷ - ۲۶

۱ + ۳ + ۵ + ۷ + ۹ +

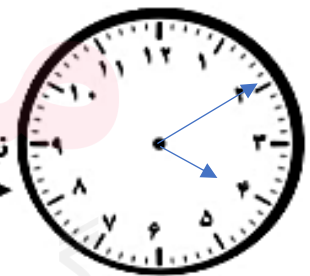
ساعت قبل و بعد را نشان بده.



یک ربع قبل



نیم ساعت بعد



..... :

..... :

..... :

۵ تفاوت و شباهت شکل های زیر را بنویس.



تفاوت: هر مربع هر ۴ ضلع برابر است ولی مستطیل فقط ضلع های

روبرو برابرند

شباهت: هر دو ۴ ضلع و ۴ گوشه دارند.

