





۱- به تعداد شکل های هر تصویر عدد آن را بنویس.



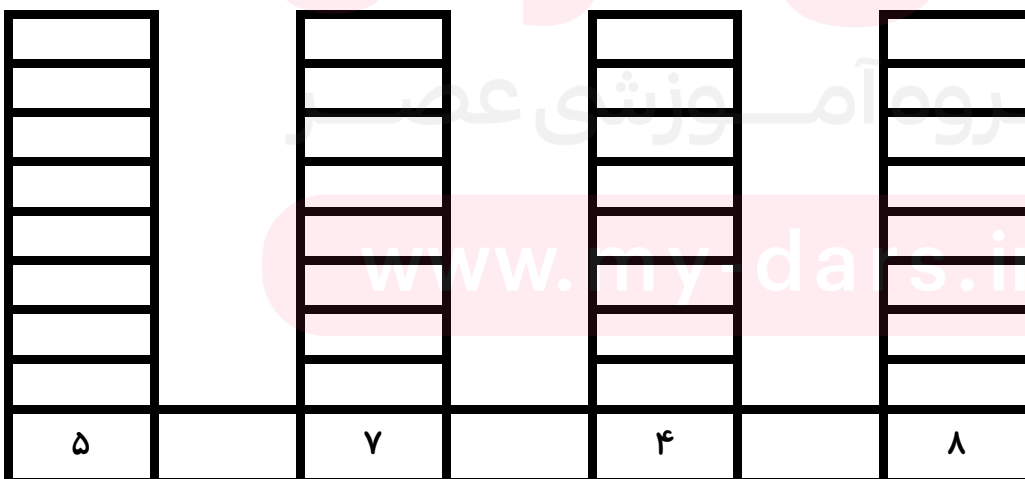
۲- با توجه به عدد هر قسمت شکل ها را کامل کن.



۳- دور عدد یا چوب خط مناسب هر شکل خط بسته بکش.






۴- به تعداد عدد های نوشته شده، هر ستون را رنگ بزن.



۵- عدد هر دسته را بنویس و دور شکل های دسته کمتر خط بکش.

			
<input type="text"/>	<input type="text"/>	<input type="text"/>	<input type="text"/>

۶- گربه ها در کدام شکل دو تا از سگ ها بیشترند.

		
<input type="text"/>	<input type="text"/>	<input type="text"/>

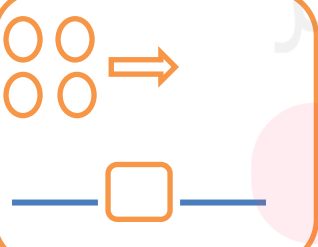
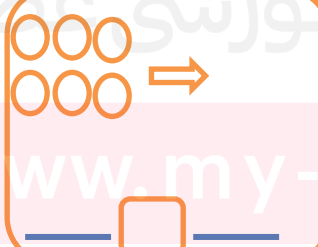
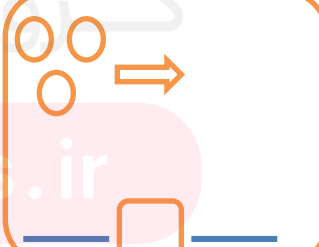
۷- در هر قسمت شکل داخل خط بسته با کدام دسته مساوی است؟ آن را داخل خط بسته بگذار.

	
--	--

۸- بین هر دو عدد یا چوب خط علامت < = > مناسب بگذار

۷ ○ ۷	۶ ○ ۳	○	۵ ○ ۸	○
-------	-------	---	-------	---

۹- با توجه به شکل های سمت چپ در سمت راست سه تا بیش تر از آن بکش و سپس یک نامساوی بساز.

		
<input type="text"/>	<input type="text"/>	<input type="text"/>

باز خورد آموزگار:



احساس خود از این آزمون: