

بسمه تعالی

نام و نام خانوادگی:

معلم: خاتم رشوند

ارزشیابی ریاضی

پایه دوم

۱. در یک حصه مداد، ۶ مداد سبز و ۳ مداد قرمز است.

۱۰۰ مداد ل ..... مداد سبز است

۱۰۰ مداد ..... مداد قرمز است


۲. جاهای خالی را پر کن



تا ..... تا ..... تایی می شود

تا ..... تایی می شود

۳. نمودار ستونی ساعت انجام تکالیف خود را در یک هفته با رنگ کردن یک مستطیل کامل کن. (برای هر ساعت یک مستطیل)



✂ در کدام روز بیشترین فعالیت درس را داشته اید؟

✂ در کدام روز کمترین فعالیت درسی را داشته اید؟

✂ آیا روزهای هم اندازه داشته اید؟

۴ اعداد را در هر مربع مخصوص به خود بنویس

۱۱ - ۲۹ - ۱۹ - ۵۰ - ۳۳ - ۲۶ - ۱۵ - ۳ - ۱۷ - ۱۴

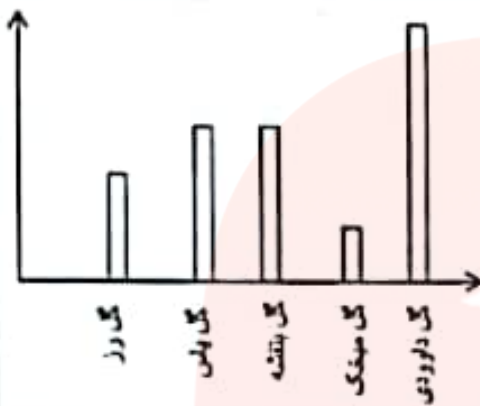
فرد

زوج

۵. دو عدد یک رقمی زوج بنویس.

سه عدد دو رقمی فرد بنویس.

۶. با توجه به نمودار جواب بده.



۳۳ کدام گل از همه بیشتر کاشته شده است؟

۳۴ کدام گل از همه کمتر کاشته شده است؟

۳۵ کدام گل های به اندازه ی هم کاشته شده اند؟

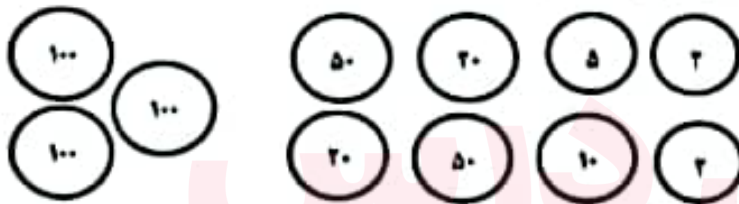
۷. الگو را ادامه بده.

۲۲۲ - ۲۲۴ - ۲۲۶ -

۸۲۳ - ۸۲۵ - ۸۲۷ -

۸. به مناسبت عید کوجه را با ۱۹۲ لامپ زرد و قرمز جرافتی کرده اند. اگر ۵۶ لامپ قرمز باشد چند لامپ زرد است؟

۹. بیتا می خواهد یک کتاب ۲۷۹ ریالی بخرد. مبلغ کتاب را از میان پول ها جدا کن.



۱۰. قد زهرا ۱۵۲ سانتی مترو قد مینا ۱۲۹ سانتی متر است. قد کدام یک بلندتر است؟ چند سانتی متر؟

الف) قد مینا - ۳ سانتی متر

ب) قد زهرا - ۳ سانتی متر

ج) قد مینا - ۵ سانتی متر

د) قد زهرا - ۲ سانتی متر

۱۱. عددها را به صورت نمونه بنویس.

۴۵۲ = ۴۰۰ + ۵۰ + ۲

۶۹۸ = \_\_\_\_\_

۵۰۷ = \_\_\_\_\_

۹۷۰ = \_\_\_\_\_

۱. در یک جعبه مداد، ۶ مداد سبز و ۳ مداد قرمز است.

۵.  $4$  مداد از  $11$  مداد سبز است

۵.  $3$  مداد  $12$  مداد قرمز است.

۲. جاهای خالی را پر کن.



$5$  تا  $3$  تا  $15$  تا می شود



$2$  تا  $4$  تا می شود  $8$

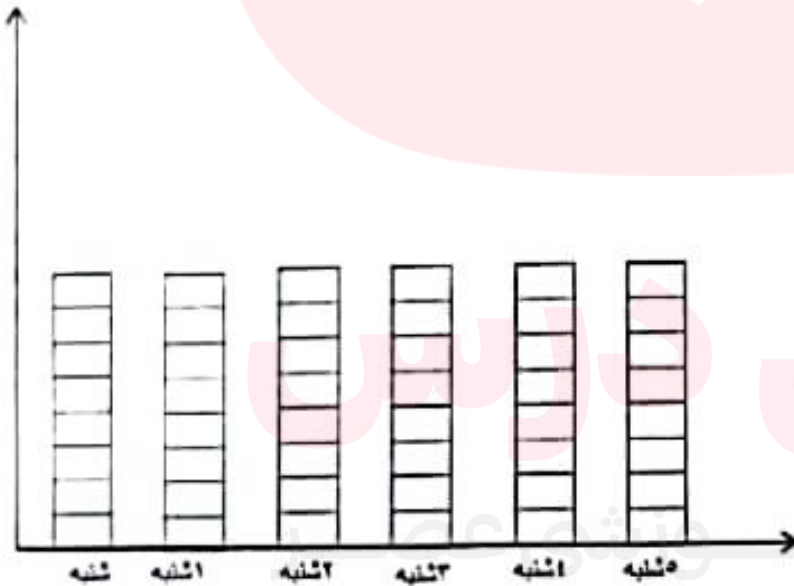
۳. نمودار ستونی ساعت انجام تکالیف خود را در یک هفته با رنگ کردن یک مستطیل کامل کن. (برای هر ساعت یک مستطیل) هر اسامی آموز

با توجه به اطلاعات آموزش کامل کن

✗ در کدام روز بیشترین فعالیت درس را داشته اید؟

✗ در کدام روز کمترین فعالیت درسی را داشته اید؟

✗ آیا روزهای هم اندازه داشته اید؟



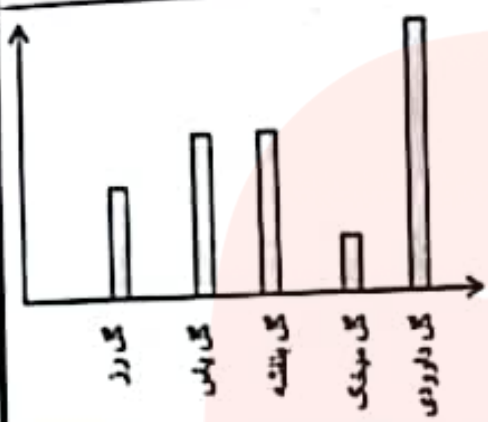
۴ اعداد را در هر مربع مخصوص به خود بنویس.

$14 - 17 - 3 - 15 - 26 - 23 - 50 - 19 - 49 - 11$

فرد  $17 - 3 - 15 - 23 - 19$   
 $49 - 11$

زوج  $14 - 26 - 50$

۵. دو عدد یک رقمی زوج بنویس  $\underline{\quad 2 \quad} \underline{\quad 8 \quad}$   
سه عدد دو رقمی فرد بنویس  $\underline{\quad 22 \quad} \underline{\quad 59 \quad} \underline{\quad 94 \quad}$



۶. با توجه به نمودار جواب بده  
 ۱) کدام گل از همه بیشتر کاشته شده است؟ گل بنفشه  
 ۲) کدام گل از همه کمتر کاشته شده است؟ گل سفید  
 ۳) کدام گل های به اندازه ی هم کاشته شده اند؟ گل بنفشه و سفید

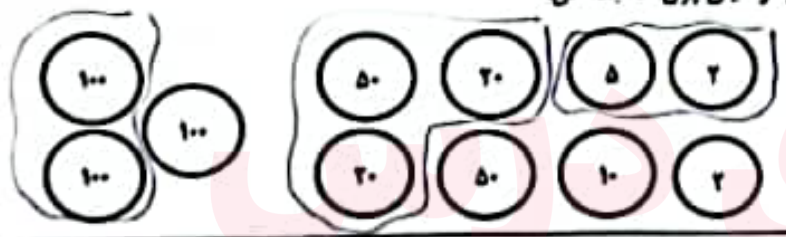
۷. الگو را ادامه بده

۲۲۲ - ۲۲۴ - ۲۲۶ - ۲۲۸ - ۲۴۰ - ۲۴۲ - ۲۴۴  
 ۸۲۲ - ۸۲۵ - ۸۲۷ - ۸۴۹ - ۸۵۱ - ۸۵۳ - ۸۵۵

۸. به مناسبت عید کوچکه را با ۱۹۴ لامپ زرد و قرمز چراغانی کرده اند اگر ۵۶ لامپ قرمز باشد چند لامپ زرد است؟  

$$\begin{array}{r} 194 \\ - 56 \\ \hline 138 \end{array}$$
  
 ۱۳۸ لامپ زرد است.

۹. بیتا می خواهد یک کتاب ۲۷۹ ریالی بخرد مبلغ کتاب را از میان پول ها جدا کن



۱۰. قد زهرا ۱۵۲ سانتی مترو قد مینا ۱۴۹ سانتی متر استم قد کدام یک بلندتر است؟ زهرا چند سانتی متر؟ ۳ سانتی متر

الف) قد مینا - ۳ سانتی متر  ب) قد زهرا - ۳ سانتی متر   
 ج) قد زهرا - ۲ سانتی متر  د) قد مینا - ۵ سانتی متر

۱۱. عددها را به صورت نمونه بنویس [www.my-dars.ir](http://www.my-dars.ir)

۲۵۲ = ۲۰۰ + ۵۰ + ۲  $698 = 400 + 90 + 8$   
 ۵۰۲ = ۵۰۰ + ۲  $170 = 900 + 70$