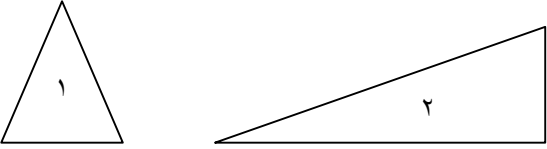

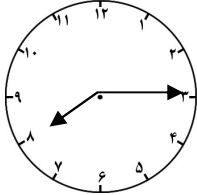
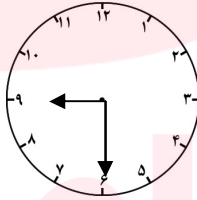
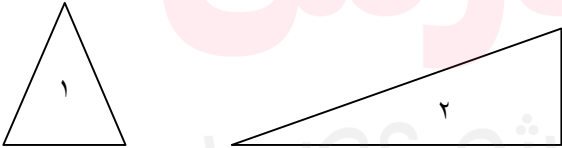


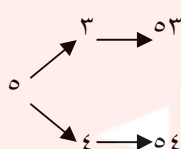
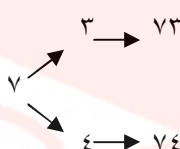
نام و نام خانوادگی		به نام خدا		کلاس دوم ج	
نام و نام خانوادگی		به نام خدا		کلاس دوم ج	
نام و نام خانوادگی		به نام خدا		کلاس دوم ج	
۱	پاسخ صحیح را با علامت X مشخص کنید.	درست <input type="checkbox"/>	نادرست <input type="checkbox"/>	درست <input type="checkbox"/>	نادرست <input type="checkbox"/>
۲	گزینه ی صحیح را با علامت X مشخص کنید. - کدام یک از عددهای زیر ۱ صدتایی ، ۴ ده تایی و ۳ یکی دارد؟ الف (۱۳۴) <input type="checkbox"/> ب (۳۴۱) <input type="checkbox"/> ج (۱۴۳) <input type="checkbox"/> د (۴۱۳) <input type="checkbox"/> - ساعت کلاس ساعت ۸:۱۵ را نشان می دهد . عقربه ی دقیقه شمار روی چه عددی قرار دارد؟ الف (۱) <input type="checkbox"/> ب (۶) <input type="checkbox"/> ج (۳) <input type="checkbox"/> د (۹) <input type="checkbox"/>				
۳	در جای خالی عدد یا عبارت مناسب بنویسید. با کارت ۲ و ۵ عدد دو رقمی می توانیم بنویسیم . با رقم هی ۲ و ۵ عدد دو رقمی می توانیم بنویسیم . ۷ دسته ی ده تایی منهای ۳ دسته ی ده تایی می شود				
۴	مقایسه کنید و علامت مناسب بگذارید (< = >) ۲۲۶ <input type="checkbox"/> ۵۶۷ ۳۰۱ <input type="checkbox"/> ۱۰۳ ۸۹۰ <input type="checkbox"/> ۹۸۰ ۱۰۰ <input type="checkbox"/> ۸۰				
۵	به رقم بنویسید چهارصد و نه هشتصد و هفتاد و پنج				
۶	به حروف بنویسید. ۳۴۹ ۵۰۸				
۷	سکه ی روبرو را می توان با چند سکه ی ۱۰۰ ریالی و چند سکه ی ۱۰ ریالی عوض کرد . 				
۸	زمانی که هر ساعت نشان می دهد را به دو صورت بنویسید .  				

۹	<p>دو شکل زیر هر دو مثلث هستند چه تفاوت و شباهت هایی با هم دارند .</p> <p>تفاوت : شباهت :</p> 
۱۰	<p>جواب جمع و تفریق ها را به صورت تقریبی به دست آورید.</p> <p>۵۳ → ۶۸ → +۲۹ → -۴۱ → _____ _____</p>
۱۱	<p>حاصل جمع و تفریق زیرا از راه فرایندی (چکمه ای ، چکشی) بدست آورید . (با رسم شکل)</p> <p>۲۲ ۶۰ +۵۶ -۱۴ _____ _____</p>
۱۲	<p>همه ی عدد های دو رقمی که رقم یکان آن ۳ و ۴ و رقم دهگان آن ۵ و ۷ باشد را بنویسید.</p>
۱۳	<p>با رقم های ۷ و ۸ چند عدد دو رقمی می توان نوشت ؟ آن ها را بنویسید .</p> <p>.....</p>
۱۴	<p>الف) زهرا ۲۴ صدف از ساحل دریا جمع کرد و به برادرش علی که ۴۹ صدف جمع کرده بود داد حالا برادر زهرا چند صدف دارد؟</p> <p>ب) علی از صدف هایش ۴۵ تا را انتخاب کرد و با آن ها یک کاردستی درست کرد . حالا چند صدف برایش باقی مانده است؟</p>
۱۵	<p>الگوها رو ادامه بده .</p> <p>۵۳۱ - ۵۳۲ - - - - - ۱۰۰ - ۲۰۰ - - - - -</p>

مای دارس

گروه آموزشی عصر

۱	الف (درست ب) نادرست
۲	الف (ج ب) ج
۳	با کارت ۲ و ۵ دو عدد دو رقمی می توان بنویسیم . با رقم های ۲ و ۵ چهار عدد دو رقمی می توانیم بنویسیم . ۷ دسته ی ده تایی منهای ۳ دسته ی ده تایی می شود ۴ دسته ی ده تایی
۴	$۱۰۰ > ۸۰$ $۸۹۰ < ۹۸۰$ $۳۰۱ > ۱۰۳$ $۲۲۶ < ۵۶۷$
۵	۴۰۹ چهارصد و نه ۸۷۵ هشتصد و هفتاد و پنج
۶	سیصد و چهل و نه ۳۴۹ پانصد و هشت ۵۰۸
۷	دو سکه ۱۰۰ ریالی و ۵ سکه ۱۰ ریالی 
۸	نه و نیم هشت و ربع  $۸:۱۵$  نه و نیم $۹:۳۰$
۹	تفاوت : در شکل شماره ۱ ضلع ها مساوی هستند اما در شکل شماره ۲ ضلع ها مساوی نیستند شبهت : هر دو شکل ۳ گوشه و ۳ ضلع دارند 
۱۰	$۵۳ \rightarrow ۵۰$ $۶۸ \rightarrow ۷۰$ $+۲۹ \rightarrow ۳۰$ $-۴۱ \rightarrow ۴۰$ _____ _____ ۸۰ ۳۰ www.my-dars.ir

	$\begin{array}{r} 22 \\ +56 \\ \hline +72 \\ 6 \end{array}$	$\begin{array}{r} 60 \\ -14 \\ \hline +50 \\ 4 \end{array}$	۱۱										
	<table border="1" style="display: inline-table; margin-right: 20px;"> <thead> <tr> <th>یکان</th> <th>دهگان</th> </tr> </thead> <tbody> <tr> <td>۳</td> <td>۵</td> </tr> <tr> <td>۴</td> <td>۵</td> </tr> <tr> <td>۳</td> <td>۷</td> </tr> <tr> <td>۴</td> <td>۷</td> </tr> </tbody> </table>  	یکان	دهگان	۳	۵	۴	۵	۳	۷	۴	۷		۱۲
یکان	دهگان												
۳	۵												
۴	۵												
۳	۷												
۴	۷												
	۸۷ - ۷۸ - ۸۸ - ۷۷	۱۳											
	<p>الف) حالا برادر زهرا ۶۳ صدف دارد.</p> $\begin{array}{r} 14 \\ +49 \\ \hline +54 \\ 9 \end{array}$ <p>ب) علی ۱۸ صدف برایش باقی مانده است.</p> $\begin{array}{r} 63 \\ +40 \\ \hline -23 \\ 0 \\ \hline 18 \end{array}$	۱۴											
	۵۳۱-۵۳۲-۵۳۳-۵۳۴-۵۳۵-۵۳۶-۵۳۷-۵۳۸-۵۳۹-۵۴۰ ۱۰۰-۲۰۰-۳۰۰-۴۰۰-۵۰۰-۶۰۰-۷۰۰-۸۰۰-۹۰۰	۱۵											

مای دررس

گروه آموزشی عصر

www.my-dars.ir