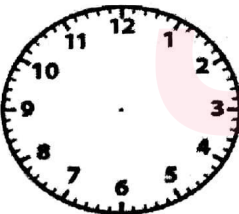

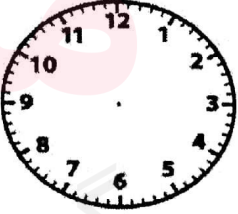







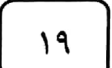
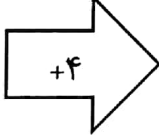
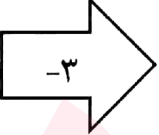
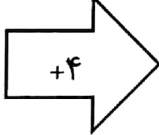
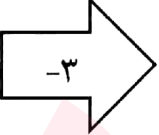




نام درس: ریاضی	باسمه تعالی	تاریخ امتحان: ۱۰۲/۳۱
طراح سوال: سمانه منصوری		مدت پاسخگویی: ۶۰ دقیقه
نام دبیر: سمانه منصوری		پایه و رشته تحصیلی: دوم
نام و نام خانوادگی:		تعداد صفحات: ۲
تعداد سوالات:		مهر مدرسه:

بارم	سوال	ردیف						
	<p>من چه عددی هستم که یکانم بزرگ ترین عدد یک رقمی و دهگانم کوچک ترین عدد یک رقمی و صدگانم ۳ تا از یکانم کمتر است. من را به حروف و رقم بنویس.</p> <p>رقم : ..... حروف : .....</p> <table border="1" style="margin-left: auto; margin-right: auto;"> <tr> <td>ص</td> <td>د</td> <td>ی</td> </tr> <tr> <td></td> <td></td> <td></td> </tr> </table>	ص	د	ی				۱
ص	د	ی						
	<p>با کارت های <span style="border: 1px solid black; padding: 2px;">۹</span> <span style="border: 1px solid black; padding: 2px;">۳</span> <span style="border: 1px solid black; padding: 2px;">۶</span> عددهای سه رقمی بساز که مجموع یکان و دهگان رقم صدگان شود.</p> <p>.....</p>	۲						
	<p>الگوها را ادامه بده.</p> <p>۱۱۴ - ۱۲۴ - ۱۳۴ - ..... - ..... - ..... - ..... - ..... - .....  ۴۸۰ - ۴۸۵ - ۴۹۰ - ..... - ..... - ..... - ..... - ..... - .....  ۱ - ۲ - ۵ - ۱۰ - ..... - .....</p>	۳						
	<p>زمان های نوشته شده زیر هر ساعت را با کشیدن عقربه نشان دهید.</p> <div style="display: flex; justify-content: space-around; align-items: center;"> <div style="text-align: center;">  <p>۳: ۳۷</p> </div> <div style="text-align: center;">  <p>دوازده و ربع</p> </div> <div style="text-align: center;">  <p>ده و نیم</p> </div> </div>	۴						
	<p>تفاوت و شباهت شکل های زیر را بنویس.</p> <div style="display: flex; align-items: center;">  <div style="margin-left: 20px;"> <p>تفاوت : .....</p> <p>.....</p> <p>شباهت : .....</p> <p>.....</p> </div> </div>	۵						

	<p>علامت مناسب &lt; = &gt; بگذار.</p> <p>۱۰ سانتی متر  ۹۶ میلی متر  سی دقیقه  یک ربع </p> <p>۷۵ + ۵۰ + ۵۰ + ۱۰۰ + ۱۰۰ + ۵۲۰  ۵۰۰ + ۲۰ + ۱۰۰ + ۲۰۰ + ۵۰ + ۵</p>	۶
	<p>جمع و تفریق های زیر را به روش خواسته شده حل کن.</p> <p> <math display="block">\begin{array}{r} ۶۸۳ \\ + ۱۶۸ \\ \hline \end{array}</math> <math display="block">\begin{array}{r} ۶۰۳ \\ - ۴۳۴ \\ \hline \end{array}</math>  انتقالی       <math display="block">\begin{array}{r} ۸۳ \rightarrow \dots \\ - ۳۷ \rightarrow \dots \\ \hline \end{array}</math> <math display="block">\begin{array}{r} ۴۶ \rightarrow \dots \\ + ۱۲ \rightarrow \dots \\ \hline \end{array}</math> </p>	۷
	<p>به اعداد زیر دقت کن و اعداد فرد و زوج را در جدول در جای مناسب قرار بده.</p> <p>۲۲۳ - ۵۰ - ۲۹ - ۷۲ - ۵ - ۴۸ - ۳۶ - ۴ - ۳۰۵ - ۲۷ - ۱</p> <p> <input type="text"/> زوج      <input type="text"/> فرد       </p>	۸
	<p>کامل کن.</p> <p>   <input type="text"/>  <input type="text"/> </p> <p> <input type="text"/>  <input type="text"/>  <input type="text"/> </p>	۹
	<p>با توجه به شکل جملات را کامل کن.</p> <p>   </p> <p>..... تا ..... تایی می شود ..... تا ..... قسمت از ..... قسمت صفحه رنگ نشده است.</p> <p>..... تا ..... تایی می شود ..... تا ..... تایی می شود ..... تا .....</p>	۱۰
	<p>مسئله</p> <p>کتاب داستان من ۲۹۶ صفحه دارد ، اگر من شنبه ۹۸ صفحه و امروز ۷۶ صفحه از کتابم را بخوانم. چند صفحه ی دیگر مانده است که نخوانده ام ؟</p>	۱۱

