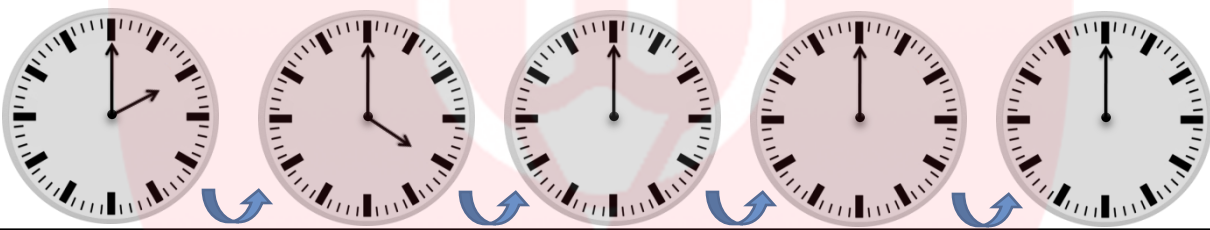
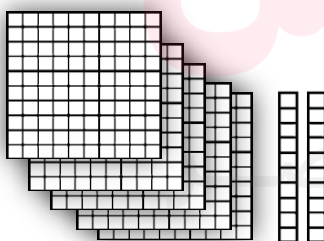


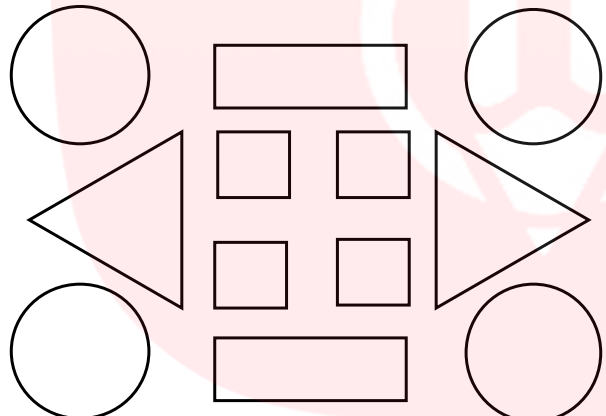
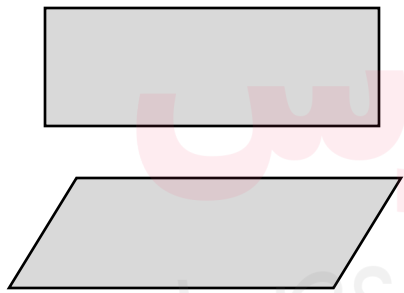


ریاضی

آموزگار: محمدجواد حفیظی

	<p>۱ عددهای دو رقمی بنویسید که یکان آن ها ۴۰۲ و دهگان آن ها ۸۰۵ باشد.</p> <p style="text-align: center;"> <input type="text"/> <input type="text"/> <input type="text"/> <input type="text"/> </p>	۱																		
	<p>۲ جاهای خالی را با توجه به الگوی آن ها پر کنید.</p> <p>۱۷ - ۱۸ - ۱۹ - <input type="text"/> - <input type="text"/> - <input type="text"/> - <input type="text"/> - <input type="text"/></p> <p><input type="text"/> - <input type="text"/> - <input type="text"/> - <input type="text"/> سی و شش - سی و هفت - سی و هشت - سی و نُه</p> <p>۵۵ - ۵۸ - ۶۰ - <input type="text"/> - <input type="text"/> - <input type="text"/> - <input type="text"/></p>	۲																		
	<p>۳ الگوی زیر با کشیدن عقربه نشان بدهید.</p> 	۳																		
	<p>۴ جمع و تفریق های زیر با استفاده از روش گسترده نویسی حساب کنید.</p> <table style="width: 100%; text-align: center;"> <tr> <td>$\begin{array}{r} 46 \\ - 16 \\ \hline \end{array}$</td> <td>$\begin{array}{r} 24 \\ + 24 \\ \hline \end{array}$</td> <td>$\begin{array}{r} 67 \\ - 30 \\ \hline \end{array}$</td> <td>$\begin{array}{r} 20 \\ + 29 \\ \hline \end{array}$</td> </tr> <tr> <td>-----</td> <td>-----</td> <td>-----</td> <td>-----</td> </tr> <tr> <td>-----</td> <td>-----</td> <td>-----</td> <td>-----</td> </tr> </table>	$\begin{array}{r} 46 \\ - 16 \\ \hline \end{array}$	$\begin{array}{r} 24 \\ + 24 \\ \hline \end{array}$	$\begin{array}{r} 67 \\ - 30 \\ \hline \end{array}$	$\begin{array}{r} 20 \\ + 29 \\ \hline \end{array}$	-----	-----	-----	-----	-----	-----	-----	-----	۴						
$\begin{array}{r} 46 \\ - 16 \\ \hline \end{array}$	$\begin{array}{r} 24 \\ + 24 \\ \hline \end{array}$	$\begin{array}{r} 67 \\ - 30 \\ \hline \end{array}$	$\begin{array}{r} 20 \\ + 29 \\ \hline \end{array}$																	
-----	-----	-----	-----																	
-----	-----	-----	-----																	
	<p>۵ عدد مربوط به هر شکل را به عدد و حروف بنویسید</p> <div style="display: flex; justify-content: space-around;"> <div style="text-align: center;">  <table border="1" style="margin: 0 auto;"> <tr><th>صدگان</th><th>دهگان</th><th>یکان</th></tr> <tr><td> </td><td> </td><td> </td></tr> </table> </div> <div style="text-align: center;">  <table border="1" style="margin: 0 auto;"> <tr><th>صدگان</th><th>دهگان</th><th>یکان</th></tr> <tr><td> </td><td> </td><td> </td></tr> </table> </div> <div style="text-align: center;">  <table border="1" style="margin: 0 auto;"> <tr><th>صدگان</th><th>دهگان</th><th>یکان</th></tr> <tr><td> </td><td> </td><td> </td></tr> </table> </div> </div>	صدگان	دهگان	یکان				صدگان	دهگان	یکان				صدگان	دهگان	یکان				۵
صدگان	دهگان	یکان																		
صدگان	دهگان	یکان																		
صدگان	دهگان	یکان																		

	<p>۶ به عدد یا حروف بنویسید</p> <p>دویست و دوازده ۵۴۶</p> <p>۱۰۵ چهارصد بیست و دو</p>
	<p>۷ هر کدام از اعداد داده شده به کدامیک نزدیک تر است؟ داخل آن را رنگ بزنید</p> <p>۲۰ ← ۲۴ → ۳۰</p> <p>۲۵۰ ← ۲۵۷ → ۲۶۰</p> <p>۱۰۰ ← ۱۲۸ → ۲۰۰</p>
	<p>۸ شکل های زیر را طبق راهنما رنگ بزنید.</p> <p>قرمز → مربع</p> <p>آبی → مستطیل</p> <p>زرد → مثلث</p> <p>سبز → دایره</p> 
	<p>۹ تفاوت و شباهت های شکل های زیر را بنویسید.</p> <p>تفاوت:</p> <p>شباهت:</p> 

ارزشیابی آموزگار

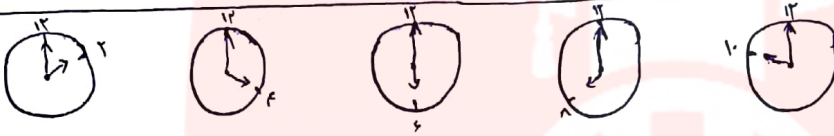
www.my-dars.ir

خیلی خوب
 خوب
 قابل قبول
 نیاز به تلاش بیشتر

۸۴-۸۲-۵۴-۵۲

۱۷-۱۸-۱۹-۲۰-۲۱-۲۲-۲۳-۲۴

سی و شش - سی و هفت - سی و هشت - سی و نه - چهل - چهل و یک - چهل و دو




$\begin{array}{r} ۴۹ \\ ۵۶ \\ \hline -۳۶ \\ ۶ \\ \hline ۲۰ \end{array}$	$\begin{array}{r} ۲۴ \\ ۱۷۴ \\ \hline +۴۴ \\ ۴ \\ \hline ۴۸ \end{array}$	$\begin{array}{r} ۴۷ \\ ۳۰ \\ \hline -۲۷ \\ ۰ \\ \hline ۲۰ \end{array}$	$\begin{array}{r} ۲۰ \\ ۱۲۸ \\ \hline +۴۰ \\ ۹ \\ \hline ۴۹ \end{array}$
---	--	---	--

۶- پانصد و چهل و شش ۵۴۶
 دویست و دوازده ۲۱۲
 چهارصد و بیست و اردو ۴۲۲
 صد و پنج ۱۰۵

۵	۲	۷	۵	۱۲	۷
۳	۷	۵	۳	۷	۵
۳	۰	۳	۳	۰	۳

۲۴ به ۲ نزدیک تر است ۲۵۷ به ۲۶۰ نزدیک تر است ۱۲۸ به ۱۰۰ نزدیک تر است



۹- تفاوت: یکی مستطیل دیگری متوازی الاضلاع است. بابت: همدرد چهارضلعی و از اشکال هندسی هستند