

تاریخ: سوم

تاریخ: ۱۹/۲/۲۰

۱ بارشتم و حروف بنویسید.

سه هزار و چهارصد و نه

۴۰۰۴

۲ بار رقم های (۴، ۳، ۰، ۵، ۶) بزرگ ترین و کوچک ترین عدد ۴ رقمی را بنویسید و مجموع آن را

به دست بیاورید.

مجموع: -----

ب: -----

ک: -----

۳ در جاهای خالی عدد مناسب بنویس.

۳۲۷ سانتی متر برابر است با ----- متر ----- سانتی متر

۹ کیلو متر برابر است با ----- متر / ۱۰۰۰ گرم فنی ----- کیلو ----- گرم

۸ هزار تایی و ۳ ده تایی و ۲ یکی می شود -----

۴ مساحت قسمت رنگ شده را حساب کنید.



مساحت مستطیل: -----

مساحت قسمت رنگ شده: -----

۵ تمام عدد های ۴ رقمی را بنویس که رقم هزارگان آن ۵ و رقم صدگان آن ۳ و رقم دهگان آن ۷ و رقم یکان آن ۰ و ۹ باشد (به صورت شگافای)

۶ علامت < > بگذارید.


$6000 - 2000 \bigcirc 3500 + 1000$

$7500 \bigcirc 4500$ $\frac{3}{7} \bigcirc \frac{2}{7}$ $\frac{1}{4} \bigcirc \frac{1}{8}$ ربع \bigcirc خمس

۷ حاصل عبارت های زیر را بدست بیاورید

$3 \times (2 + 7) = \dots$ $\dots \times \dots = \dots$

$(8 \div 2) \times (34 \div 4) = \dots$ $\dots \times \dots = \dots$



۸ حاصل عبارت های زیر را بدست آورید.

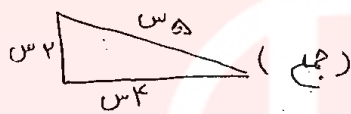
$$\begin{array}{r} 5242 \\ + 1299 \\ \hline \end{array}$$

$$\begin{array}{r} 1541 \\ - 3234 \\ \hline \end{array}$$

$$\begin{array}{r} 534 \\ \times 5 \\ \hline \end{array}$$

$$49 \overline{) 4}$$

۹ محیط شکل های زیر را بدست آورید.



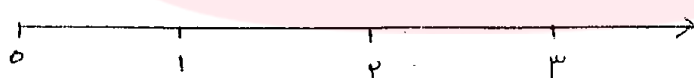
۱۰ سعید در هند ریف از یاغچیهی متدل خود ۴ گل کاشته است.

در ۳ ردف چند گل کاشته است ؟

در ۶ ردف چند گل کاشته است ؟

۲۸ گل در چند ردف می گارد ؟

۱۱ واحد ها روی محور نشان دهید.



۱۲ تعداد کتاب های کتابخانه ی سارینا در جدول آمده است. با توجه به داده های جدول نمودار ستونی را تکمیل کنید.

تولع	داستان	علمی	مذهبی	سرگرمی
تعداد	۲۰	۲۰	۳۰	۱۰

