




سال تحصیلی: نام معلم مربوطه: کاظمی	بسمه تعالی نوبت دوم (خرداد ماه) استان کرمان شهرستان رفسنجان کلاس: دوم	آزمون ریاضی نام و نام خانوادگی: .....
---------------------------------------	--	--

شرح سوال	سوال
<p>تفاوت و شباهت مستطیل و مربع را بنویسید.</p>	<p>۱</p>
<p>در جای خالی عدد مناسب بنویس .          الف) ۵۲ به چه عددی نزدیک تر است ؟          ب) ۷۹ به چه عددی نزدیک تر است ؟ ۷۰ یا ۸۰ ؟          ج) عدد ۱۳۲ به ۱۳۰ نزدیک تر است یا به ۱۴۰ ؟          د) عدد ۲۴۹ به ۲۴۰ نزدیک تر است یا به ۲۵۰ ؟</p>	<p>۲</p>
<p>ساعت چند است ؟ بنویس .          ۱۰ دقیقه بعد از ساعت ۱۰:۰۵ چه ساعتی است ؟          ۱۵ دقیقه بعد از ساعت ۷:۴۵ چه ساعتی است ؟</p>	<p>۳</p> 
<p>قدّ مهران ۱۵۳ سانتی متر است. خواهرش ۱۳ سانتی متر از او بلندتر است. قدّ این دو نفر روی هم چند سانتی متر است ؟</p>	<p>۴</p>
<p>اگر فاطمه ۲۰۰ تا سکه ی ۱ ریالی به بانک تحویل دهد، بانک چند سکه ی ۱۰ ریالی به او می دهد؟</p>	<p>۵</p>
<p>جاهای خالی را پر کنید.          ..... دسته ی ..... تایی می شود .....          ..... دسته ی ..... تایی می شود .....</p>	<p>۶</p> 
<p>اعداد زیر را به رقم و حروف بنویس .          پانصد و هفتاد .....          ششصد و نود و یک .....</p>	<p>۷</p> 
<p>حسین ۴۰۰ ریال و مجید ۳۰۰ ریال را در صندوق انداختند. آن ها با هم چند ریال در صندوق انداخته اند ؟</p>	<p>۸</p>
<p>۴۰ سانتی متر و ۷ میلی متر چند میلی متر است ؟          ۷۸ میلی متر چند سانتی متر و چند میلی متر است ؟</p>	<p>۹</p>

۱۰ با سه کارت که روی آن‌ها رقم‌های ۷ و ۰ و ۹ نوشته شده است. تمام عددهای سه رقمی را که می‌توان ساخت، درست کنید.  
چند عدد سه رقمی درست شد؟

۱۱ حاصل جمع و تفریق‌های زیر را بدست بیاور .

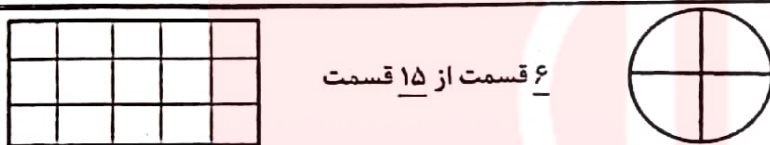
تکنیکی	تکنیکی	فرایندی	فرایندی
۴۲۸	۵۹۲	۴۹۲	۶۵۱
- ۱۱۹	+ ۲۲۱	- ۲۵۱	+ ۲۳۲

۱۲ عدد‌ها را مقایسه کن و علامت مناسب  $< = >$  بگذار .

۳۱۶  ۴۱۵      ۲۰۰ + ۷  ۲۲۰      ۱۰۰ + ۳۰۰  ۲۰۰ + ۲۰۰


۱۳ با توجه به عبارت نوشته شده ، شکل را رنگ بزن .

۲ قسمت از ۴ قسمت      ۶ قسمت از ۱۵ قسمت



۱۴ در جعبه ی مداد رنگی ۲ مداد قرمز ، ۵ مداد آبی و ۳ مداد سبز وجود دارد .

چه کسری از مداد ها قرمز است ؟  
چه کسری از مداد ها آبی است ؟  
چه کسری از مداد ها سبز است ؟



۱۵ تعداد دانش آموزان شرکت کننده در رشته های ورزشی یک باشگاه به صورت زیر است .

رشته	والیبال	بسکتبال	فوتبال	کاراته	شنا	ژیمناستیک
تعداد	۶۳	۴۸	۳۳	۳۴	۴۸	۲۱
تعداد تقریبی	.....	.....	.....	.....	.....	.....

ابتدا تعداد تقریبی دانش آموزان را بنویس و نمودار را با نشان دادن هر ۱۰ نفر با شکل  کامل کن .





ژیمناستیک      شنا      کاراته      فوتبال      بسکتبال      والیبال

بازخورد معلم

خیلی خوب  خوب  قابل قبول  نیاز به تلاش بیشتر

ارزشیابی توصیفی

نام معلم مربوطه: کاظمی	بسمه تعالی نوبت دوم (خرداد ماه) استان کرمان شهرستان رفسنجان کلاس: دوم پاسخنامه	آزمون ریاضی نام و نام خانوادگی: .....							
شرح سوال		ردیف							
شبهات: هر دو شکل ۴ ضلع و ۴ گوشه دارند. تفاوت: در مربع همه ی ضلع ها هم اندازه هستند ولی در مستطیل فقط ضلع های رو به رو هم اندازه هستند.		۱							
الف) ۵۰ (ب) ۸۰ (ج) ۱۳۰ (د) ۲۵۰		۲							
ساعت ۳ و ۴۵ دقیقه ۱۵:۱۰ ده و ربع ۸:۰۰		۳							
$\begin{array}{r} ۱۵۳ \\ \times ۱۳ \\ \hline ۱۶۶ \end{array}$ <p>قد خواهرش</p> $\begin{array}{r} \times ۱۵۳ \\ ۶۶ \\ \hline ۲۱۹ \end{array}$ <p>قد دو نفر روز هم</p>	۳۱۹ سانتی متر	۴							
۲۰ سکه ی ۱۰ ریالی به او می دهند.		۵							
۲ دسته ۵ تایی می شود ۱۰      ۳ دسته ی ۲ تایی می شود ۶		۶							
۹۴۰      ۶۹۱      ۶۰۲      ۵۷۰		۷							
$\begin{array}{r} +۴۰۰ \\ ۳۰۰ \\ \hline ۷۰۰ \end{array}$	آن ها با هم ۷۰۰ ریال در صندوق انداختند.	۸							
۴۷ میلی متر ۷ سانتی متر و ۸ میلی متر		۹							
۴ عدد ۹۰۷ - ۹۷۰ - ۷۹۰ - ۷۰۹		۱۰							
۸۸۳ - ۸۱۳ - ۲۴۱ - ۳۰۹		۱۱							
= < <		۱۲							
 		۱۳							
۲ مداد از ۱۰ مداد قرمز است. ۵ مداد از ۱۰ مداد آبی است. ۳ مداد از ۱۰ مداد سبز است		۱۴							
<p>www.mayart.ir</p> <table border="1" data-bbox="762 1800 1326 1854"> <tr> <td>۲۰</td> <td>۴۰</td> <td>۳۰</td> <td>۳۰</td> <td>۵۰</td> <td>۶۰</td> <td>تعداد تقریبی</td> </tr> </table>		۲۰	۴۰	۳۰	۳۰	۵۰	۶۰	تعداد تقریبی	۱۵
۲۰	۴۰	۳۰	۳۰	۵۰	۶۰	تعداد تقریبی			