

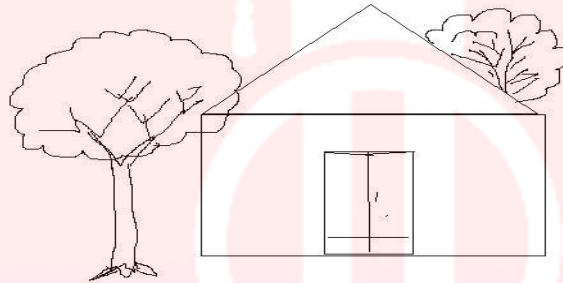
به نام خدا

وزارت آموزش و پرورش

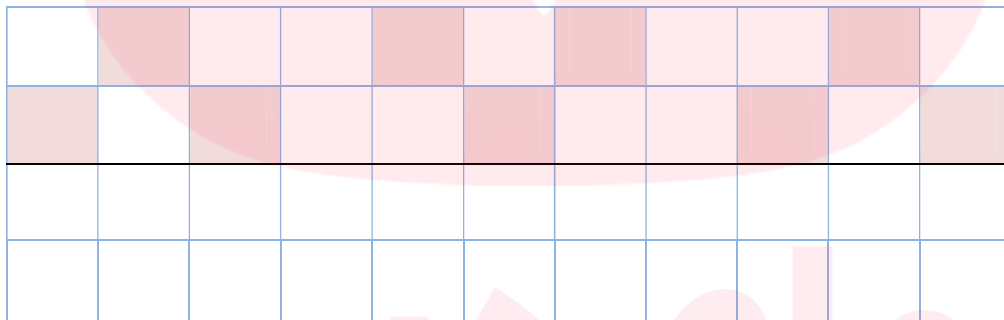
نام و نام خانوادگی :

کلاس : اول دبستان

1- به سوالات با دقت پاسخ دهید: - در سمت چپ در خانه، یک پنجره بکشید. روی پشت بام یک دود کش بکشید. درخت پشت خانه را رنگ کنید.



2- تقارن شکل ها را کامل کنید .



3- الگوها را ادامه بدهید.



گروه آموزشی عصر

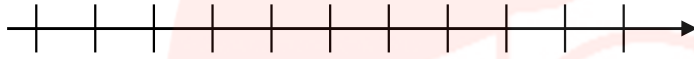
www.my-dars.ir



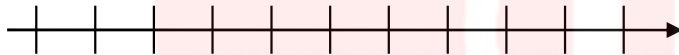
4- حاصل جمع و تفریق های زیر را با رسم شکل و سپس با کمک محور اعداد به دست آورید .

(محور را شماره گذاری کنید .)

$4+5=$



$9-8=$



5- بین اعداد زیر یکی از علامت های $<=>$ را قرار دهید .

9 19

47 36

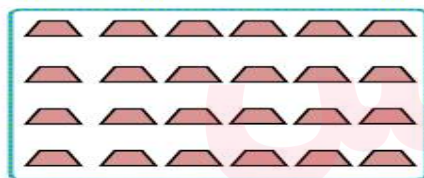
14 17

24 24


10 9

1 0


6- دسته های ده تایی درست کنید و سپس قسمت های مربوطه را کامل نمایید .



ده تایی یکی



ده تایی یکی



ده تایی یکی



ده تایی یکی

www.my-dars.ir

7- حاصل جمع و تفریق های زیر را به دست آورید .

$5+5+5+5+5 =$

$10+10+10+10+10=$

$25+8=$

$6+8=$

$86-24=$

$32+24=$

$12+24+96-85=$

$18+9=$

9- الگو را ادامه بدهید . (تا 5 عدد) .

2-4

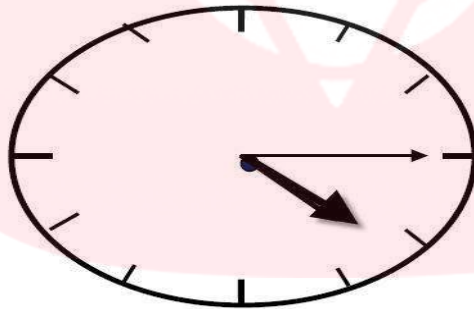
5-10

4-8

7-14

10- جاهای خالی را کامل کن .

کامل کن .



زمان بین ساعت.....و.....می باشد.

ساعت از.....گذشته است.

11- از 47 تا 59 را ادامه بدهید .

47-

12- جاهای خالی را با توجه به کلمات داخل پرانتز کامل کن . (سبک تر - سنگین تر - بلند تر - کوتاه تر) .

درخت از گل است .

سیب از هندوانه است .

13- حسین 17 بوته ی گوجه فرنگی داشت 8 تا از آن ها خشک شد چند بوته سالم مانده است ؟ (با رسم شکل)