



سوال	شرح سوال																				
۱	جاهای خالی را کامل کن. <table border="1" style="display: inline-table; margin-right: 20px;"> <tr> <td>یکان</td> <td>دهگان</td> <td>صدگان</td> </tr> <tr> <td>.....</td> <td>.....</td> <td>.....</td> </tr> </table> ۸۳۲ <table border="1" style="display: inline-table; margin-left: 20px;"> <tr> <td>یکان</td> <td>دهگان</td> </tr> <tr> <td>.....</td> <td>.....</td> </tr> </table> ۵۹	یکان	دهگان	صدگان	یکان	دهگان										
یکان	دهگان	صدگان																			
.....																			
یکان	دهگان																				
.....																				
۲	حاصل جمع های زیر را بدست بیاور. $۸ + ۱۰ + ۳۰ + ۵ + ۵ = \dots\dots\dots$ $۲۰ + ۱۵ + ۳۰ + ۵ + ۱۵ = \dots\dots\dots$																				
۳	در جای خالی عدد مناسب بنویس. الف) ۵۲ به چه عددی نزدیک تر است؟ ۴۰ یا ۵۰؟ ب) ۷۹ به چه عددی نزدیک تر است؟ ۷۰ یا ۸۰؟																				
۴	ساعت چند است؟ بنویس.  ساعت و دقیقه																				
۵	اشکال زیر را رسم کن و تعداد ضلع ها و گوشه های هر یک را بنویس. <table border="1" style="width: 100%; text-align: center;"> <tr> <td>دایره</td> <td>مثلث</td> <td>مربع</td> <td>مستطیل</td> <td>رسم شکل</td> </tr> <tr> <td> </td> <td> </td> <td> </td> <td> </td> <td> </td> </tr> <tr> <td> </td> <td> </td> <td> </td> <td> </td> <td>تعداد ضلع</td> </tr> <tr> <td> </td> <td> </td> <td> </td> <td> </td> <td>تعداد گوشه</td> </tr> </table>	دایره	مثلث	مربع	مستطیل	رسم شکل										تعداد ضلع					تعداد گوشه
دایره	مثلث	مربع	مستطیل	رسم شکل																	
				تعداد ضلع																	
				تعداد گوشه																	
۶	کیسه ها را بشمار و بنویس چند ریال است. <table border="1" style="display: inline-table; margin-right: 20px;"> <tr> <td>۱۰۰</td> <td>۱۰۰</td> <td>۱۰۰</td> </tr> <tr> <td>۱۰</td> <td>۱۰</td> <td>۱۰</td> <td>۱۰</td> <td>۱۰</td> </tr> <tr> <td>۱</td> <td>۱</td> <td>۱</td> </tr> </table> ریال <table border="1" style="display: inline-table; margin-left: 20px;"> <tr> <td>۱۰۰</td> </tr> <tr> <td>۱۰</td> <td>۱۰</td> <td>۱۰</td> </tr> <tr> <td>۱</td> <td>۱</td> <td>۱</td> <td>۱</td> </tr> </table> ریال	۱۰۰	۱۰۰	۱۰۰	۱۰	۱۰	۱۰	۱۰	۱۰	۱	۱	۱	۱۰۰	۱۰	۱۰	۱۰	۱	۱	۱	۱	
۱۰۰	۱۰۰	۱۰۰																			
۱۰	۱۰	۱۰	۱۰	۱۰																	
۱	۱	۱																			
۱۰۰																					
۱۰	۱۰	۱۰																			
۱	۱	۱	۱																		
۷	اعداد زیر را به رقم و حروف بنویس. پانصد و هفتاد ۶۰۲ ششصد و نود و یک ۹۴۰																				
۸	حسین ۴۰۰ ریال و مجید ۳۰۰ ریال را در صندوق انداختند. آن ها با هم چند ریال در صندوق انداخته اند؟																				
۹	خط های زیر را با خط کش اندازه بگیر و بنویس چند میلی متر است.  میلی متر میلی متر																				

با عدد های ۲، ۵، تا می توانی اعداد ۳ رقمی بنویس و دور آن هایی که یکان آن ها ۲ است خط بکش.

۱۰

حاصل جمع و تفریق های زیر را بدست بیاور.

فرایندی	تکنیکی	فرایندی	تکنیکی
۶۵۱	۵۹۲	۴۹۲	۴۲۸
+ ۲۳۲	+ ۲۲۱	- ۲۵۱	- ۱۱۹

۱۰۰ + ۳۰۰ ۲۰۰ + ۲۰۰

۲۰۰ + ۷ ۲۲۰

۳۱۶ ۴۱۵



۶ قسمت از ۱۵ قسمت



با توجه به عبارت نوشته شده، شکل را رنگ بزن.
۲ قسمت از ۴ قسمت

۱۱

۱۲

۱۳

در جعبه ی مداد رنگی ۲ مداد قرمز، ۵ مداد آبی و ۳ مداد سبز وجود دارد.
چه کسری از مداد ها قرمز است؟
چه کسری از مداد ها آبی است؟
چه کسری از مداد ها سبز است؟

تعداد دانش آموزان شرکت کننده در رشته های ورزشی یک باشگاه به صورت زیر است.

رشته	والیبال	بسکتبال	فوتبال	کاراته	شنا	ژیمناستیک
تعداد	۶۳	۴۸	۳۳	۳۴	۳۸	۲۱
تعداد تقریبی

ابتدا تعداد تقریبی دانش آموزان را بنویس و نمودار را با نشان دادن هر ۱۰ نفر با شکل کامل کن.

گروه آموزشی عصر

موفق باشید

www.my-dars.ir

ژیمناستیک شنا کاراته فوتبال بسکتبال والیبال

ریاضی - دوم - امتحان غیر دولتی دخترانه سوندر

شماره سوال	پاسخ	نمره
۸	۳	۲

شماره سوال	پاسخ
۵	۹

پاسخ ۱

$$۸ + ۱۰ + ۲۰ + ۵ + ۵ = ۵۸$$

پاسخ ۲

$$۲۰ + ۱۵ + ۳۰ + ۵ + ۱۵ = ۸۵$$

الف) به عدد ۵۰

پاسخ ۳

ب) به عدد ۸۰

پاسخ ۴



ساعت ۲:۰۰ در ساعت



ساعت ۲:۴۵ در ساعت

پاسخ ۵

شکل	مستطیل	مربع	مثلث	دایره
رسم شده				
تعداد ضلع	۴	۴	۳	۰
تعداد گوشه	۴	۴	۳	۰

پاسخ ۶



۳۵۲



۱۳۳

www.my-dars.ir

باسم ٧

تعداد در حد ٤٥٢ - ٥٧٠
تعداد در حد ٤٩٢ - ٤٥

400
+ 300

700

٧٠٠ در حد ٤٥٢ و ٤٩٢
از آنجا که

باسم ٨

باسم ٩

٤٥ - ٤٥
٤٠ - ٤٠

باسم ١٠

٥١٩ - ٥٩٢ - ٢٨٩ - ٢٩٥ - ٩٢٥ - ٩٥٢

باسم ١١

451
+ 222

452
+ 272

724
+ 11

813

٩
٥٩٢
+ ٢٢٢

٨١٣

492
- 251

241
- 79

162
- 1

161

18
498
- 119

309

باسم ١٢

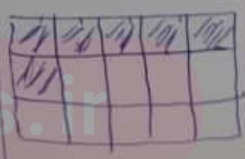
100 + 300 < 200 + 200 200 + 7 < 220 214 < 275

باسم ١٥

باسم ١٤

رتبه	در حد	تعداد	در حد	تعداد	در حد	تعداد
٢١	٢٨	٢٤	٢٢	٢٨	٢٣	٢١
٢٠	٢٥	٢٥	٢٥	٢٥	٢٥	٢٥

2/10 = مرتبه
5/10 = 5
3/10 = مرتبه



تعداد: ٢٢

تعداد: ١٥