

نام و نام خانوادگی دانش آموز:

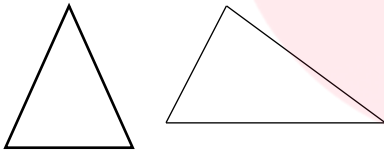
پایه دوم

موضوع: ارزشیابی ریاضی (دی ماه)

۱- عدد ۳۰۹ را در جدول ارزش مکانی قرار دهید و برای آن شکل بکشید و به حروف بنویسید.

۲- چند عدد دورقمی می توان نوشت که رقم یکانش ۵ و ۴ و رقم دهگان ۶ و ۷ و ۸ باشد؟

۳- دختر گلم تفاوت و شباهت شکل های زیر را بنویسید.



۴- نازنینم الگو های عددی زیر را ادامه بده.

..... - - - ۳-۶-۹

..... - - - ۲-۴-۸-۱۶

..... - - - ۳۸-۴۱-۴۴

..... - - - ۲۵-۳۰

www.my-dars.ir

۵- حاصل جمع و تفریق های زیر را به روش های خواسته شده بنویسید.

$$\begin{array}{r} 76 \\ + \\ 19 \\ \hline \end{array}$$

(فرایندی)

$$\begin{array}{r} 51 \\ - \\ 30 \\ \hline \end{array}$$

(فرایندی)

(تقریبی)

۷۱ →

(تقریبی)

۵۲ →

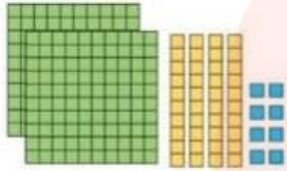
(تقریبی)

+

۲۴ →

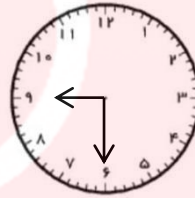
۲۵ →

۶- عزیز دلم جدول را با توجه به شکل کامل کن و عدد را به صورت گسترده بنویس.



صدتایی	ده تایی	یکی

۷- عزیزم ساعت ها را با توجه به موارد خواسته شده کامل کن.



.....:

..... :

..... و دقیقه

..... و

یا و

یا یک ربع مانده به ۷

۸- دلبندم به رقم و حروف بنویس.

سیصد و چهل و هشت

..... ۲۰۹

چهارصد و دو

..... ۳۷۵

پانصد و شصت و دو

..... ۴۵۷

www.my-dars.ir

۹- مقدار سکه های سارا را حساب کنید.



۱۰- اگر فاطمه ۲۰۰ سکه ۱ ریالی به بانک تحویل دهد بانک چند سکه ۱۰ ریالی به او می دهد؟

۱۱- سارا ساعت ۳ بعدازظهر خوابید او یک ساعت و نیم خواب بود سارا ساعت چند از خواب بیدار شد؟

مای دررس

گروه آموزشی عصر

www.my-dars.ir

پایه دوم

نام و نام خانوادگی دانش آموز:

موضوع: ارزشیابی ریاضی (دی ماه)

۱- عدد ۳۰۹ را در جدول ارزش مکانی قرار دهید و برای آن شکل بکشید و به حروف بنویسید.

دهگان	یکان	صدها
۳	۰	۹

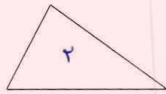


سهصد و نُه

۲- چند عدد دورقمی می توان نوشت که رقم یکانش ۴ و ۵ و رقم دهگانش ۶ و ۷ و ۸ باشد؟

دهگان	یکان
۸	۴
۸	۵
۷	۴
۷	۵
۶	۴
۶	۵

۳- دختر گلم تفاوت و شباهت شکل های زیر را بنویسید.



شباهت: هر دو مثلث همنسب هستند هر دو سه ضلع و سه گوشه دارند.

تفاوت: مثلث شماره ۱ مربعی است اما مثلث شماره ۲ اندازه ضلع هایش مربعی دارد پس اندازه

۴- خانزینم الگو های عددی زیر را ادامه بده.

۱۸ - ۱۵ - ۱۲ - ۹ - ۶ - ۳

۴۴ - ۳۲ - ۲۲ - ۱۴ - ۸ - ۴

۴۴ - ۴۱ - ۳۸ - ۳۵ - ۳۲ - ۲۹

۳۰ - ۲۵ - ۲۰ - ۱۵ - ۱۰

۵- حاصل جمع و تفریق های زیر را به روش های خواسته شده بنویسید.

(فرایندی)

$$\begin{array}{r} 76 \\ + 19 \\ \hline 95 \end{array}$$


(فرایندی)

$$\begin{array}{r} 51 \\ - 30 \\ \hline 21 \end{array}$$

$$\begin{array}{r} 52 \rightarrow 50 \\ - 25 \\ \hline 25 \end{array} \quad (\text{تقریبی})$$

$$\begin{array}{r} 71 \rightarrow 70 \\ + 20 \\ \hline 24 \rightarrow 90 \end{array} \quad (\text{تقریبی})$$

۶- عزیز دلم جدول را با توجه به شکل کامل کن و عدد را به صورت گسترده بنویس.



صدتایی	ده تایی	یکی
۲	۴	۸

$$248 = 200 + 40 + 8$$

۷- عزیزم ساعت ها را با توجه به موارد خواسته شده کامل کن.



۴ : ۴۵

چهارصد و پنجاه و پنج (رقم)

یا یک ربع مانده به ۵



۹ : ۳۰

نُه و سی دقیقه

یا ۹ و نیم

۸- دلبندم به رقم و حروف بنویس.

۲۰۹ سیصد و نُه

۴۰۲ چهارصد و دو

۵۹۲ پانصد و نُه و دو

۲۰۹ بیست و نُه

۳۷۵ سیصد و هفتاد و پنج

۴۵۷ چهارصد و پنجاه و هفت

گروه آموزشی عصر

www.my-dars.ir

۹- مقدار سکه های سارا را حساب کنید.



$$400 + 100 + 4 = 454 \text{ ریال}$$

۱۰- اگر فاطمه ۲۰۰ سکه ۱ ریالی به بانک تحویل دهد بانک چند سکه ۱۰ ریالی به او می دهد؟ ۲۰ سکه ۱۰ ریالی می شود

۲۰۰ ریال

۱۱- سارا ساعت ۳ بعد از ظهر خوابید او یک ساعت و نیم خواب بود سارا ساعت چند از خواب بیدار شد؟ ۴:۴۰ یا ۴:۴۵

مای دارس

گروه آموزشی عصر

www.may-dars.ir