

۱- دو شکل بعدی هر الگو را بکش.



۲- جدول را با شکل و عدد مناسب کامل کن.

۲	۱	۴	۳
۳			۲
۱			۴
۴	۳	۲	۱

△		□	☆
	☆		○
○		☆	△
☆	△	○	




△	○	□
	△	○
	□	

۳- از ۰ تا ۲۰ بنویس.

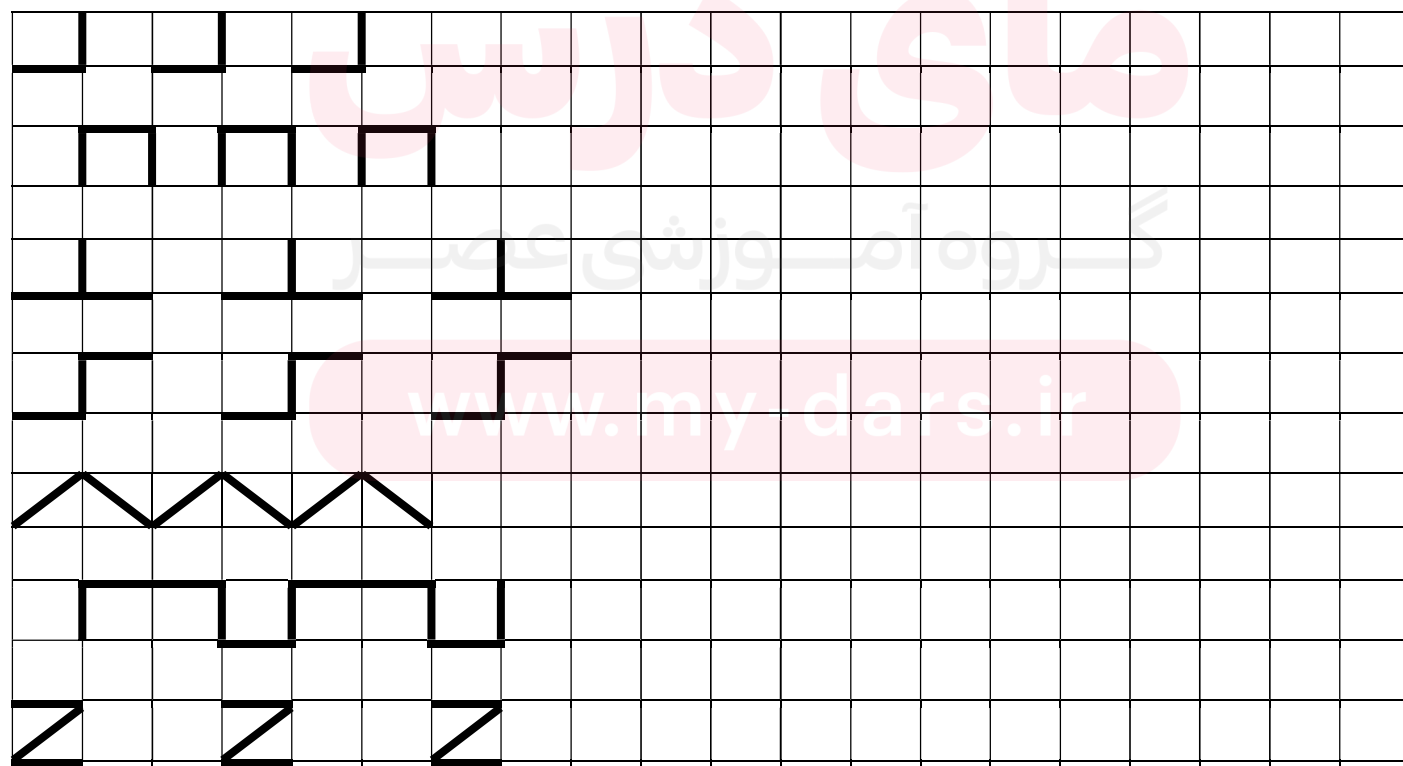
---

---

۴- عدد مناسب هر شکل را بنویس.



۵- الگوها را به همین ترتیب ادامه بده.



۶- بشمار و بنویس و بین دو عدد یکی از علامت های < = > بگذار.

○	□	○	○	□	○

۷- جدول زیر را با توجه به ردیف ها و ستون ها کامل کن.

۳	۱	۲		۹	۵	۴	۷	۶
۵	۶	۹	۱		۷	۳	۸	۲
۴	۸	۷	۲	۶		۵	۱	۹
۹	۵	۱	۷	۳	۶		۴	۸
۷	۲	۸	۵	۱	۴	۶		۳
۶	۳	۴	۹	۸	۲	۱	۵	
	۴	۵	۶	۷	۹	۸	۳	۱
۱		۶	۳	۵	۸	۹	۲	۴
۸	۹		۴	۲	۱	۷	۶	۵

۵	۱	۴	۳	۲	۶
۶	۳			۴	۵
۴	۶			۱	۲
۱	۲	۵	۴	۶	۳
۲	۵			۳	۴
۳	۴	۶	۲	۵	۱

۸- عدد مربوط به هر شکل را بنویس. با چوب خط حساب کن و حاصل جمع را بنویس.

	+		=	□	..... + ..... = .....
	+		=	□	..... + ..... = .....

۹- تفریق های زیر را انجام بده.

	-		=	□		..... - ..... = .....
--	---	--	---	---	--	-----------------------

۱۰- در جاهای خالی عدد مناسب بنویس.

۳ - ۶ - ۹ -		۶ - ۸ - ۱۰ -
+۳   +۳   +۳   +۳		+۲   +۲   +۲   +۲