

خرداد

معلم مربوطه: انسیه یوسفی

مداد کاغذی ریاضی (نوبت دوم)

مدت آزمون: ۴۵ دقیقه

شهرستان بهشهر

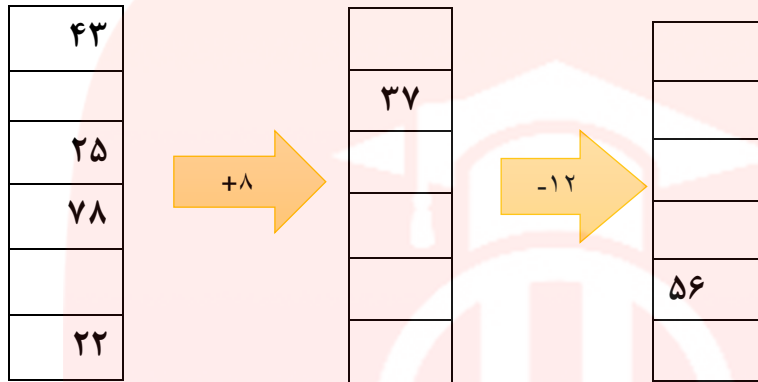
دوم دبستان

مقیاس	سوال	ردیف
	<p>۱-درستی و نادرستی جمله های زیر را مشخص کنید.</p> <p>الف) با رسم کردن نمودار های ستونی مقایسه کردن ساده تر میشود. درست <input type="checkbox"/> نادرست <input type="checkbox"/></p> <p>ب) عدد ۵۲ را می توان به صورت ۲ ده تایی و ۵ قسمت از ده قسمت بیان کرد. درست <input type="checkbox"/> نادرست <input type="checkbox"/></p>	
	<p>۲-گزینه ی صحیح را انتخاب کنی</p> <p>الف) کدام عدد زیر زوج نیست؟</p> <p><input type="checkbox"/> ۴۵۲ <input type="checkbox"/> ۷۸۶ <input type="checkbox"/> ۵۶۱ <input type="checkbox"/> ۱۷۰</p> <p>ب) یک ساعت چند تا ۳۰ دقیقه است؟</p> <p>دو تا <input type="checkbox"/> سه تا <input type="checkbox"/> چهار تا <input type="checkbox"/> یکی <input type="checkbox"/></p>	
	<p>۳-جاهای خالی را پر کنید.</p> <p>الف) ۷۹ میلی متر یعنی سانتی متر و میلی متر</p> <p>ب) ۸۰ سانتی متر و ۹ میلی متر یعنی میلی متر</p> <p>ج) به وسیله ی و می توانیم اندازه ی دقیق و یکسان هر چیزی را مشخص کنیم.</p>	
	<p>۴-به سوال زیر پاسخ کوتاه دهید.</p> <p>الف) به جای <input type="text"/> چه عددی می توان قرار داد؟</p> <p>ب) عبارت $(۲+۸۰+۹۰۰)$ باز شده ی کدام عدد است؟</p> <p>ج) با کارت های ۴ و ۷ و ۳ چند عدد سه رقمی بزرگتر از ۶۰۰ می توان نوشت؟</p> <p>$۷۸ = ۲۷ + \square$</p>	
		یادداشت معلم:
		نظر اولیا:
		مقیاس نگاره ای تو صیفی: کار خیلی خوب است و هیچ نیازی به نظارت ندارد (خ خ) - کار خوب است و به ندرت تیز به نظارت دارد (خ ن) - کار خوب است و گاه گاه نیاز به نظارت دارد (خ گ) کار قابل قبول است (ق ق) کار ضعیف است (ن ن) احتیاج به نظارت دارد (ق ق) کار ضع.

۵- برای عبارت های زیر شکل بکش
دو دسته ی نه تایی

چهار دسته ی شش تایی

۶- ماشین ورودی و خروجی زیر را کامل کن.



۷- آیدا ۵ سکه ی صد ریالی و ۷ سکه ی ده ریالی و ۹ سکه ی یک ریالی داشت . او یک بستنی به قیمت ۱۵۶ ریال و یک کیک به قیمت ۲۷۴ خرید.(تکنیکی)
الف) آیدا چند ریال از پولش را خرج کرده است؟
ب) چقدر از پولش باقی ماند؟

۸- یک عدد سه رقمی بنویس که یکان آن بزرگ ترین عدد زوج و صدگان آن کوچک ترین عدد فرد و دهگان صفر باشد.

۹- تعداد کتاب های دبستان خوارزمی و موضوع آن ها در جدول زیر مشخص شده است.

نمودار تصویری زیر را کامل کنید.

شعر	داستانی	علمی	موضوع کتاب
۱۸	۲۹	۵۶	تعداد کتاب
			مقدار تقریبی

● = ۱۰ کتاب

www.my-dars.ir

۱- الف صحیح (ب) غلط

۲- الف (۵۶ ب) دوتا

۳- الف (۷ سانتی متر و ۹ میلی متر ب) ۸۰۹ میلی متر ج) خط کش و متر

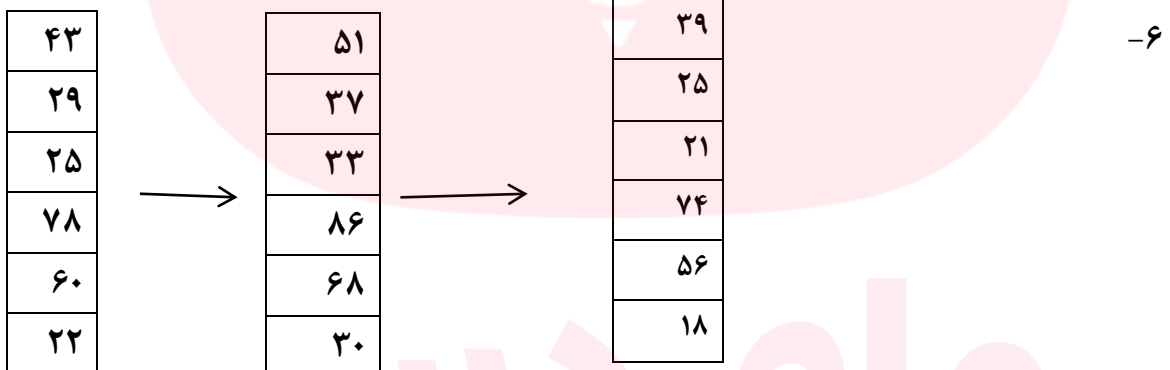
۴- الف (۵۱ ب) ۹۸۲ ج) ۷۳۴ و ۷۴۳

۵-

دو دسته ی ۹ تایی

چهاردسته ی شش تایی

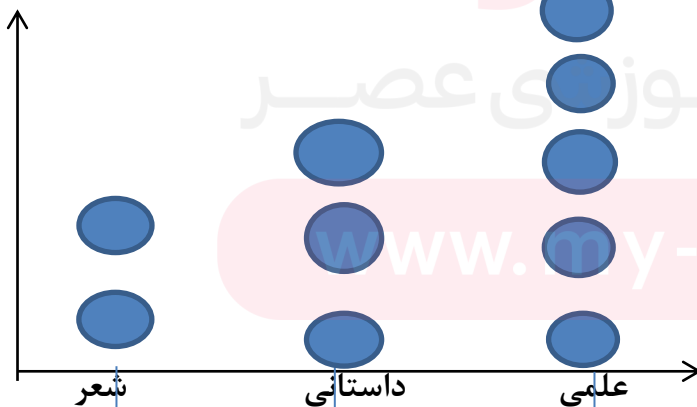
چهاردسته ی شش تایی



۷- الف (۴۳۰ ریال ب) ۱۴۹ ریال

۸- ۱۰۸

۹-



علمی	داستانی	شعر
۵۶	۲۹	۱۸
۶۰	۳۰	۲۰