
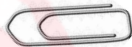


۱- گلم با توجه به خورشید کدام سایه برای درخت درست است؟ دور آن خط بکش.



۲- کدام شکل زیر در آب فرو میرود؟ دور آن خط بکش.



۳- وقتی فردی ناشنوا است از کدام عضو محروم است؟



۴- مهمترین وسیله شخصی کدام است؟



۵- کدام شکل نشان دهنده ی غذای غیر مفید است؟ روی آن خط بزن.



www.my-dars.ir





۶- کدام موجود غیر زنده است؟





۷- کدام جانور زیر وحشی است؟ دور آن خط بکش.

۸- کدام جانور برای ما مشکلاتی ایجاد می کند؟



۹- کدام قسمت گیاه وظیفه غذاسازی را برعهده دارد؟



۱۰- کدام ریشه خوراکی است؟



اهداف	بلی	خیر	عملکرد دانش آموز
۱- محل تشکیل سایه را بر اساس نور تشخیص می دهد.			
۲- می داند کدام اشیا در آب فرو می رود.			
۳- می داند گوش عضوی برای شنوایی است.			
۴- مهمترین وسیله بهداشت فردی را می شناسد.			
۵- موجود زنده را از غیر زنده تشخیص می دهد.			
۶- غذای مفید و غیر مفید را تشخیص می دهد.			
۷- حیوان وحشی را از اهلی تشخیص می دهد.			
۸- جانوران مضر را می شناسد.			
۹- می داند برگ وظیفه غذا سازی را برعهده دارد.			
۱۰- می داند هویج ریشه خوراکی است.			