


به نام خدا

ارزشیابی ریاضی کلاس اول

نام و نام خانوادگی : .....

۱- شکل های مثل هم را داخل خط بسته بگذار.



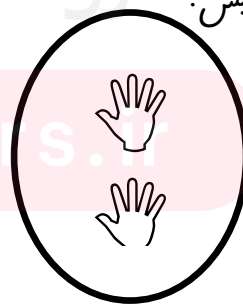


۲- گل های ست راست خانه را رنگ کن.



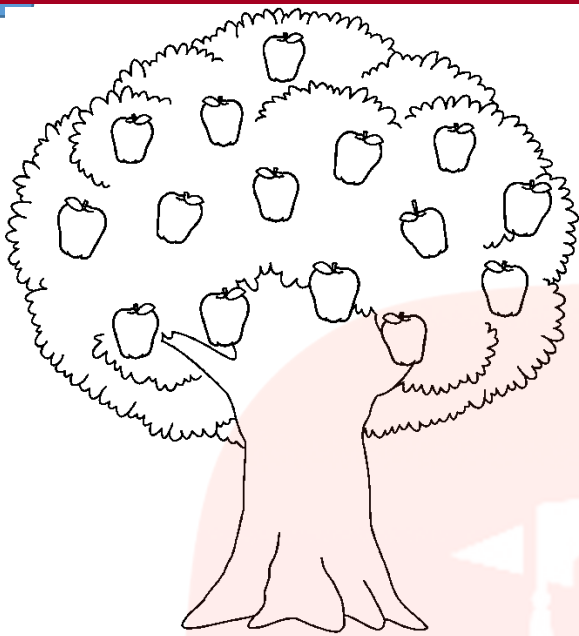
۳- دختری را که به ست چپ می رود رنگ کن.



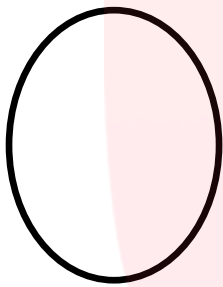
۴- عدد هر دسته را بنویس.




۵- همان اندازه که گل می بینی از سیب ها رنگ کن.



۶- برای هر عدد شکل مناسب بکش.




۲



۸



۶




۳


۷- جدول شگفت انگیز را کامل کن.

	۱	۳	۵	۴
۳	۲		۴	۱
۴		۲	۱	۵
۵	۴	۱		۳
۱	۵	۴	۳	


۸- دور عدد مناسب خط بکش.



۷ - ۶ - ۵



۲ - ۴ - ۳




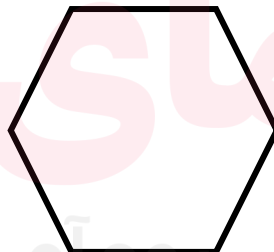
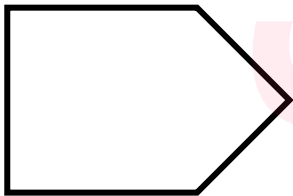
۶ - ۷ - ۸

۹- در جای خالی عدد مناسب بنویس.

		۲		۴		۶		۸
--	--	---	--	---	--	---	--	---

.			۳				۷	
---	--	--	---	--	--	--	---	--

۱۰- هر شکل چند گوشه دارد؟ عدد آن را بنویس.







www.my-dars.ir

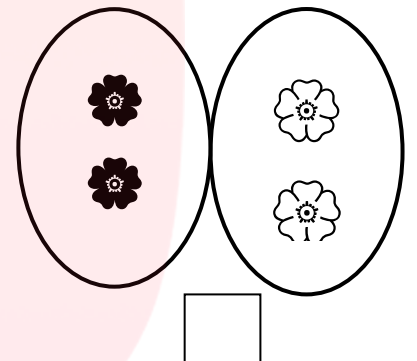
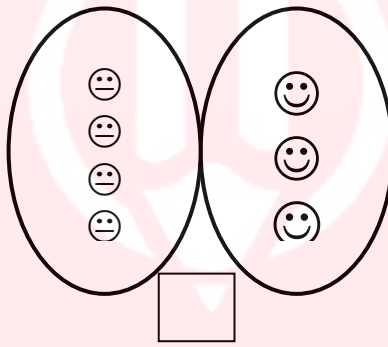
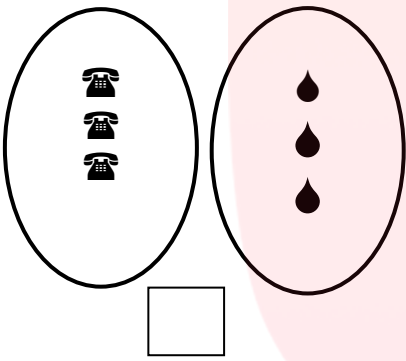
۱۱- الگو را ادامه بده.



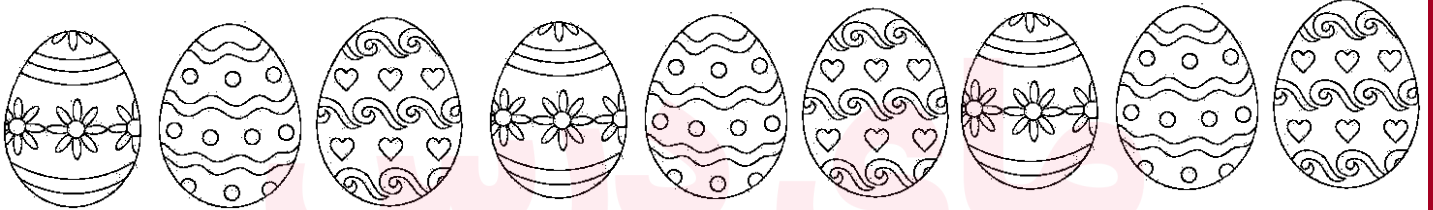
۱۲- عدد هر دسته را بنویس و شکل های دسته ی بیشتر را رنگ کن.




۱۳- شکل های هر دو دسته روی هم چندتا می شوند؟ با عدد نشان بده.



۱۴- ششین شکل از ست راست را رنگ کن.



باز خورد آموزگار :

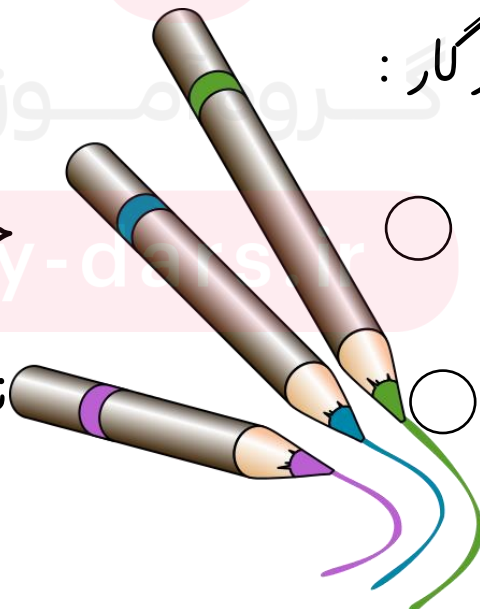


خوب

خیلی خوب

نیاز به تلاش

قابل قبول




به نام خدا

ارزشیابی ریاضی کلاس اول

نام و نام خانوادگی : .....

۱- شکل های مثل هم را داخل خط بسته بگذار.



۲- گل های ست راست خانه را رنگ کن.




۳- دختری را که به ست چپ می رود رنگ کن.



سمت چپ




۴- عدد هر دسته را بنویس.



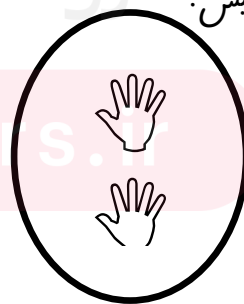
۴



۷

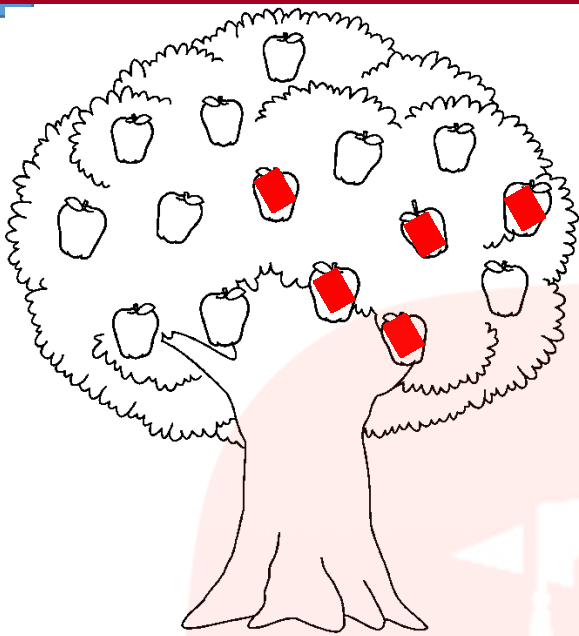


۵

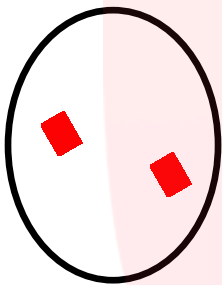


۲


۵- همان اندازه که گل می بینی از سیب ها رنگ کن.




۶- برای هر عدد شکل مناسب بکش.




۲



۸



۶




۳


۷- جدول شگفت انگیز را کامل کن.

۲	۱	۳	۵	۴
۴	۲	۵	۴	۱
۴	۳	۲	۱	۵
۵	۴	۱	۲	۴
۱	۵	۴	۳	۲


۸- دور عدد مناسب خط بکش.



۵ - ۶ - ۷


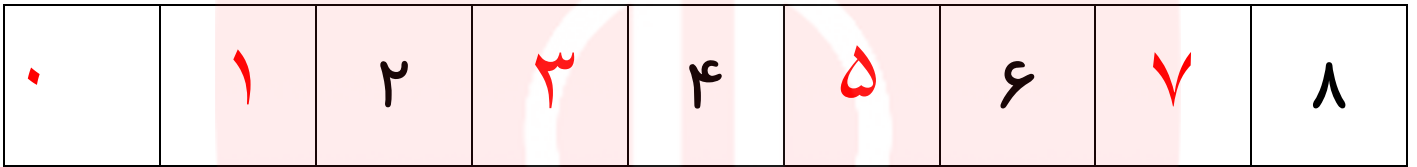


۲ - ۳ - ۴

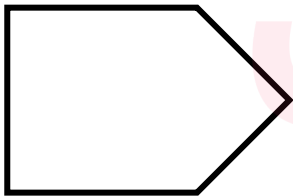


۶ - ۷ - ۸

۹- در جای خالی عدد مناسب بنویس.



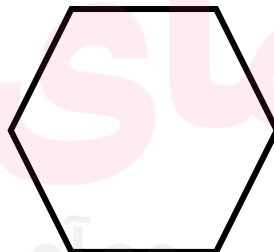
۱۰- هر شکل چند گوشه دارد؟ عدد آن را بنویس.




۵



۴



۶



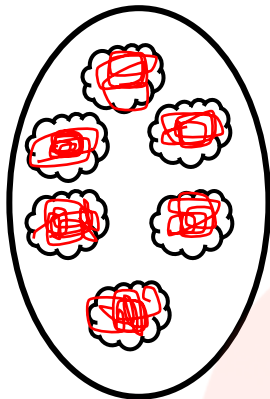
۳

www.my-dars.ir


۱۱- الگو را ادامه بده.




۱۲- عدد هر دسته را بنویس و شکل های دسته ی بیشتر را رنگ کن.




۶



۵

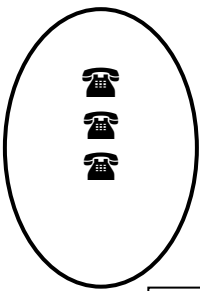


۶




۴


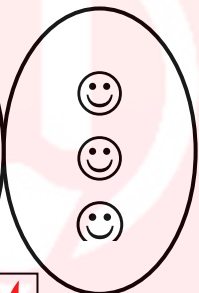
۱۳- شکل های هر دو دسته روی هم چندتا می شوند؟ با عدد نشان بده.




۶



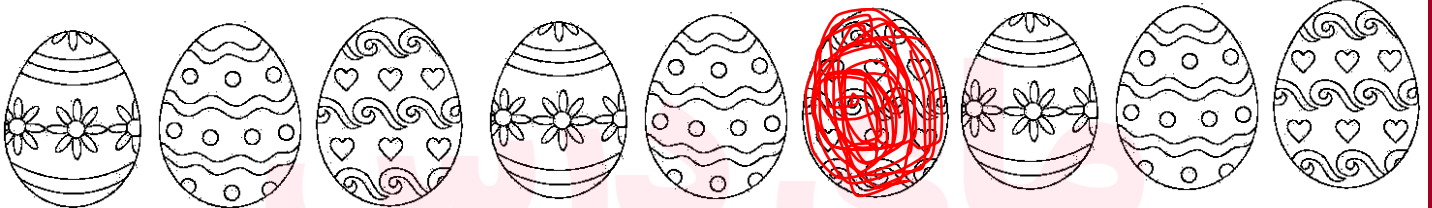
۷




۴



۱۴- ششین شکل از ست راست را رنگ کن.



باز خورد آموزگار :



خوب

خیلی خوب

نیاز به تلاش

قابل قبول

