

نام و نام خانوادگی :

۱- ارزش سکه ها را بنویس.



ریال .....

۲- جمع و تفریق را به صورت تکنیکی (انتقال) انجام بده.

$$\begin{array}{r} 456 \\ + \\ 185 \\ \hline \end{array}$$

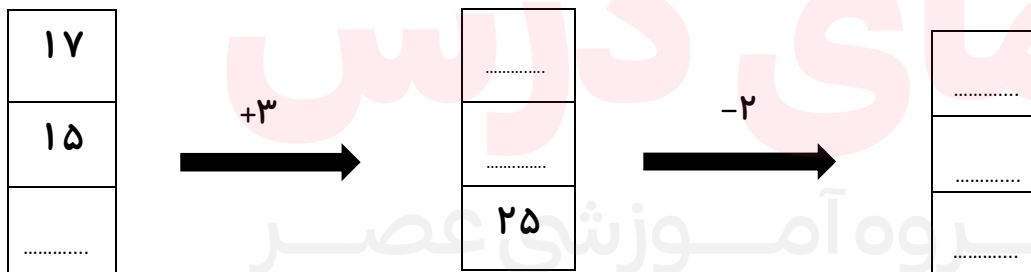
$$\begin{array}{r} 790 \\ - \\ 248 \\ \hline \end{array}$$

۳- ابتدا عدد ها را به صورت تقریبی بنویس، سپس عدد های تقریبی را جمع و تفریق کن.

$$\begin{array}{r} 61 \\ - \\ 25 \\ \hline \end{array} \quad \begin{array}{l} \longrightarrow \dots\dots\dots \\ \longrightarrow \dots\dots\dots \end{array}$$

$$\begin{array}{r} 48 \\ + \\ 13 \\ \hline \end{array} \quad \begin{array}{l} \longrightarrow \dots\dots\dots \\ \longrightarrow \dots\dots\dots \end{array}$$

۴- جاهای خالی را کامل کن.



۵- رضا ۲۵۰ ریال از پول خود را خرج کرد. اگر رضا ۵۴۰ ریال پول داشته باشد، چند ریال از پول او باقی مانده است؟

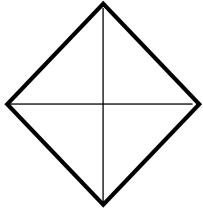
۶- جملات را کامل کنید.



..... دسته ی ..... تایی می شود .....

..... دسته ی ..... تایی می شود .....

۷- کامل شود.



۲ قسمت از ۴ قسمت مساوی



..... قسمت از ..... قسمت مساوی

۸- در جای خالی علامت  $<$   $=$   $>$  قرار دهید.

۳۳۹ ○ ۷۶۳

۲۰۰ + ۲۰ + ۷ ○ ۲۲۷

۴۱۴ ○ ۱۴۱

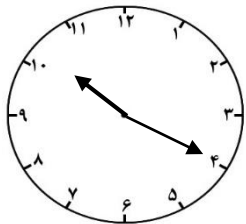
۵۰ + ۵۰ + ۱۰۰ + ۳ ○ ۲۰۰ + ۲۰ + ۵

۹- الگوهای زیر را ادامه بده.

..... و ..... و ..... و ..... و ..... و ۱۳۸ و ۱۳۶ و ۱۳۴ و ۱۳۲

..... و ..... و ..... و ..... و ..... و ۶۵ و ۶۰ و ۵۵

۱۰- ساعت چند است ؟ .....



نیم ساعت بعد ساعت چند است ؟ .....

..... دقیقه از ..... گذشته

۱۱- جمع و تفریق های زیر را فرآیندی انجام بده.

$$\begin{array}{r} 457 \\ + \\ 221 \\ \hline \end{array}$$

$$\begin{array}{r} 532 \\ - \\ 221 \\ \hline \end{array}$$

www.my-dars.com

۱۲- با سه کارت که روی هر کدام یکی از رقم های ۳ - ۵ - ۸ نوشته شده است ، تمام عددهای سه رقمی را که می توان ساخت را بنویس . دور بزرگترین عدد دایره بکش.

۳	۵	۸
---	---	---

۱۳- پاسخ بده.

۹ سانتی متر یعنی ..... میلی متر

۵ سانتی متر و ۸ میلی متر یعنی ..... میلی متر

۱۹ میلی متر یعنی ..... سانتی متر و ..... میلی متر

۱۴- اعداد زیر را به رقم و حروف بنویس.

پانصد و هفتاد ..... ۶۰۲

ششصد و نود و یک ..... ۹۴۰

خیلی کم	کم	متوسط	تسلط خوب	تسلط کامل	سطوح عملکرد ملاک و شواهد
					شناخت ارزش پول
					جمع و تفریق تکنیکی
					تقریب اعداد سه رقمی
					جدول جمع و تفریق دو رقمی
					حل مسئله
					مفهوم ضرب
					مفهوم تساوی کسر
					تشخیص <=>
					الگوی عددی
					شناخت ساعت
					شناخت سانتی متر و میلی متر
					ساخت اعداد سه رقمی
					جمع و تفریق قرآیندی
					به رقم و حروف نویسی

www.my-dars.ir



۱- ..... ۳۶۲ ریال

$$\begin{array}{r}
 456 \\
 + 185 \\
 \hline
 641
 \end{array}$$

$$\begin{array}{r}
 790 \\
 - 248 \\
 \hline
 542
 \end{array}$$

$$\begin{array}{r}
 61 \longrightarrow \dots\dots\dots 60 \\
 - 25 \longrightarrow \dots\dots\dots 30 \\
 \hline
 \dots\dots\dots 30
 \end{array}$$

$$\begin{array}{r}
 48 \longrightarrow \dots\dots\dots 50 \\
 + 13 \longrightarrow \dots\dots\dots 10 \\
 \hline
 \dots\dots\dots 60
 \end{array}$$

۱۷
۱۵
۲۲

$$+3 \longrightarrow$$

۲۰
۱۸
۲۵

$$-2 \longrightarrow$$

۱۸
۱۶
۲۳

گروه آموزشی عصر

$$\begin{array}{r}
 540 \\
 - 250 \\
 \hline
 290
 \end{array}$$

www.my-dars.ir

۲۹۰ ریال برایش باقی مانده است

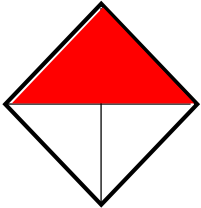
۵-

۶- جملات را کامل کنید.



..... ۳ دسته ی ..... ۵ تایی می شود ..... ۱۵  
 ..... ۵ دسته ی ..... ۳ تایی می شود ..... ۱۵

۷- کامل شود.



۲ قسمت از ۴ قسمت مساوی



..... ۳ قسمت از ..... ۸ قسمت مساوی

۸-

۳۳۹ < ۷۶۳

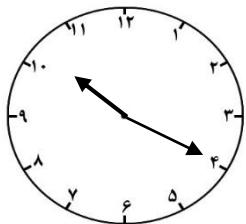
۲۰۰ + ۲۰ + ۷ = ۲۲۷

۴۱۴ > ۱۴۱

۵۰ + ۵۰ + ۱۰۰ + ۳ < ۲۰۰ + ۲۰ + ۵

۹-

..... و ..... و ..... و ..... و ..... و ..... و ..... و .....  
 ۱۳۲ و ۱۳۴ و ۱۳۶ و ۱۳۸ و ..... و ..... و ..... و ..... و .....  
 ۱۴۰ ۱۴۲ ۱۴۴ ۱۴۶ ۱۴۸  
 ..... و ..... و ..... و ..... و ..... و ..... و ..... و .....  
 ۵۵ و ۶۰ و ۶۵ و ..... و ..... و ..... و ..... و .....  
 ۷۰ ۷۵ ۸۰ ۸۵ ۹۰



۱۰- ساعت چند است ؟ ..... ۱۰ : ۲۰ .....

..... ۲۰ دقیقه از ..... ۱۰ گذشته

نیم ساعت بعد ساعت چند است ؟ ..... ۱۰ : ۵۰ .....

۱۱- جمع و تفریق های زیر را فرآیندی انجام بده.

$$\begin{array}{r} 457 \\ + 221 \\ \hline 678 \end{array}$$

$$\begin{array}{r} 532 \\ - 221 \\ \hline 311 \end{array}$$

www.my-dars.com

۱۲- با سه کارت که روی هر کدام یکی از رقم های ۳ - ۵ - ۸ نوشته شده است ، تمام عددهای سه رقمی را که می توان ساخت را بنویس . دور بزرگترین عدد دایره بکش.

۳	۵	۸
---	---	---

۳۵۸-۳۸۵-۵۳۸-۵۸۳-۸۳۵-۸۵۳

۱۳- پاسخ بده.

۹۰ ..... میلی متر ۹ سانتی متر یعنی

۵۸ ..... میلی متر ۵ سانتی متر و ۸ میلی متر یعنی

۱ ..... سانتی متر و ۹ ..... میلی متر ۱۹ میلی متر یعنی

۱۴- اعداد زیر را به رقم و حروف بنویس.

ششصد و دو ..... ۶۰۲

۵۷۰ ..... پانصد و هفتاد

نهصد و چهل ..... ۹۴۰

۶۹۱ ..... ششصد و نود و یک

مای دررس  
گروه آموزشی عصر

[www.my-dars.ir](http://www.my-dars.ir)