






ردیف	سؤالات		
۱	<p>پسر گلم، به رقم و حروف بنویس .</p> <p>۵۳۸ :</p> <p>۹۷۱ :</p> <p>دویست و چهل :</p> <p>ششصد و شش :</p>		
۲	<p>پسر بادقتم، الگوهای زیر را ادامه بده .</p> <p>۶۵۷-۶۵۵-۶۵۳-.....-.....-.....</p> <p>۳۲۰-۳۲۳-۳۲۶-.....-.....-.....</p> <p>۱-۲-۴-۷-۱۱-.....-.....-.....</p> <p>دویست وهفتاد - دویست و هشتاد - دویست و نود -</p>		
۳	<p>پسر پرتلاشم، با کارت های زیر چند عدد سه رقمی می توانی بسازی ؟</p> <p>الف (آن ها را بنویس .</p> <p>  </p> <p>.....</p> <p>ب) بزرگ ترین عدد کدام است ؟</p> <p>.....</p> <p>پ) کوچک ترین عدد کدام است ؟</p> <p>.....</p> <p>ت) در کدام عدد ها رقم یکان از صدگان بزرگ تر است ؟</p> <p>.....</p>		
۴	<p>پسر خوبم، عدد های زیر را با سکه نمایش بده سپس در جدول ارزش مکانی قرار بده .</p> <table border="1" style="width: 100%; text-align: center;"> <tr> <td style="width: 50%; background-color: #d9e1f2;">۴۲۵</td> <td style="width: 50%; background-color: #fff2cc;">۳۵۴</td> </tr> </table>	۴۲۵	۳۵۴
۴۲۵	۳۵۴		
۵	<p>پسر پرتوانم، شباهت و تفاوت های شکل های زیر را بنویس .</p> <p> </p> <p>شباهت :</p> <p>تفاوت :</p>		

پسر خوبم، ساعت های زیر را کامل کن .



یک ربع بعد از ۲ و نیم را نشان بده .



ساعت چنده ؟ -----



۳:۴۰ را نشان بده .

۶

پسر عزیزم، شکل های خواسته شده را رسم کن ، سپس برای هر کدام یک خط تقارن بکش .

مربع	پنج ضلعی	مثلث	دایره
------	----------	------	-------

۷

اگر از ۷۵ سیب زرد و قرمز جعبه ای ، ۵۲ سیب زرد باشد ، چند سیب قرمز است ؟ (با کمک شکل)

۸

مدرسه برای شب یلدا ، به دانش آموزان سرمردادی هدیه داد ، اگر ۳۲ تا از آن ها زرد و ۴۹ تا از آن ها بنفش باشد :

الف) کلاً چند سرمردادی خریده شده ؟ (با روش فرایندی)

ب) اگر ۷۳ تا از آن ها را به بچه ها هدیه داده باشند ، چند تا سرمردادی باقی مانده ؟ (با روش فرایندی)

۹

www.my-dars.ir


نام و نام خانوادگی:

.....

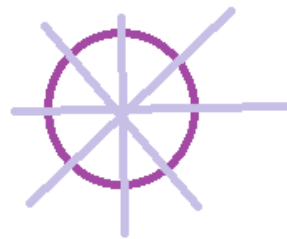
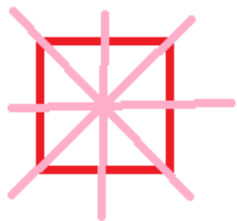
پایه : دوم دبستان

نام درس: ریاضی
 نام دبیر: زینب سراج
 تاریخ امتحان: ۱۸ / ۱۰ /
 ساعت امتحان: ۰۸:۰۰
 مدت امتحان: ۴۵ دقیقه

آزمون نه اول

ردیف	سؤالات	نمره
	پانصد و سی و هشت نهصد و هفتاد و یک ۲۴۰ ۶۰۶	۱
	پسر بادقتم، الگوهای زیر را ادامه بده . ۶۵۱-۶۴۹-۶۴۷ ۳۲۹-۳۳۲-۳۳۴ ۱۶-۲۲-۲۹ سیصد-سیصد و ده - سیصد و بیست	۲
	الف) ۹۵۰-۵۹۰-۵۰۹-۹۰۵ ب) ۹۵۰ پ) ۵۰۹ ت) ۵۰۹	۳
	نمایش سکه ها به هر طریقی که دانش آموز انجام دهد و از سکه های ۵۰۰-۲۵۰-۱۰۰-۵۰-۲۵-۱۰-۵-۲-۱ ریالی استفاده کند درست است 	۴
	شبهت : هر دو ۴ ضلع و گوشه دارند . تفاوت : در مربع هر ۴ ضلع هم اندازه است اما در مستطیل ضلع های رو به رو هم اندازه اند (همه ی ضلع ها هم اندازه نیستند) .	۵
	عقربه ی بزرگ روی ۳ عقربه ی کوچک روی ۸ . ۱:۲۰ عقربه ی بزرگ روی ۲ عقربه ی کوچک روی ۹ .	۶

برای هر شکل کشیدن یک خط تقارن کافی است .



۷



۲۳

۸

(الف)

$$\begin{array}{r}
 \textcircled{32} \\
 + \textcircled{49} \\
 \hline
 72 \\
 + 9 \\
 \hline
 81
 \end{array}
 \rightarrow 9 \text{ و } 4$$

(ب)

$$\begin{array}{r}
 \textcircled{81} \\
 - \textcircled{73} \\
 \hline
 11 \\
 - 3 \\
 \hline
 8
 \end{array}
 \rightarrow 7 \text{ و } 3$$

۹

۸ سرمرادی باقی ماند. کلا ۸۱ سرمرادی خریدند.

مای دارس

گروه آموزشی عصر

www.my-dars.ir