


ردیف	شرح سوالات	بارم								
۱	<p>درست و نادرست بودن جملات را مشخص کنید.</p> <p>الف)، ۷، ۵، ۳ در جای خالی عدد ۹ قرار دارد. <input type="checkbox"/> ص <input type="checkbox"/> غ</p> <p>ب) ساعت ۱۵ همان ۴ بعد از ظهر می باشد. <input type="checkbox"/> ص <input type="checkbox"/> غ</p>									
۲	<p>جملات ناقص را کامل کنید.</p> <p>- حاصل عبارت $۳+۵+۷+۵+۶+۴$ جمع به صورت ذهنی برابر می باشد.</p> <p>الف) ۱۰ <input type="radio"/> ب) ۲۰ <input type="radio"/> ج) ۳۰ <input type="radio"/> د) ۴۰ <input type="radio"/></p> <p>- جای خالی کدام عدد قرار می گیرد؟</p> <table style="display: inline-table; vertical-align: middle;"> <tr> <td style="border: 1px solid black; padding: 5px;">۱۳</td> <td rowspan="3" style="font-size: 2em; vertical-align: middle;">→</td> <td style="border: 1px solid black; padding: 5px;">۵</td> </tr> <tr> <td style="border: 1px solid black; padding: 5px;">۱۹</td> <td style="border: 1px solid black; padding: 5px;">۱۱</td> </tr> <tr> <td style="border: 1px solid black; padding: 5px;">۱۷</td> <td style="border: 1px solid black; padding: 5px;">۹</td> </tr> </table> <p>الف) ۸ <input type="radio"/> ب) ۹ <input type="radio"/> ج) ۱۰ <input type="radio"/> د) ۷ <input type="radio"/></p>	۱۳	→	۵	۱۹	۱۱	۱۷	۹		
۱۳	→	۵								
۱۹		۱۱								
۱۷		۹								
۳	<p>همه ی عددهای سه رقمی را که رقم صدگانش ۴ یا ۵ و رقم دهگانش ۱ و ۹ و رقم یکانش ۳ و ۸ باشد بنویسید.</p>									
۴	<p>برای عدد مقابل شکل بکشید و به حروف بنویسید و در جدول ارزش مکانی قرار دهید.</p> <p>۲۳۹۸</p> <table style="display: inline-table; vertical-align: middle;"> <tr> <td style="border: 1px solid black; padding: 5px;">ه</td> <td style="border: 1px solid black; padding: 5px;">ص</td> <td style="border: 1px solid black; padding: 5px;">د</td> <td style="border: 1px solid black; padding: 5px;">ی</td> </tr> <tr> <td style="border: 1px solid black; height: 30px;"></td> <td style="border: 1px solid black; height: 30px;"></td> <td style="border: 1px solid black; height: 30px;"></td> <td style="border: 1px solid black; height: 30px;"></td> </tr> </table> <p>شکل: ← عدد:</p> <p>حروف:</p>	ه	ص	د	ی					
ه	ص	د	ی							

بارم	شرح سوالات	ردیف
	<p>در جای خالی عدد مناسب بگذارید.</p> <p>الف) ۹ کیلومتر و ۴۷ متر = متر</p> <p>ب) ۳۵۸ سانتی متر = متر و سانتی متر</p> <p>پ) ۷۴۰۸ متر = کیلومتر و متر</p>	۵
	<p>روی محور نشان دهید.</p> <p>$\frac{2}{5}$ واحد بعد از عدد ۲</p> <p>$\frac{3}{4}$ واحد قبل از عدد ۱</p> 	۶
	<p>از طریق کشیدن شکل کسرهای زیر را مقایسه کنید.</p> <p>$\frac{1}{4}$ <input type="radio"/> $\frac{1}{2}$ $\frac{2}{5}$ <input type="radio"/> $\frac{4}{5}$</p>	۷
	<p>حاصل ضرب های زیر را به روش خواسته شده بنویسید.</p> <p>4×5 به روش مستطیل</p> <p>3×6 به روش محور</p> <p>5×3 شمارش چند تا چند تا</p> <p>4×7 با نوشتن جمع</p> <p>3×7 با رسم شکل</p>	۸

موفق باشید

۱. الف) صحیح

ب) غلط

۲. ۳۰

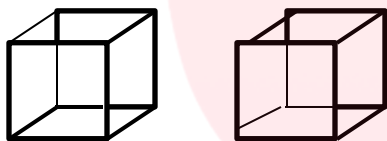
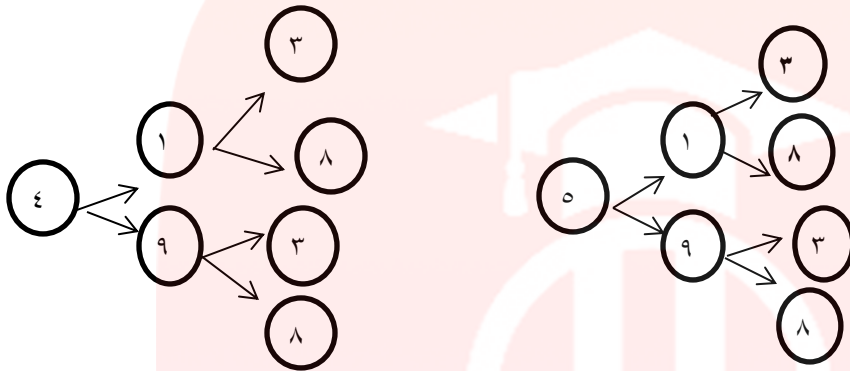
۸

۳.

۴. به عدد: ۲۳۹۸

به حروف: دوهزار و سیصد و نود و هشت

	ص	د	ی
۵			
۲	۳	۹	۸



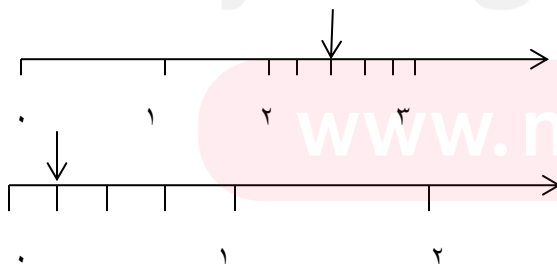
۵. الف) ۹۰۴۷

ب) ۳ متر و ۵۸ سانتی متر

پ) ۷ کیلومتر و ۴۰۸ متر

۶. $\frac{2}{5}$ واحد بعد از عدد ۲

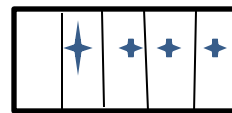
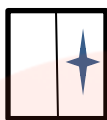
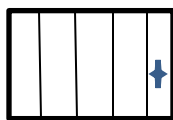
$\frac{3}{4}$ واحد قبل از عدد ۱



$$\frac{1}{4} \ominus \frac{1}{2}$$

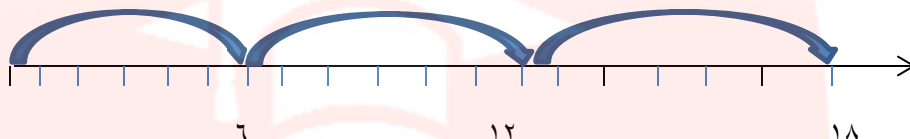
$$\frac{2}{5} \ominus \frac{4}{5}$$

.۷



به روش مستطیل $4 \times 5 = 20$

به روش محور





.۸

$$5 \times 3 = 15$$

$$4 \times 7 = 28$$

شمارش چندتا چندتا تا ۳، ۶، ۹، ۱۲، ۱۵

$$7 + 7 + 7 + 7 = 28$$



$$3 \times 7 = 21$$

با رسم شکل

مای دارس

گروه آموزشی و پژوهشی

www.my-dars.ir