

نام و نام خانوادگی: .....

پایه: دوم

نام پدر: .....

تعداد صفحه سؤال: ۲ صفحه

جمع بندی پایان ترم نوبت اول



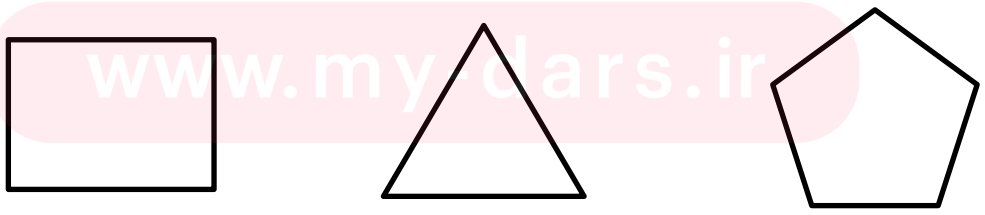
نام درس: ریاضی

نام دبیر: مریم سادات آقاسینی

تاریخ امتحان: ۱۷ / ۱۰ /

ساعت امتحان: ۰۷:۳۰ صبح / عصر

مدت امتحان: ۹۰ دقیقه

محل مهر و امضاء مدیر	نمره به عدد:	نمره به حروف:
	نمره تجدید نظر به عدد:	نمره به حروف:
نام دبیر:	تاریخ و امضاء:	نام دبیر:
ردیف	سؤالات	نمره
۱	<p>الگوهای زیر را ادامه دهید:</p> <p>۱۰۵-۱۱۰-.....-.....-.....-.....-.....-.....-.....-.....-.....</p> <p>۱۳-۱۶-.....-.....-.....-.....-.....-.....-.....-.....-.....</p> 	۱
۲	<p>۷ دسته ی ده تایی منهای ۴ دسته ی ده تایی می شود.....</p> <p>..... دسته ی ده تایی به اضافه ..... دسته ی ده تایی می شود.....</p> <p>..... دسته ی ده تایی</p> <p><math>۷۰ - ۴۰ =</math></p> <p><math>۳۰ + ۵۰ =</math></p>	۲
۳	<p>مهرسانا ۵۴ شاخه گل داشت، او ۳۹ شاخه گل را به کارینا داد . حالا او چند شاخه گل دارد؟ ( با رسم شکل )</p>	۳
۴	<p>جمع و تفریق های زیر را روی محور نشان دهید؟</p> <p><math>۳۰ + ۳۰ =</math></p>  <p><math>۹ - ۱۸ =</math></p>	۴
۵	<p>تعداد ضلع و گوشه و خط تقارن های شکل های زیر را بنویسید و خط تقارن آن ها را رسم کنید:</p>  <p>..... ضلع</p> <p>..... گوشه</p> <p>..... خط تقارن</p> <p>..... ضلع</p> <p>..... گوشه</p> <p>..... خط تقارن</p> <p>..... ضلع</p> <p>..... گوشه</p> <p>..... خط تقارن</p>	۵

حاصل جمع و تفریق های زیر را به دست آورید: ( تقریبی )

$$\begin{array}{r}
 75 \\
 - 32 \\
 \hline
 \end{array}
 \rightarrow - \underline{\hspace{2cm}}$$

$$\begin{array}{r}
 67 \\
 + 34 \\
 \hline
 \end{array}
 \rightarrow + \underline{\hspace{2cm}}$$

۶

ساعت چند است؟



۷

جواب جمع و تفریق های زیر را به دست آورید: ( فرآیندی )

$$\begin{array}{r}
 57 \\
 - 36 \\
 \hline
 \end{array}$$

$$\begin{array}{r}
 63 \\
 + 16 \\
 \hline
 \end{array}$$

۸

جاهای خالی را پر کنید:

یکی ده تایی صدتایی

۱۰۰	۱۰	۱
۱۰۰	□□	□□
۱۰۰		

صدگان	دهگان	یکان

ریال.....

۹


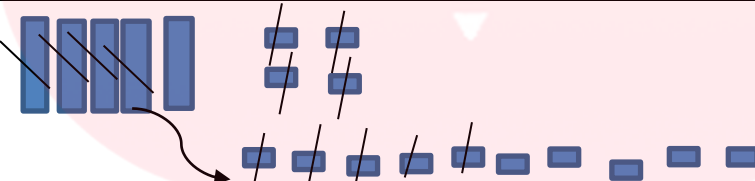

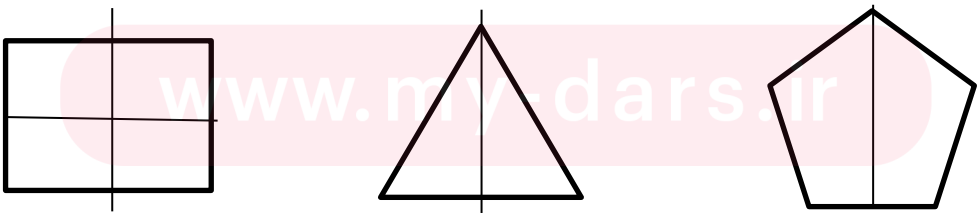
با کارت ۳ و ۹ و ۰ چند عدد دو رقمی می توان نوشت؟

۱۰



نام درس: ریاضی  
 نام دبیر: مریم سادات آقامسینی  
 تاریخ امتحان: ۱۰/۱۷  
 ساعت امتحان: ۷:۳۰ - صبح / عصر  
 مدت امتحان: ۹۰ دقیقه

### کلید سؤالات جمع بندی پایان ترم نوبت اول

ردیف	راهنمای تصحیح	محل مهر یا امضاء مدیر
۱		۱۰۵۱۱۰۱۱۵۱۲۰۱۲۵۱۳۰۱۳۵۱۴۰۱۴۵ ۱۶۱۳۱۰۷۴۱ 
۲	۷ دسته ی ده تایی منهای ۴ دسته ی ده تایی می شود. ۳ دسته ی ده تایی $۷۰ - ۴۰ = ۳۰$ ۵ دسته ی ده تایی به اضافه ۳ دسته ی ده تایی می شود ۸ دسته ی ده تایی $۳۰ + ۵۰ = ۸۰$	
۳		
۴	$۳۰ + ۳۰ = ۶۰$ $۹ - ۱۸ = ۹$ 	
۵	تعداد ضلع و گوشه و خط تقارن های شکل های زیر را بنویسید و خط تقارن آن ها را رسم کنید: 	ضلع ..... ۴ ..... گوشه ..... ۴ ..... خط تقارن ..... ۲ ..... ضلع ..... ۳ ..... گوشه ..... ۳ ..... خط تقارن ..... ۱ ..... ضلع ..... ۵ ..... گوشه ..... ۵ ..... خط تقارن ..... ۱ .....

$$\begin{array}{r} 75 \\ - 32 \\ \hline \end{array} \rightarrow \begin{array}{r} 80 \\ - 30 \\ \hline 50 \end{array}$$

$$\begin{array}{r} 67 \\ + 34 \\ \hline \end{array} \rightarrow \begin{array}{r} 70 \\ + 30 \\ \hline 100 \end{array}$$

۶



۲:۴۰



۱۲:۱۵

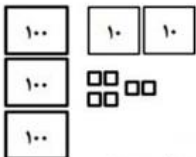
دوازده و ربع

۷

$$\begin{array}{r} 57 \\ - 36 \\ \hline 21 \end{array}$$

$$\begin{array}{r} 63 \\ + 16 \\ \hline 79 \end{array}$$

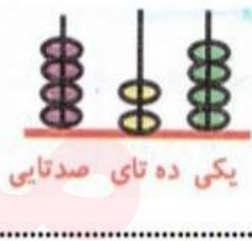
۸



یکان دهگان صدگان

۳۲۶

۳۲۶



۹



ریال

۱۹۰

www.my-dars.ir

۱۹۰

چهار عدد دو رقمی ( ۳۰ - ۳۹ - ۹۰ - ۹۳ )

۱۰

امضاء:

نام و نام خانوادگی مصحح :

جمع بارم : ۲۰۰ شماره