

به نام فدای دوست داشتنی



ارزشیابی ریاضی دی ماه

نام دانشمند کوچکم :

نازنینم سمت چپ ستاره یک تکه ابر بکش.



ریاضیدان من عدد هر دسته را با عدد وچوب خط نشان بده.



کودک فوبم بین این اعداد علامت مناسب < = > بگذار.


۲ □ ۷

۸ □ ۸

۵ □ ۳

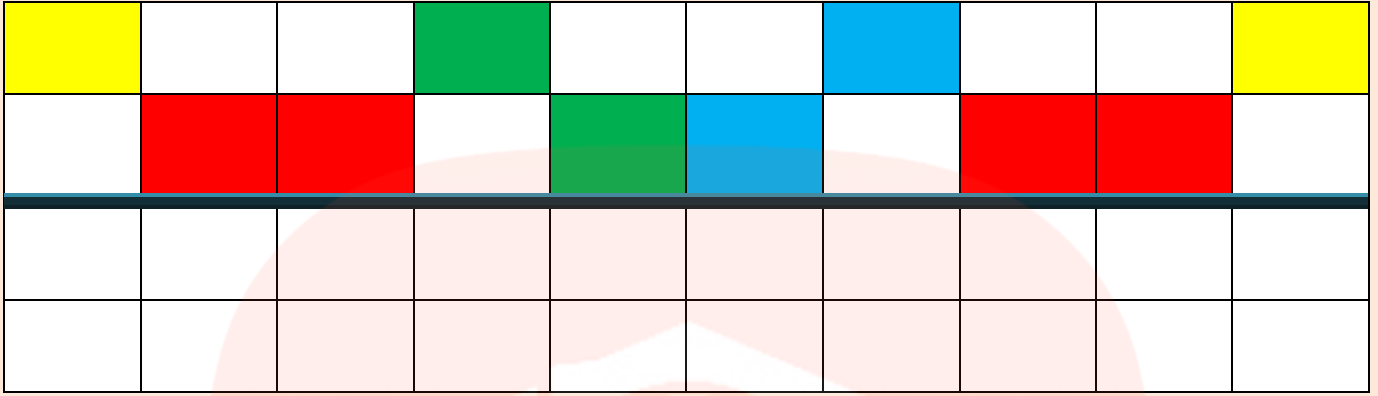
۶ □ ۹

دبندم برای این شکل جمع مناسب بنویس.

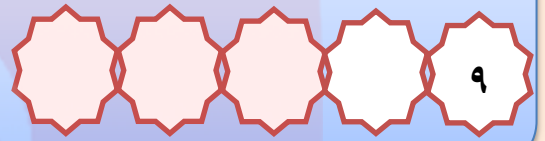
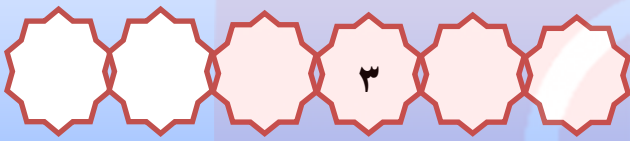


_____ + _____ = _____

گل من نیمه ی پایین را مثل نیمه ی بالا رنگ بزن.



عزیزم ۳ قبل و بعد این اعداد را بنویس.



نازنین برای هر عدد از یک رنگ استفاده کن و جواب جمع را پیدا کن.




$$3 + 4 + 2 =$$

مهربانم جدول شگفت انگیز را با اعداد مناسب کامل کن.




۴	۱	۵	۲	۶	۷	۹	۸	۳
۲	۹	۶	۵	۸	۳	۷	۴	۱
۷	۳			۹	۴		۵	۶
۱	۲			۴	۶	۵	۳	۷
۵	۸	۳	۷	۲	۹	۱	۶	۴
۶	۷	۴	۳	۱			۹	۲
۸	۵	۷	۴	۳			۲	۹
۳	۶	۱	۹	۵	۲	۴	۷	۸
۹	۴	۲	۶	۷	۸	۳	۱	۵

فرزندم بلندی پتر اندازه ی پند مراد است.



پاسخ هر قسمت را با قسمت دیگر مقایسه کن و علامت مناسب را انتخاب کن.



..... + =

..... - =

مای درسی

گروه آموزشی عصر

نظر من درباره ی این آزمون شما :

www.my-dars.ir



نیاز به تلاش



قابل قبول



فوب



فیلی فوب

به نام خدای دوست داشتنی

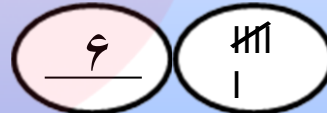

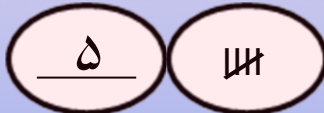

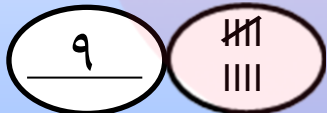
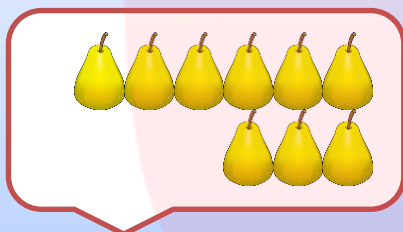
ارزشیابی ریاضی دی ماه

نام دانشمند کوچکم :

نازنینم سمت چپ ستاره یک تکه ابر بکش.



ریاضیدان من عدد هر دسته را با عدد و چوب خط نشان بده.



کودک فوبم بین این اعداد علامت مناسب $>$ $=$ $<$ بگذار.

$2 < 7$

$8 = 8$

$5 > 3$

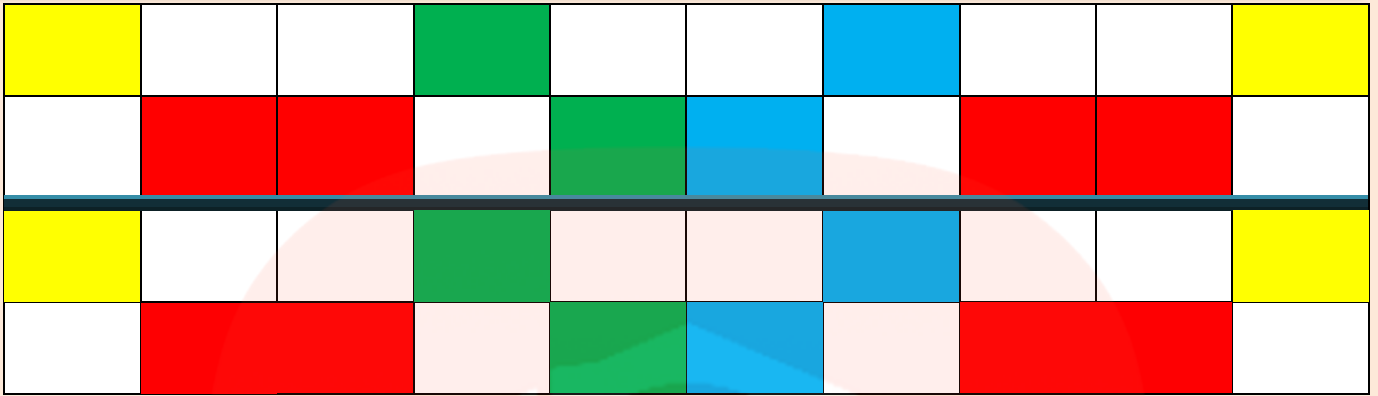
$6 < 9$

دلبندم برای این شکل جمع مناسب بنویس.

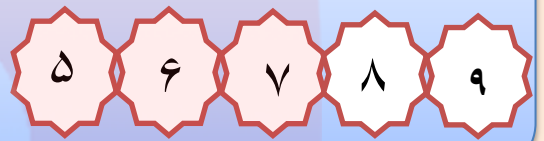
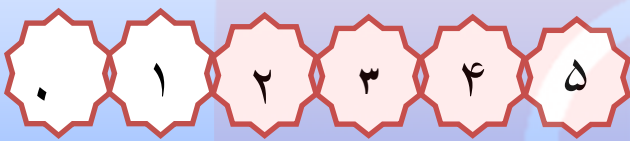


$$\underline{\quad 3 \quad} + \underline{\quad 4 \quad} = \underline{\quad 7 \quad}$$

گل من نیمه ی پایین را مثل نیمه ی بالا رنگ بزن.



عزیزم قبل و بعد این اعداد را بنویس.



نازنین برای هر عدد از یک رنگ استفاده کن و جواب جمع را پیدا کن.



$$3 + 4 + 2 = 9$$


مهربانم جدول شگفت انگیز را با اعداد مناسب کامل کن.

قوی باش




۴	۱	۵	۲	۶	۷	۹	۸	۳
۲	۹	۶	۵	۸	۳	۷	۴	۱
۷	۳	۸	۱	۹	۴	۲	۵	۶
۱	۲	۹	۸	۴	۶	۵	۳	۷
۵	۸	۳	۷	۲	۹	۱	۶	۴
۶	۷	۴	۳	۱	۵	۸	۹	۲
۸	۵	۷	۴	۳	۱	۶	۲	۹
۳	۶	۱	۹	۵	۲	۴	۷	۸
۹	۴	۲	۶	۷	۸	۳	۱	۵

فرزندم بلندی پتر اندازه ی پند مراد است.



پاسخ هر قسمت را با قسمت دیگر مقایسه کن و علامت مناسب را انتخاب کن.



$$\underline{\quad 2 \quad} + \underline{\quad 3 \quad} = \underline{\quad 5 \quad}$$



$$\underline{\quad 6 \quad} - \underline{\quad 2 \quad} = \underline{\quad 4 \quad}$$

مای درسی

گروه آموزشی عصر

نظر من درباره ی این آزمون شما :

www.my-dars.ir



نیاز به تلاش



قابل قبول



فوب



فیلی فوب