

" به نام خدا "

پایه دوم دبستان

آزمون مدادو کاغذی درس: ریاضی

ارزشیابی دی ماه

آموزگار: خانم قلعه سری

تاریخ: ۱۰/۱۷

سال تحصیلی:

نام و نام خانوادگی:

هدف آزمون: آشنایی با الگوها، عددنویسی (دو رقمی و سه رقمی)، جمع و تفریق، اشکال هندسی،  
زمان و ساعت، تقریب، ارزش پول و جدول ارزش مکانی

۱- عزیزم! الگوهای عددی زیر را ادامه دهید.

..... - ..... - ..... - ..... - ۱۱ - ۷ - ۳

..... - ..... - ..... - ..... - ۱۴ - ۹ - ۵ - ۲

۲- قبل و بعد عدد های زیر را بنویسید.

	۱۶۳	
--	-----	--

	سی و پنج	
--	----------	--

	۴۰۰	
--	-----	--

	چهل و هشت	
--	-----------	--

۳- کلمه! حاصل جمع های زیر را پیدا کنید.

$$20 + 10 + 5 + 10 + 5 + 6 + 20 =$$

۶۱

۵۰

روش فرآیندی

+ ۲۵

+ ۲۸

(قارچی)

نام و نام خانوادگی:

ارزشیابی دی ماه

آموزگار: خانم قلعه سری

آزمون مداد و کاغذی درس: ریاضی

۴- دخترم! تفریق های زیر را انجام دهید.

$$90 - 40 = \dots\dots$$

$$60 - 20 = \dots\dots$$

۸۲

۷۶

روش فرآیندی

-۳۶

-۲۳

(قارچی)

۵- شباهت و تفاوت های دو شکل زیر را بنویسید.



تفاوت: .....

.....



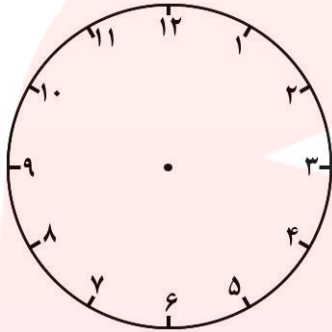
شباهت: .....

.....

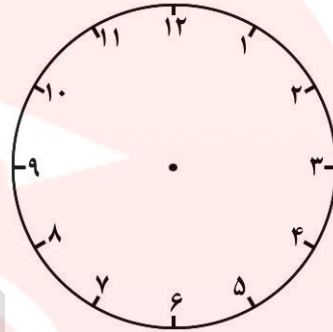
۶- نازنینم! با کارت های ۴,۰,۶ تمام عددهای سه رقمی را بسازید و بنویسید.

.....  
[www.my-dars.ir](http://www.my-dars.ir)

۷- دلبندم! برای ساعت های زیر عقربه بکشید.

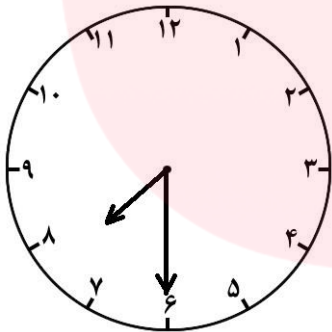


۴:۵۰



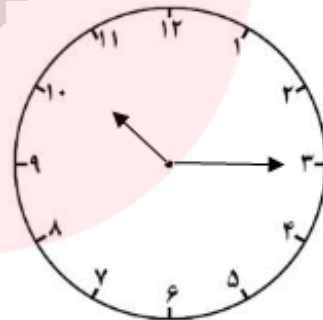
۱۲:۳۵

۸- زمانی را که ساعت های زیر نشان می دهد ، به دو صورت بنویسید.



..... : .....

.....



..... : .....

.....

۹- گلم! حاصل جمع و تفریق ها را با تقریب زدن به دست آورید.

۷۳ →

.....

۵۵ →

.....

www.my-dars.ir

- ۴۶ →

- .....

+ ۲۸ →

+ .....

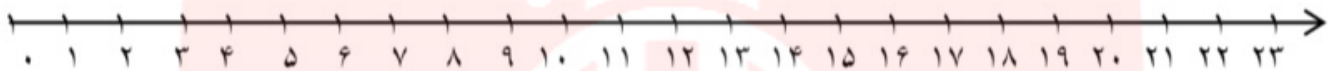
نام و نام خانوادگی:

ارزشیابی دی ماه

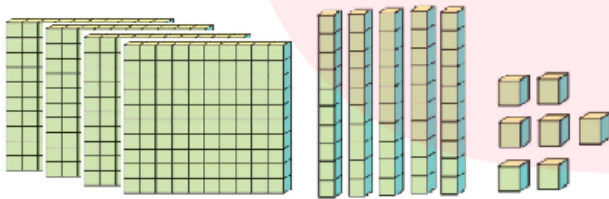
آزمون مداد و کاغذی درس: ریاضی

آموزگار: خانم قلعه سری

۱۰- در یک اتوبوس ۱۴ نفر نشسته اند . در ایستگاه بعدی ۷ نفر دیگر سوار اتوبوس شدند و در ایستگاه بعد ۵ نفر از اتوبوس پیاده شدند . حالا چند نفر در اتوبوس نشسته اند؟ (به کمک محور)



۱۱- جدول را کامل کنید و به عدد و حروف بنویسید.



یکان	دهگان	صدگان

به عدد: .....

به حروف: .....



یکان	دهگان	صدگان

به عدد: .....

به حروف: .....



باز خورد معلم برای من:

[www.my-dars.ir](http://www.my-dars.ir)

موفق باشید- قلعه سری

" به نام خدا "

پایه دوم دبستان

پاسخ سوالات

ارزشیابی دی ماه

آزمون مدادو کاغذی درس: ریاضی

تاریخ: ۱۰/۱۷

آموزگار: خانم قلعه سری

پاسخ سوال ۱ :

۳-۷-۱۱-۱۵-۱۹-۲۳-۲۷-۳۱-۳۵

۲-۵-۹-۱۴-۲۰-۲۷-۳۵-۴۴-۵۴.

پاسخ سوال ۲ :

۱۶۲	۱۶۳	۱۶۴
-----	-----	-----

سی و شش	سی و پنج	سی و چهار
---------	----------	-----------

۳۹۹	۴۰۰	۴۰۱
-----	-----	-----

چهل و نه	چهل و هشت	چهل و هفت
----------	-----------	-----------

پاسخ سوال ۳ :

$$۲۰ + ۱۰ + ۵ + ۱۰ + ۵ + ۶ + ۲۰ = ۷۶$$

$$\begin{array}{r} ۶۱ \\ + ۲۵ \\ \hline ۸۶ \end{array}$$

$$\begin{array}{r} ۵۰ \\ + ۲۸ \\ \hline ۷۸ \end{array}$$

$$\begin{array}{r} + ۵ \\ \hline ۸۶ \end{array}$$

$$\begin{array}{r} + ۸ \\ \hline ۷۸ \end{array}$$

پاسخ سوال ۴:

$$90 - 40 = 50$$

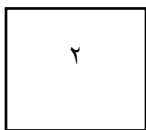
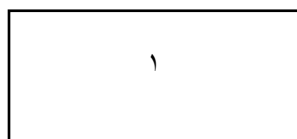
$$60 - 20 = 40$$

$$\begin{array}{r} 82 \\ - 36 \\ \hline 52 \\ - 6 \\ \hline 46 \end{array}$$

(به روش  
قارچی)

$$\begin{array}{r} 76 \\ - 23 \\ \hline 56 \\ - 2 \\ \hline 53 \end{array}$$

پاسخ سوال ۵:



تفاوت: در شکل ۲، همه ی ضلع ها با هم برابر هستند، اما در شکل ۱

ضلع های رو به رو به دو به دو با هم برابرند.

شبهات: هر دو شکل ۴ ضلع و ۴ گوشه دارند.

پاسخ سوال ۶:

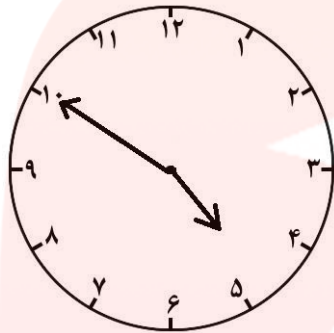
$$640 - 604 - 460 - 406$$

[www.my-dars.ir](http://www.my-dars.ir)

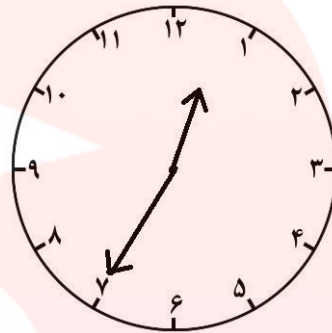
آموزگار: خانم قلعه سری

آزمون مداد و کاغذی درس: ریاضی

پاسخ سوال ۷:

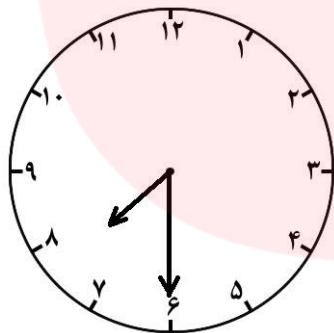


۴:۵۰



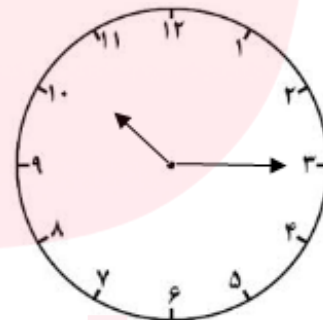
۱۲:۳۵

پاسخ سوال ۸:



۷:۳۰

ساعت هفت و نیم است.



۱۰:۱۵

ساعت ده و ربع است.

پاسخ سوال ۹:

۷	۷۰	۵۵	۶۰
- ۴۳	- ۴۰	+ ۲۸	+ ۳۰
	۳۰		۹۰

پاسخ سوالات

ارزشیابی دی ماه

آزمون مداد و کاغذی درس: ریاضی

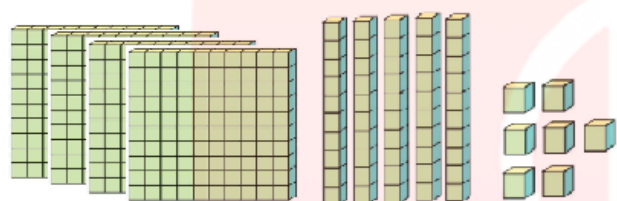
آموزگار: خانم قلعه سری

پاسخ سوال ۱۰ :

$$۱۴+۷-۵=۱۶$$

۱۶ نفر در اتوبوس نشسته اند.


پاسخ سوال ۱۱ :



صدگان	دهگان	یکان

به عدد: ۴۵۷

به حروف: چهارصد و پنجاه و هفت



صدگان	دهگان	یکان

به عدد: .....

به حروف: .....

۲۳۴

دویست و سی و چهار

مای درس  
گروه آموزشی عصر

www.my-dars.ir

موفق باشید- قلعه سری