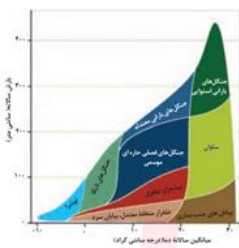
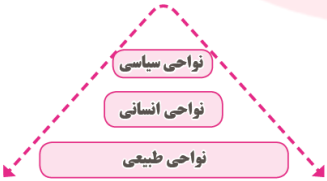

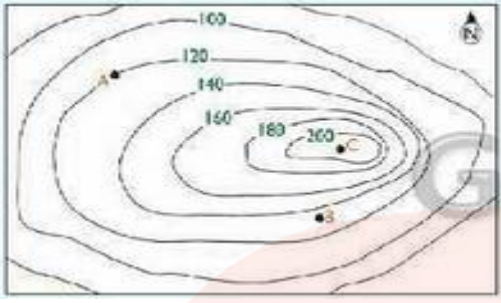


	مشخصات درس :	مشخصات دانش آموز :	مشخصات امتحان :
	نام درس : جغرافیا ۲	نام و نام خانوادگی:	تاریخ امتحان: ۱۸/۱۰/۱۸
	پایه ورشته : یازدهم. علوم انسانی	شماره صندلی :	ساعت برگزاری: ۸ صبح
			مدت آزمون : ۷۰ دقیقه
			تعداد صفحه : ۴

پاسخ کلیه سوالات را در پاسخنامه وارد کنید طراح: نادیا شریفیان

ردیف	پاسخ	بارم
۱	<p>گزینه صحیح را انتخاب کنید.</p> <p>۱- کدام گزینه صحیح است؟  الف) توده هوای سیکلون، در عرض جغرافیایی صفر درجه بارشهای زیادی به همراه دارد.  ب) جریان هوای کم فشار در نیمکره شمالی به صورت ساعتگرد و عامل وقوع بارش است.  ج) در منطقه جنب حاره، فرونشینی هوای پرفشار باعث وقوع بارشهای رگباری میشود.  د) بیابان ها در عرض های جغرافیایی پایین به علت تابش مایل خورشید ایجاد میشوند.</p> <p>۲- کدام گزینه از اشکال حاصل از فرسایش کاوشی نیست؟  الف) دشت ریگی (ب) برخان (ج) دودکش جن (د) کلوت</p> <p>۳- تنها موجود زنده تولید کننده بوم سازگان چیست؟  الف) انسان (ب) موجودات تک سلولی  ج) گیاهان (د) جانوران</p> <p>۴- مدل روبرو چه کاربردی دارد و توسط چه کسی ترسیم شده است؟  الف) تقسیم بندی نواحی آب و هوایی - وایتکر  ب) نامگذاری زیست بوم ها - وایتکر  ج) تقسیم بندی نواحی آب و هوایی - گودی  د) نامگذاری زیست بومها - گودی</p>  <p>۵- ..... هر ناحیه موجب به وجود آمدن چشم اندازهای خاصی در آن ناحیه میشود.  الف) مذهب (ب) فرهنگ (ج) دین (د) زبان</p>	۱/۲۵
۲	<p>جاهای خالی را با عبارات مناسب پر کنید.</p> <p>الف) در مراکز ..... فشار هوا به سمت مرکز ناحیه کم میشود.  ب) در بیابانها میزان تبخیر ..... و پوشش گیاهی ..... است.  ج) دو عامل مهم فرسایش در کوهستانها عبارتند از ..... و .....  د) دره های U شکل حاصل فرسایش به وسیله ..... است.  ه) در دامنه های پرشیب ضخامت خاک ..... است.  ی) بیشترین تغییرات آب و هوایی در لایه ..... رخ میدهد.  و) تقسیم بندی زیست بومها توسط گودی بر مبنای ..... انجام گرفته است.  ز) ..... از مهمترین شاخص های فرهنگی است.</p>	۲/۵

۴/۵	<p>اصطلاحات زیر را به صورت کوتاه تعریف کنید.</p> <p>الف) ناحیه</p> <p>ب) ناحیه بندی</p> <p>ج) هوا</p> <p>د) دشت</p> <p>ه) فرسایش</p> <p>و) مورن ( یخرفت)</p> <p>ی) ناحیه فرهنگی</p> <p>ن) زبان</p> <p>ر) فلات</p>	۳
۱	زیست بوم ساوان چه ویژگی هایی دارد؟	۴
۱	<p>شکل مقابل را تفسیر کنید.</p> 	۵
۱	۲ مورد از معیارهای طبیعی و ۲ مورد از معیارهای انسانی ناحیه بندی را نام ببرید.	۶
۱	<p>شکلهای الف و ب هر کدام نشاندهنده کدامیک از مراکز هوا هستند؟ از بین این دو شکل کدامیک با تصویر شماره یک مطابقت دارد؟ دلیل خود را توضیح دهید.</p> 	۷
۱	انواع بیابان از نظر دما به چند دسته تقسیم میشوند؟ هر کدام از این انواع بیابان در چه عرض های جغرافیایی قرار دارند؟	۸

۱/۲۵	<p>در نقشه منحنی میزان زیر :</p> <p>الف) نیم رخ توپوگرافی شکل روبرو را ترسیم کنید .</p> <p>ب) نقطه A و B چند متر ارتفاع دارند؟</p> <p>ج) شیب در سمت شرق بیشتر است یا غرب؟</p> 	۹
۱	۴ مورد از عوامل تاثیرگذار بر پیدایش انواع زیست بوم را بنویسید.	۱۰
۱	با افزایش ارتفاع چه تغییراتی در پوشش گیاهی ایجاد میشود؟	۱۱
۰/۵	مهمترین عوامل بیابان زایی را نام ببرید. ( ۲ مورد)	۱۲
۰/۷۵	چه عواملی در بروز مشکلات نواحی کوهستانی تاثیرگذار است؟ ( ۳ مورد)	۱۳
/۵	چه عواملی در تغییر الگوی پراکندگی زبانها موثر بوده اند؟ ( ۲ مورد)	۱۴
۱	به طور کلی ادیان به چند گروه تقسیم میشوند؟ توضیح دهید.	۱۵
/۷۵	معیارهای اصلی طبقه بندی نواحی آب و هوایی به روش کوپن کدامند؟	۱۶