

موضوع: ارزشیابی ریاضی (دی ماه)

پایه چهارم

نام و نام خانوادگی دانش آموز: .....

۱) به سوالات مطرح شده در مورد عدد ۵۱۳۴۰۹۲۶۸ پاسخ دهید

الف) عدد را به حروف بنویسید

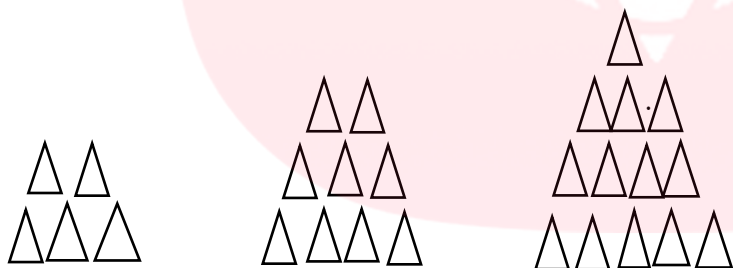
ب) کدام رقم بالاترین ارزش مکانی دارد؟

ج) ارزش رقم ۳ در این عدد چیست؟

د) گسترده عدد را بنویسید.

ه) کدام رقم کمترین ارزش را دارد؟

۲) شکل هشتم الگو از چند مثلث تشکیل شده است؟ رابطه آن را بنویسید



مای دارس

۳) بزرگترین عدد فرد شش رقمی با رقم های غیر تکراری بنویسید

گروه آموزشی عصر

۴) واحد مانده به عدد ۲ را روی محور نشان دهید عدد مخلوط آن را بنویسید و برای آن شکل بکشید

www.my-dars.ir

۵) کسرهای زیر را مقایسه کنید.

$$\frac{2}{3} \square \frac{3}{27}$$

$$\frac{28}{35} \square \frac{28}{51}$$

$$\left( 2 \times \frac{1}{5} \right) \square \frac{10}{15} - \frac{1}{3}$$

$$2 \times \frac{3}{9} \square \frac{11}{63}$$

۶) حاصل جمع و تفریق هارا پس از هم مخرج کردن به دست آورید و ساده کنید.

$$\frac{6}{9} - \frac{4}{18}$$

$$\frac{8}{24} + \frac{1}{23}$$

۷) در یک مزرعه  $\frac{2}{9}$  آن درخت سیب  $\frac{1}{18}$  درخت پرتقال  $\frac{1}{3}$  آن کاشته شده است

ب) چه کسری باقی مانده است؟

الف) چه کسری از مزرعه کاشته شده است؟

۸) حاصل هارا با تقریب دهگان به دست آورید. (ابتدا عدد هارا تقریب زده و سپس حاصل را به دست آورید.)

$$265 - 38 = \dots - \dots = \dots$$

$$32 \times 58 = \dots \times \dots = \dots$$

$$118 \div 42 = \dots \div \dots = \dots$$

۹) حاصل ضرب هارا به دست اوريد.

مساحتی (باز کردن هر دو عامل)

$$\begin{array}{r} 59 \\ \times 98 \\ \hline \end{array}$$

$$\begin{array}{r} \times 908 \\ 634 \\ \hline \end{array}$$

تکنیکی

مای دررس

۱۰) ۷۵۳۴۹ کیلو گرم به صورت تقریبی چند تن است؟

تقریب هزارگان

۷۵۳۴۹ →

[www.my-dars.ir](http://www.my-dars.ir)

۱۱) آیا عدد ۳۵ بر ۸ بخش پذیر است؟ چرا؟ رابطه های تقسیم را بنویسید.

موضوع: ارزشیابی ریاضی (دی ماه)

پایه چهارم

نام و نام خانوادگی دانش آموز: .....

ص	ر	ص	ر	ص	ر	ص	ر
۵	۱	۳	۴	۰	۹	۲	۸

۱) به سوالات مطرح شده در مورد عدد ۵۱۳۴۰۹۲۶۸ پاسخ دهید

الف) عدد را به حروف بنویسید یا عدد دستنویس را به حروف بنویسید

ب) کدام رقم بالاترین ارزش مکانی دارد؟ (با عدد مثال بنویسید)

ج) ارزش رقم ۳ در این عدد چیست؟ ۳,۰۰۰,۰۰۰

د) گسترده عدد را بنویسید.

$$500,000,000 + 10,000,000 + 3,000,000 + 400,000 + 9,000 + 200 + 4 + 8$$

ه) کدام رقم کمترین ارزش را دارد؟ ۰

۲) شکل هشتم الگو از چند مثلث تشکیل شده است؟ رابطه آن را بنویسید


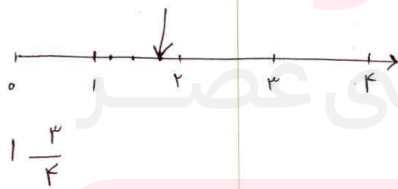
$(1 \times 4) + 1 = 5$        $(2 \times 4) + 1 = 9$        $(3 \times 4) + 1 = 13$

$(n \times 4) + 1 =$   
 $(8 \times 4) + 1 = 33$

۳ ۹۸۷۶۵ ۴

۳) بزرگترین عدد فرد شش رقمی با رقم های غیر تکراری بنویسید

۴) واحد مانده به عدد ۲ را روی محور نشان دهید عدد مخلوط آن را بنویسید و برای آن شکل بکشید



۵) کسره‌های زیر را مقایسه کنید.

$$\frac{18}{27} = \frac{2}{3} \quad \square \quad \frac{3}{27} \qquad \frac{28}{35} \quad \square \quad \frac{28}{51}$$

$$\frac{6}{15} = \frac{2}{5} = \left( 2 \times \frac{1}{5} \right) \quad \square \quad \frac{10}{15} - \frac{1}{3} = \frac{10}{15} - \frac{5}{15} = \frac{5}{15}$$

$$\frac{42}{63} = 2 \times \frac{2}{9} \quad \square \quad \frac{11}{63}$$

۶) حاصل جمع و تفریق هارا پس از هم مخرج کردن به دست آورید و ساده کنید.

$$\frac{6}{9} - \frac{4}{18} = \frac{12}{18} - \frac{4}{18} = \frac{8}{18} = \frac{4}{9}$$

$$\frac{9}{24} + \frac{1}{8} = \frac{12}{24} + \frac{3}{24} = \frac{15}{24} = \frac{5}{8}$$

۷) در یک مزرعه  $\frac{2}{9}$  ان درخت سیب  $\frac{1}{18}$  درخت پرتقال  $\frac{1}{3}$  ان کاشته شده است

ب) چه کسری باقی مانده است؟

$$\frac{18}{18} - \frac{11}{18} = \frac{7}{18}$$

الف) چه کسری از مزرعه کاشته شده است؟

$$\frac{2}{9} + \frac{1}{18} + \frac{1}{3} = \frac{4}{18} + \frac{1}{18} + \frac{6}{18} = \frac{11}{18}$$

۸) حاصل هارا با تقریب دهگان به دست آورید. (ابتدا عدد هارا تقریب زده و سپس حاصل را به دست آورید.)

$$265 - 38 = 227$$

$$32 \times 58 = 1856$$

$$118 \div 42 = 2$$

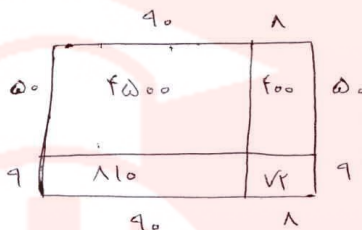
گروه آموزشی عصر

www.my-dars.ir

۹ حاصل ضرب هارا به دست اورید.

مساحتی (باز کردن هر دو عامل)

$$\begin{array}{r} 59 \\ \times 98 \\ \hline 4500 \\ + 810 \\ + 400 \\ + 72 \\ \hline 5782 \end{array}$$



تکنیکی

$$\begin{array}{r} 59 \\ \times 908 \\ \hline 472 \\ + 5310 \\ + 53100 \\ \hline 53420 \end{array}$$

(400 + 30 + 8)

۷۵ (۱۰۷۵۳۴۹ کیلو گرم به صورت تقریبی چند تن است؟ ۷۵)

تقریب هزارگان

۷۵۳۴۹ → ۷۵۰۰۰

۷۵۳۴۹

۷۵۰۰۰

۷۵۵۰۰

۷۵۰۰۰ | ۱۰۰۰

۷۵

۷۶۰۰۰

(۱۱) آیا عدد ۳۵ بر ۸ بخش پذیر است؟ چرا؟ رابطه های تقسیم را بنویسید. *عبد جلیل باقری*

$$\begin{array}{r} 35 \overline{) 8} \\ - 24 \\ \hline 11 \\ - 8 \\ \hline 3 \end{array}$$

$$\begin{array}{l} 8 \times 1 = 8 \\ 8 \times 2 = 16 \\ 8 \times 3 = 24 \\ 8 \times 4 = 32 \end{array}$$

$$8 \times 5 = 40 \quad \times$$

$$3 < 8$$

$$(8 \times 4) + 3 = 35$$