

	تاریخ امتحان: ۱۰/۰۳/	رشته: انسانی	سوالات امتحانی نوبت اول درس: اقتصاد
	زمان امتحان: ۸۰ دقیقه	شماره صندلی:	نام و نام خانوادگی:
	تعداد صفحات: ۳	نام دبیر: جناب آقای یاری	پایه: دهم

**الف) جاهای خالی را با کلمات مناسب تکمیل کنید: (۲ نمره)**

۱. هزینه‌هایی که پرداخت شده است و شما نمی‌توانید آن را برگردانید ..... نامیده می‌شود.
۲. الگوی مرز امکانات تولید یکی از الگوهای اقتصادی است که اجازه می‌دهد تا درک بهتری از ..... یک کشور در استفاده از منابع کمیاب پیدا کنید.
۳. اساس و مبنای مالیات بر دارایی، ثروت ..... است.
۴. چنانچه سرمایه‌گذار یک کالا، یک شرکت آلمانی باشد ولی ساخته شده دست کارگران چینی باشد این کالا ..... است.

**ب) صحیح یا غلط بودن عبارات‌های زیر را مشخص کنید: (۲ نمره)**

۱. کارآفرین باید توانایی مالی لازم را برای راه اندازی کسب و کارش داشته باشد اما ممکن است با عدم موفقیت روبه رو شود.
۲. سهام یک سند مالکیت است و نشان می‌دهد که دارنده آن، بخشی از مالکیت شرکت را در اختیار دارد و تنها در سود، شریک است.
۳. مطابق اولین اصل کمیابی، هر چیزی دارای محدودیت در استفاده است.
۴. تلاش برای به دست آوردن کارایی به معنای یافتن موقعیت‌هایی برای پیشرفت است.

**پ) به سوالات زیر پاسخ کوتاه دهید: (۲.۵ نمره)**

۱. جمله «منابع را به شکل کارایی مدیریت و هماهنگ می‌کنند.» بیانگر کدام ویژگی مشترک کارآفرینان است؟ (۰.۵ نمره)
۲. مهم‌ترین نوع شرکت چه نوعی است؟ (۰.۵ نمره)
۳. production possibilities frontier بیانگر کدام منحنی در اقتصاد است؟ (۰.۵ نمره)
۴. مالیات بر دخانیات زیر مجموعه کدامیک از انواع مالیات قرار می‌گیرد؟ (۰.۵ نمره)
۵. مهم‌ترین نوع مالیات بر دارایی چیست؟ (۰.۵ نمره)

**ت) مسائل زیر را حل کنید: (۸.۵ نمره)**

۱. چنانچه یک بنگاه تولیدی که دارای ۳ کارگر می‌باشد، ماهانه ۲۵۰ دست لباس تولید کند و هر یک را به قیمت ۱۵۰ هزار تومان بفروشد، با توجه به هزینه‌های زیر عملکرد سالانه این بنگاه اقتصادی را به تومان محاسبه کنید: (۱.۵ نمره)  
 میزان اجاره ماهیانه: ۵۰۰ هزار تومان  
 میزان حقوق ماهیانه هر کارگر: ۲ میلیون ریال  
 هزینه بیمه سالیانه مجموع کارگران: یک ششم اجاره سالیانه

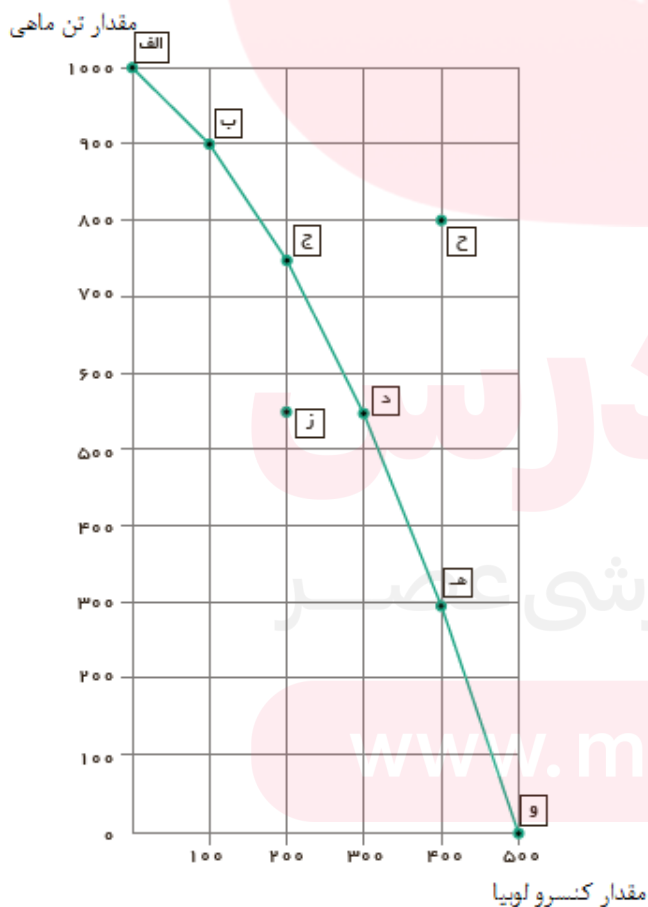
۲. محسن، نادر، حسین و میثم تصمیم به تأسیس یک شرکت تعاونی می‌گیرند، محسن ۲۵۰ میلیون تومان، نادر ۷۵۰ میلیون تومان، حسین ۶۰۰ میلیون تومان و میثم ۴۰۰ میلیون تومان سرمایه برای شرکت می‌آورند:  
الف) چنانچه این شرکت به طور میانگین در ماه ۱۰۰ میلیون تومان سود کند، میزان سهم میثم از سود سالیانه چقدر است؟ (۰.۵ نمره)

ب) چنانچه به علت کسری سرمایه، مؤسسان تصمیم بگیرند نوع شرکت را به سهامی تغییر دهند و به میزان ۵۰۰ میلیون تومان سرمایه جدید وارد شرکت شود، فردی که دارای پنج سهام به ارزش هر یک پنج میلیون تومان است، مالک چند درصد از سود شرکت است؟ (۰.۵ نمره)

۳. در یک کارخانه تولید مواد شوینده قصد سرمایه گذاری ۵ میلیارد تومان را داریم؛ مطابق بررسی‌های به عمل آمده چنانچه این سرمایه صرف تولید پودر لباسشویی بشود ماهانه ۱۰۰ میلیون تومان سود حاصل می‌شود و چنانچه به تولید قرص لباسشویی اختصاص داده شود سالانه یک میلیارد تومان سود بدست می‌آید و چنانچه صرف تولید مایع دستشویی بشود سالانه یک میلیارد و پانصد میلیون ریال سود حاصل می‌شود:  
الف) انتخاب به صرفه کدام است؟ (۰.۵ نمره)  
ب) هزینه فرصت سالیانه را محاسبه کنید: (۱ نمره)  
ج) چنانچه به دلیل تحریم‌ها و عدم ورود مواد اولیه نتوانیم انتخاب به صرفه داشته باشیم و ناچار بشویم دومین گزینه به صرفه را انتخاب کنیم، هزینه فرصت سالیانه چه میزان است؟ (۰.۵ نمره)

۴. باتوجه به نمودار به سوالات پاسخ دهید:

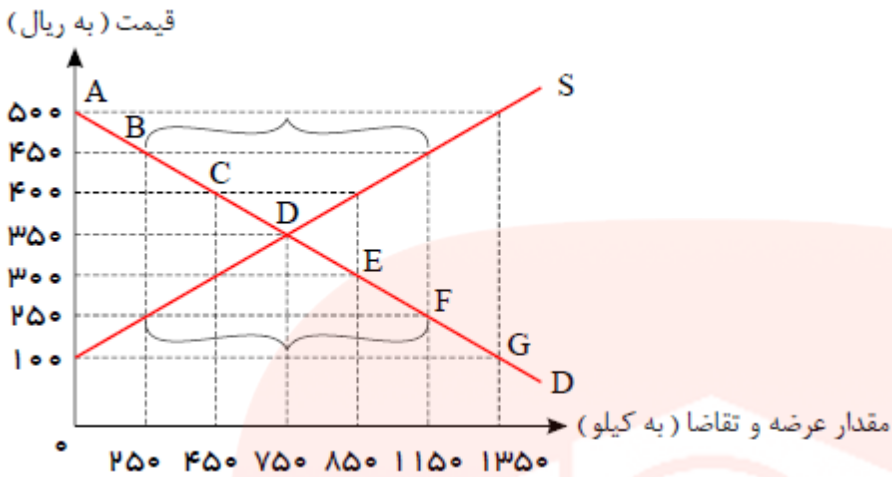
الف) نام نمودار مقابل چیست؟ (۰.۵ نمره)



ب) چنانچه بخواهیم ۳۰۰ عدد کنسرو لوبیا تولید کنیم حداکثر چه تعداد تن ماهی را می‌توانیم تولید کنیم؟ (۰.۵ نمره)

پ) چنانچه تمام سرمایه صرف تولید تن ماهی بشود چه تعداد تن ماهی می‌توانیم تولید کنیم؟ (۰.۵ نمره)

۵. با توجه به نمودار زیر به سوالات خواسته شده پاسخ دهید: (۲.۵ نمره)



الف) مقدار عرضه در قیمت ۴۰۰:

ب) مقدار تقاضا در قیمت ۲۵۰:

پ) نقطه تعادلی با کدام حرف مشخص شده؟

ت) وضعیت بازار در نقطه C:

ث) تفاوت مازاد عرضه با کمبود تقاضا را توضیح دهید:

ث) به پرسش‌های زیر پاسخ کامل دهید: (۵ نمره)

۱. دو نمونه از مواردی را که در اساسنامه شرکت‌ها ذکر می‌شود بنویسید: (نمره)

۲. منظور از سرمایه فیزیکی چیست؟ یک نمونه ذکر کنید: (نمره)

۳. منظور از کسری بودجه و مازاد بودجه چیست؟ (نمره)

۴. در خصوص پیمان نفتا به سوالات زیر پاسخ دهید: (۱.۵ نمره)

الف) به جز آمریکا چه کشورهایی عضو این پیمان هستند؟

ب) نام دیگر این پیمان چیست؟

۵. تشکیل بانک جهانی توسعه و صندوق بین‌المللی پول نتیجه برگزاری کدام کنفرانس بود؟ (۰.۵ نمره)

www.mydars.ir

نمره با عدد:	نمره تجدید نظر با عدد:
نمره با حروف:	نمره تجدید نظر با حروف:
نام و نام خانوادگی مصحح - تاریخ و امضا	نام و نام خانوادگی مصحح - تاریخ و امضا

قسمت الف:

۱. هزینه هدر رفته

۲. وضعیت بده-بستان

۳. مؤدی

۴. چند ملیتی

قسمت ب:

۱. صحیح

۲. غلط

۳. غلط

۴. صحیح

قسمت پ:

۱. سازمان دهنده

۲. شرکت سهامی

۳. منحنی مرز امکانات تولید

۴. مالیات بر مصرف

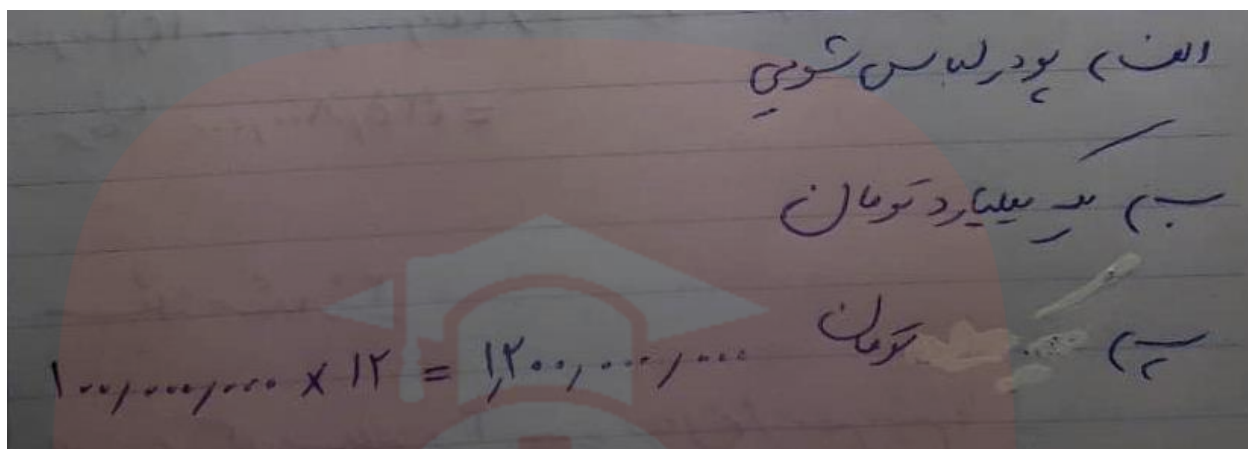
۵. مالیات بر ارث

مای دررس  
گروه آموزشی عصر

[www.my-dars.ir](http://www.my-dars.ir)

$$\begin{aligned}
 & \text{تومان} \Rightarrow 250 \times 150,000 \times 12 = 450,000,000 \\
 & \left. \begin{aligned}
 & \text{تومان} \Rightarrow 50,000,000 \times 12 = 600,000,000 \\
 & \text{تومان} \Rightarrow 2,000,000 \times 12 \times 3 = 72,000,000 \\
 & \text{تومان} \Rightarrow 7,200,000 \\
 & \text{تومان} \Rightarrow 9,000,000 \times \frac{1}{4} = 2,250,000
 \end{aligned} \right\} \text{مجموع هزینه های سالیانه} \\
 & 142,000,000 = 9,000,000 + 72,000,000 + 2,250,000 \\
 & \text{سود} \Rightarrow 450,000,000 - 142,000,000 = 308,000,000 \\
 & \text{تومان} = 308,000,000
 \end{aligned}$$

$$\begin{aligned}
 & \left. \begin{aligned}
 & \text{سهم مستقیم} \\
 & \text{سهم از سود} \\
 & \text{سالیانه}
 \end{aligned} \right\} \text{الف) } \frac{100,000,000}{5} \times 12 = 240,000,000 \\
 & \text{سهم مستقیم} \Rightarrow \frac{1}{5} \\
 & \text{سهم از سود} \Rightarrow 2,500,000,000 \\
 & \text{سهم} \Rightarrow 25,000,000
 \end{aligned}$$



۴. الف) منحنی مرز امکانات تولید

ب) ۵۵۰

پ) ۱۰۰۰

۵. الف) ۸۵۰

ب) ۱۱۵۰

پ) D

ت) مزاد عرضه

ث) هیچ تفاوتی ندارد و هر دو بیانگر یک وضعیت هستند.

قسمت ث:

۱. اساسنامه شرکت باید بیان کند که شرکت برای چه کسب و کاری تشکیل شده است؛ سهام آن چه میزان است و چگونه تقسیم و فروخته می شود؛ چگونه شرکت سرمایه اولیه خود را تأمین می کند و چگونه سود و زیان تقسیم می شود؛ سهام داران چه حقوق و مسئولیت هایی در شرکت دارند؛ شرکت چگونه منحل می شود و...

[www.my-dars.ir](http://www.my-dars.ir)

۲. سرمایه فیزیکی همان تجهیزات تولید است مانند تراکتور برای کشاورز.

۳. اگر درآمد بودجه از هزینه‌های بیشتر باشد با مازاد بودجه مواجه هستیم و اگر میزان هزینه‌ها از میزان درآمد بودجه بیشتر باشد با کسری بودجه مواجه هستیم.

۴. الف) مکزیک و کانادا ب) پیمان تجارت آزاد

۵. کنفرانس پولی و مالی سازمان ملل



مای دررس  
گروه آموزشی عصر

[www.my-dars.ir](http://www.my-dars.ir)