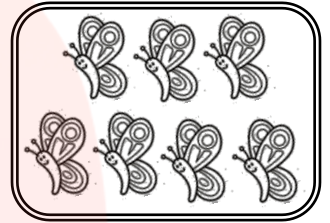





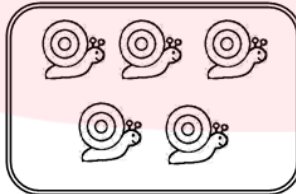
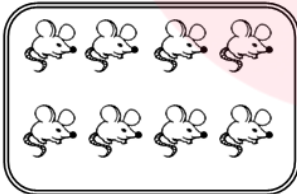
۱- تعداد هر تصویر را نوشته و هر جا لازم بود علامت  $< = >$  قرار بده.



۲- برای تفریق داده شده شکل بکشید و باقی مانده را بدست آورید.

$$8 - 5 =$$

۳- جمع مربوط به شکل های زیر را بنویس.



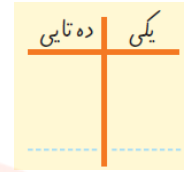
$$\dots + \dots = \dots$$

۴- جدول زیر را کامل کن.

۸	۵	۷	۴	۳		۲	۹
۳		۱	۹	۵	۲	۴	۷
	۴	۲	۶		۸	۳	۱
۴	۱	۵	۲	۶	۷	۹	۸
۲	۹	۶	۵	۸	۳	۷	۴
۷	۳			۹	۴		۵
۱	۲			۴	۶	۵	۳
۵	۸	۳	۷	۲	۹	۱	۶
۶	۷	۴	۳	۱			۹

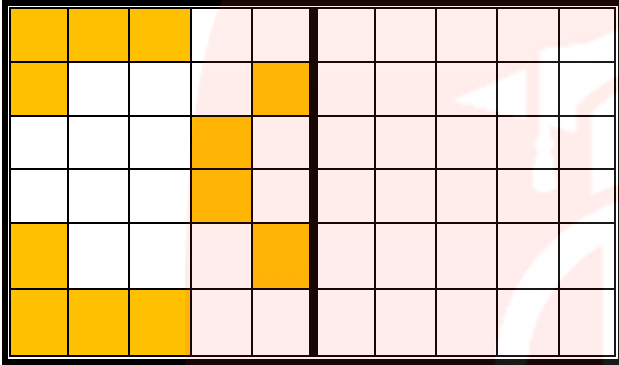


۵- با توجه به شکل ها ، جاهای خالی را با عدد مناسب کامل کن .



.....


۶- شکل را طوری کامل کن که دو نیمه مثل هم شود .



۷- به ترتیب از عدد ۷ تا ۱۶ بنویس .



۸- به تعداد شکل ها چوب خط کشیده و عدد مربوط به آن را بنویس .



۹- حاصل جمع های زیر را به دست آورید .

$$۴ + ۵ =$$

$$۸ + ۵ + ۴ =$$

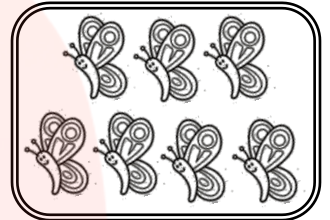



$$۷ + ۶ =$$

ارزیابی آموزگار : عالی خوب قابل قبول نیاز به تلاش بیشتر

www.my-dars.ir

				توانایی شمارش و مقایسه اعداد
				توانایی جمع و تفریق
				توانایی کامل کردن جدول سودوکو
				توانایی تشخیص و نوشتن اعداد بالای ده
				قرینه یابی

۱- تعداد هر تصویر را نوشته و هر جا لازم بود علامت  $< = >$  قرار بده.



۴

=

۴

۶

<

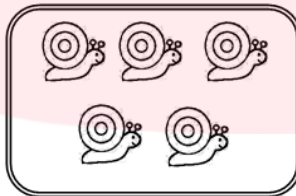
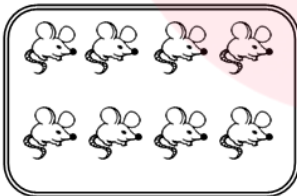
۷

۲- برای تفریق داده شده شکل بکشید و باقی مانده را بدست آورید.

$$۸ - ۵ = ۳$$



۳- جمع مربوط به شکل های زیر را بنویس.



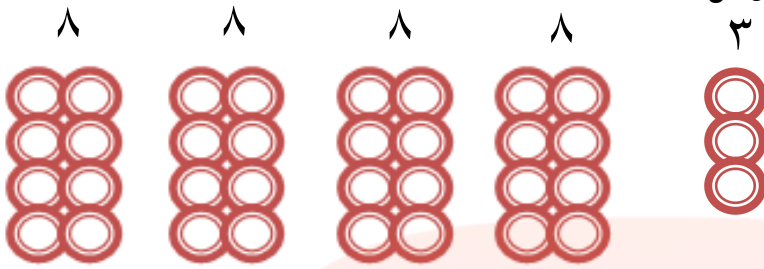
$$۸ + ۵ = ۱۳$$

۴- جدول زیر را کامل کن.

۸	۵	۷	۴	۳	۱	۶	۲	۹
۳	۶	۱	۹	۵	۲	۴	۷	۸
۹	۴	۲	۶	۷	۸	۳	۱	۵
۴	۱	۵	۲	۶	۷	۹	۸	۳
۲	۹	۶	۵	۸	۳	۷	۴	۱
۷	۳	۸	۱	۹	۴	۲	۵	۶
۱	۲	۹	۸	۴	۶	۵	۳	۷
۵	۸	۳	۷	۲	۹	۱	۶	۴
۶	۷	۴	۳	۱	۵	۸	۹	۲




۵- با توجه به شکل ها ، جاهای خالی را با عدد مناسب کامل کن .



ده تایی	یکی
۳	۵

۳۵

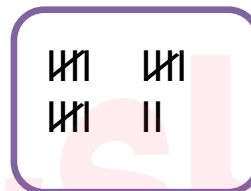

۶- شکل را طوری کامل کن که دو نیمه مثل هم شود .



۷- به ترتیب از عدد ۷ تا ۱۶ بنویس .



۸- به تعداد شکل ها چوب خط کشیده و عدد مربوط به آن را بنویس .



۱۷

۹- حاصل جمع های زیر را به دست آورید .

$$۴ + ۵ = ۹$$

$$۸ + ۵ + ۴ = ۱۷$$

$$۷ + ۶ = ۱۳$$

ارزیابی آموزگار : عالی خوب قابل قبول نیاز به تلاش بیشتر

www.my-dars.ir

				توانایی شمارش و مقایسه اعداد
				توانایی جمع و تفریق
				توانایی کامل کردن جدول سودوکو
				توانایی تشخیص و نوشتن اعداد بالای ده
				قرینه یابی