





به نام خدا

آزمون ریاضی - نوبت دوم

نام و نام خانوادگی :

آموزگار

پایه اول

ردیف	سوالات
-۱	<p>دسته های ده تایی درست کن و عدد مربوط به آن را بنویس</p>  <div style="display: flex; justify-content: space-around;"> <div style="text-align: center;"> <p>ده تایی</p> <hr style="width: 100px; margin: 0 auto;"/> <p>یکی</p> <p>به عدد -----</p> <p>به حروف -----</p> </div> <div style="text-align: center;"> <p>ده تایی</p> <hr style="width: 100px; margin: 0 auto;"/> <p>یکی</p> <p>به عدد -----</p> <p>به حروف -----</p> </div> </div>
-۲	<p>ادامه بده</p>  <p>۵۲</p>  <p>۰ - ۶ ۱۲ - ۶ ۵۵ - ۵ ۶۰ - ۵ ۶۵ - ۵</p>
-۳	<p>حاصل عبارت ها را به دست بیاور و علامت مناسب بگذار <=></p> <p> $10 + 20 + 5 + 5 = \dots\dots\dots$ <input type="checkbox"/> $20 + 10 + 5 + 3 = \dots\dots\dots$ $10 + 10 - 5 = \dots\dots\dots$ <input type="checkbox"/> $20 + 5 + 10 - 10 = \dots\dots\dots$ </p>
-۴	<p>آذر ۱۲ کتاب داستان ۵ کتاب شعر و ۷ دفتر دارد او روی هم چند کتاب و دفتر دارد؟ (با چوب خط)</p>  <div style="border: 1px solid black; width: 100%; height: 100%; margin-top: 20px;"></div> <p>..... + + =</p>

برای شکل روبه رو یک مسئله بنویس

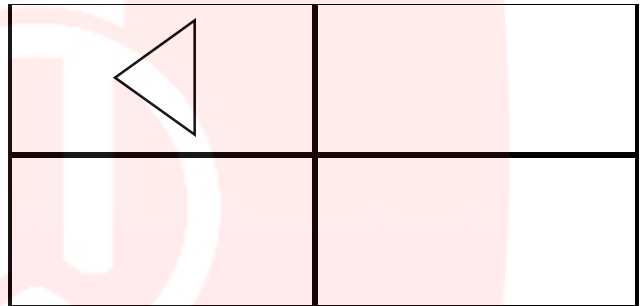
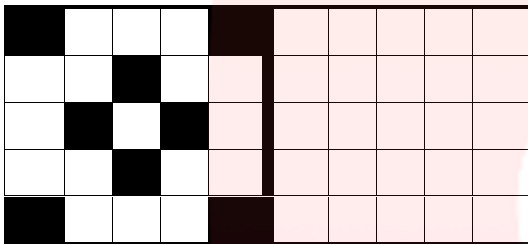
۵-



..... - =

باتوجه به شکل سمت چپ و تقارن عمودی شکل سمت راست را کامل کن قرینه مثلث را در سه قسمت دیگر بکش

۶-



ساعت بین ---- و ---- است
ساعت از ---- گذشته است



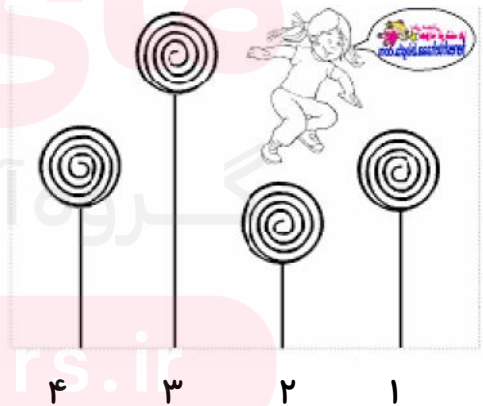
ساعت ---- است

جاهای خالی را کامل کن

۷-

با توجه به شکل داده شده جاهای خالی را کامل کن

۸



شکل شماره ---- کوتاه ترین است. شکل شماره ---- و ---- هم اندازه است

راهنمای توصیف عملکرد به صورت تحلیلی

ردیف	ملاک و شواهد	مقیاس	کاملا مسلط	با نظارت	با راهنمایی و نظارت	ن آ
۱	می تواند شکل را دسته بندی کند و عدد را به رقم و حروف بنویسد					
۲	الگویابی و عدد نویسی را درست ادامه داده است					
۳	جمع و تفریق مضارب ۱۰ را انجام داده و علامت مناسب انتخاب کرده است					
۴	جم سه عددرا باچوبخط درست نمایش داده است					
۵	درک مفهوم تفریق و مسئله نویسی را انجام داده است					
۶	درک تقارن عمودی و تشخیص قرنه مثلث را درست انجام داده است					
۷	درک زمان و مفهوم بین و مفهوم گذشته در ساعت					
۸	مفاهیم کوتاه و بلندی و هم اندازه را درک می کند.					

بازخور دآموزگار:



خود سنجی :

مای دارس

گروه آموزشی عصر

www.my-dars.ir