



به نام خدا

آزمون ریاضی کلاس دوم دبستان

نام و نام خانوادگی

۱- اعداد دو رقمی بنویسید که رقم یکان آن ها ۳ و ۶ و دهگان آن ها ۴ و ۹ باشد.

۲- با رسم دو خط شکل های زیر را به ۴ قسمت مساوی تقسیم کنید



۳- مقدار پول را بنویسید



۴- یک مستطیل به ضلع ۲ و ۴ سانتی متر و یک مربع به ضلع ۳ سانتی متر رسم کنید

۵- به صورت باز شده بنویسید

$$۲۵۴ =$$

$$۴۷۲ =$$

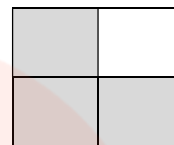
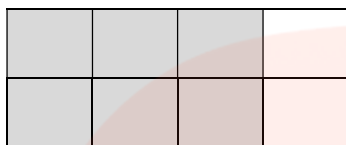
۶- حاصل جمع زیر را بنویسید

$$۲ + ۱۰۰ + ۴۰ + ۱۰ + ۵۰۰ =$$

$$۷۰ + ۳ + ۲۰۰ + ۵ + ۳۰۰ =$$

www.my-dars.ir

۷- چه مقدار از شکل های زیر رنگ شده است؟



.....قسمت از .....قسمت مساوی

.....قسمت از .....قسمت مساوی

۸- الگوی عددی را ادامه بدهید.

۴۲۰ ، ۴۳۰ ، ۴۴۰ ، .....، .....، .....

۹- جمع و تفریق زیر را فرایندی حساب کنید.

-۸۴۷

+۴۲۵

۵۲۶

۱۳۱

۱۰- جمع و تفریق زیر را تکنیکی حساب کنید .

-۶۵۰

+۴۷۵

۲۱۵

۱۵۲

۱۱- ساعت ۱۰ و ۳ دقیقه است ۲۰ دقیقه بعد ساعت چند می شود ؟

ساعت چهار و نیم است یک ساعت و ۵ دقیقه بعد ساعت چند می شود ؟

۱۲- قد علی ۱۴۰ سانتی متر است برادرش ۲۵ سانتی متر از او بلند تر است.

قد برادر علی چقدر است ؟

قد این دو نفر روی هم چقدر می شود ؟

[www.my-dars.ir](http://www.my-dars.ir)

موفق باشید

بین

$$4 - 3 : 43$$

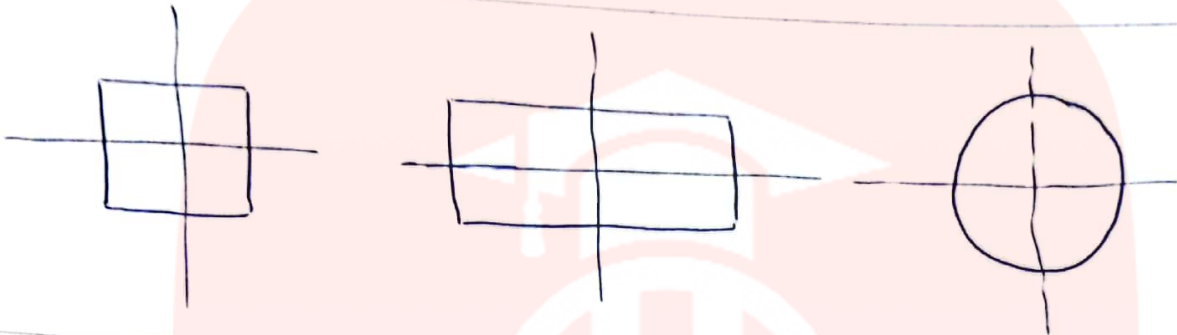
$$9 - 3 : 93$$

بین

$$4 - 4 : 44$$

$$9 - 4 : 94$$

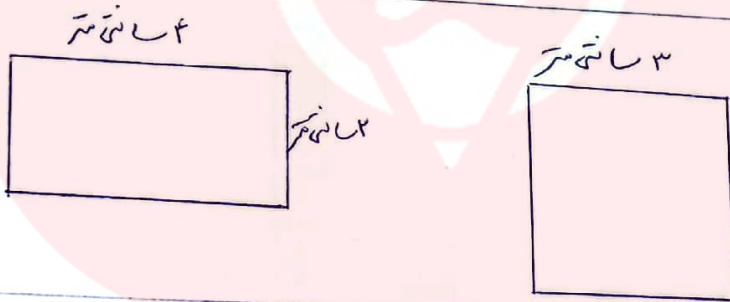
①



②

$$100 + 100 + 100 + 10 + 10 + 10 + 10 + 1 + 1 + 1 + 1 = 344$$

③



④

$$254 = 200 + 50 + 4$$


$$472 = 400 + 70 + 2$$

⑤

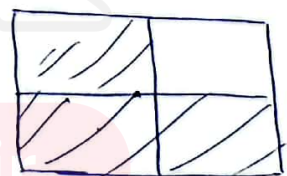
$$2 + 100 + 40 + 10 + 500 = 652$$

$$70 + 3 + 200 + 5 + 200 = 578$$

⑥



۴ صفت از ۸ صفت مساوی



۳ صفت از ۴ صفت مساوی

⑦

۴۲۰, ۴۳۰, ۴۴۰, ۴۵۰, ۴۶۰, ۴۷۰  
 ↗ +۱۰ ↗ +۱۰ ↗ +۱۰ ↗ +۱۰ ↗ +۱۰

۸

- ۸۴۷  
 ۵۲۶  
 -----  
 ۳۲۱  
 - ۳۲۷  
 ۲۶  
 -----  
 ۳۲۷  
 - ۴  
 -----  
 ۳۲۱

+ ۴۲۵  
 ۱۲۱  
 -----  
 ۵۴۶  
 + ۳۱  
 -----  
 ۵۷۷  
 + ۱  
 -----  
 ۵۷۸

۹

+ ۴۷۵  
 ۱۵۲  
 -----  
 ۶۲۷

۴ ۱۰  
 ۶ ۸  
 - ۲۱۵  
 -----  
 ۴۳۵

۱۰

۱۱ - ۲۰ دقیقه ساعت ۱۰ و ۲۳ دقیقه می شود .

- یک ساعت و ۵ دقیقه بعد ساعت ۵:۳۵ است .

۱۲

ساعتی کمتر قدر برابر در علم  
 $۱۴۰ + ۲۵ = ۱۶۵$

+ ۱۴۵  
 ۱۴۰  
 -----  
 ۳۰۵

ساعتی کمتر قدر دو نفر اوی هم

