

نام و نام خانوادگی:

پایه : دوم

تاریخ: ۱۰/۱۷

ارزشیابی ریاضی دی

سزبل

۱- آرش ۵۰۸ ریال پول دارد. با توجه به پولش جدول و جاهای خالی را کامل کنید.

به حروف:
گسترده :

ص	د	ی
---	---	---

--	--

با چینه

با سکه

۲- جمع و تفریق زیر را با شکل و راه حل ، حل کنید.

$$\begin{array}{r} 25 \\ + \\ 49 \\ \hline \end{array} = \begin{array}{r} 90 \\ - \\ 68 \\ \hline \end{array}$$

۳- در یک اتوبوس ۱۴ نفر نشسته اند. در ایستگاه بعدی ۷ نفر دیگر سوار شدند و در ایستگاه بعدی ۵ نفر از

اتوبوس پیاده شدند. حالا چند نفر در اتوبوس نشسته اند؟ (به کمک محور)

www.my-dars.ir

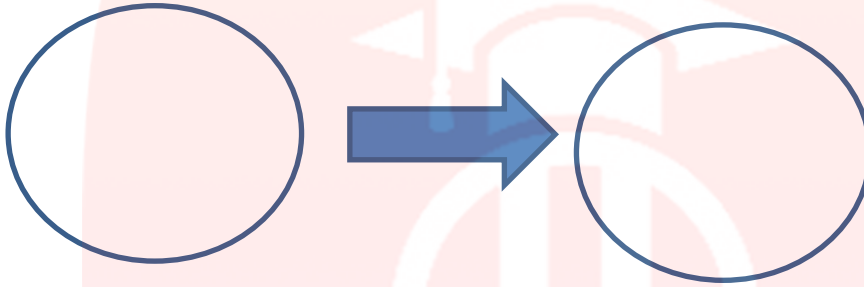
۴- شباهت و تفاوت دو شکل رو به رو را بنویس.



شباهت:

تفاوت:

۵- ارزشیابی ریاضی خواهرم ساعت ۱۰: ۸ صبح شروع می شود و یک ساعت ونیم بعد تمام می شود. ارزشیابی خواهرم چه ساعتی تمام می شود؟ (با دو ساعت نشان دهید)



۸:۱۰

بعد از یک ساعت ونیم

۶- ریاضیدان کوچک من، همه ی عدد های دورقمی که می توان با رقم های ۳ و ۵ برای یکان و، ۶ و ۹ برای دهگان نوشت را بنویسید. (با روش جدول و خوشه ای)

۷۸-۸۳-۸۸-.....-.....-.....

۷- گل پسر الگو های زیر را ادامه بده.



۹۴

۸- حاصل را با تقریب به دست آورید .

۵۵



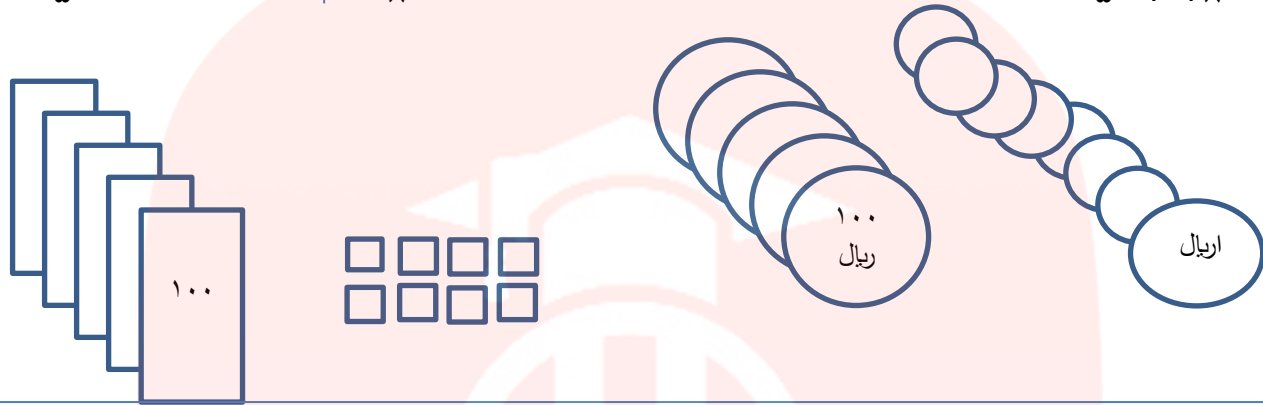
www.my-dars.ir

پاسخنامه ارزشیابی ریاضی دی

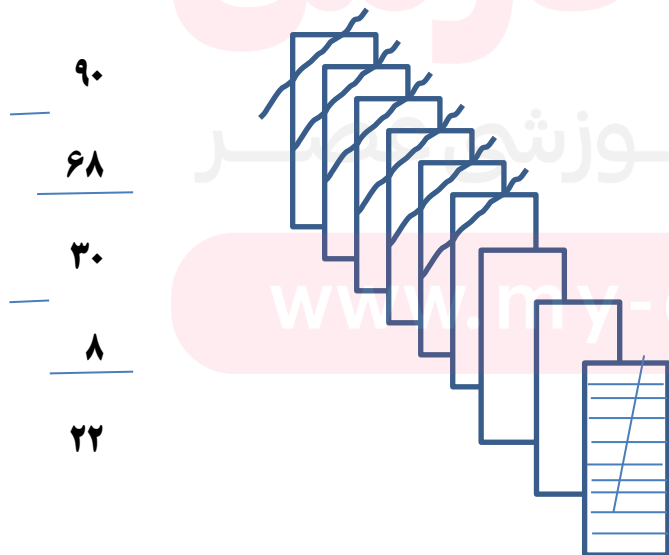
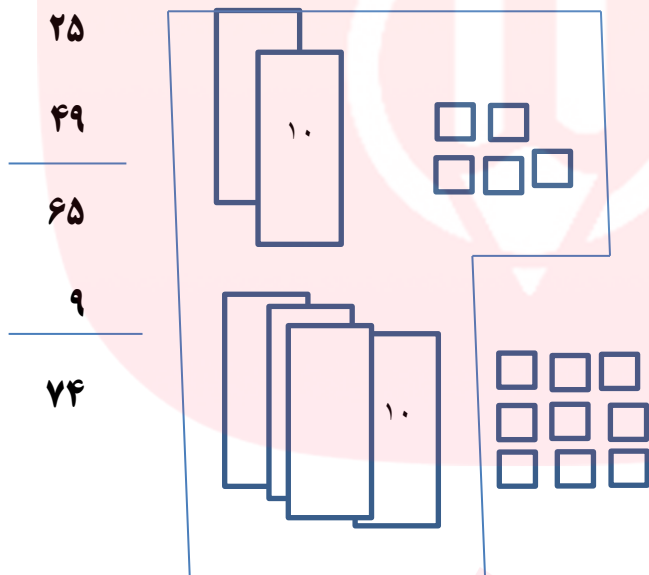
سوال ۱- پانصد و هشت

$$500 + 0 + 8$$

ص	د	ی
۵	۰	۸



سوال ۲-



مای داریس
گروه آموزشی
www.my-dars.ir



۴- شباهت: هر دو ضلع ۴ گوشه دارند

تفاوت: ضلع های مربع باهم برابر هستند اما ضلع های مستطیل با هم برابر نیستند و دوتای روبه رو با هم برابر هستند.

۵- ساعت ۹:۴۰ می شود

د	ی	
۹	۳ → ۹۳	۹
۹	۵ → ۹۵	
۶	۳ → ۶۳	۶
۶	۵ → ۶۵	

سوال ۷- الگوی اول ۵ تا ۵ نا و الگوی شکلی ۳ تا ۳ نا جلو می رود.

سوال ۸- تقریب ۹۴ میشود ۹۰ و تقریب ۵۵ میشود ۶۰ و حاصل تفریق آن می شود ۳۰

مای درس

گروه آموزشی عصر

www.my-dars.ir