
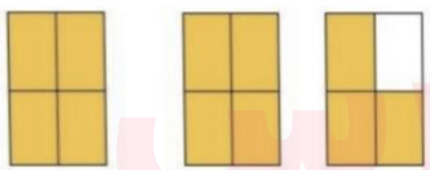


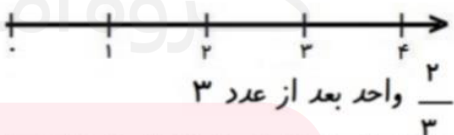


نام درس: ریاضی
 نام دبیر: ... زهرا رضایی
 تاریخ امتحان:
 ساعت امتحان: صبح / عصر
 مدت امتحان: دقیقه

نام و نام خانوادگی:
 پایه: سوم

آزمون نه اول

ردیف	سؤالات	نمره												
۱	<p>با توجه به شکل مقابل عدد را در جدول ارزش مکانی دهید و آن را به حروف بنویسید.</p> 													
۲	<p>مغازه داری یک شیشه شیر را ۲۰۰ تومان میخرد و ۲۳۰ تومان میفروشد. الف) سود هر شیشه شیر را حساب کنید. ب) ۵ شیشه شیر چقدر سود دارد؟</p> <table border="1" data-bbox="284 1064 1332 1243"> <tr> <td>شیشه شیر</td> <td></td> <td></td> <td></td> <td></td> <td></td> </tr> <tr> <td>سود</td> <td></td> <td></td> <td></td> <td></td> <td></td> </tr> </table>	شیشه شیر						سود						
شیشه شیر														
سود														
۳	<p>جاهای خالی را با عدد مناسب و شکل ها را با رنگ کردن کامل کنید</p>  <p>..... واحد و واحد واحد</p>  <p>..... واحد و واحد واحد</p>  <p>۲ واحد و $\frac{4}{6}$ واحد واحد</p>  <p>$\frac{2}{3}$ واحد بعد از عدد ۳</p>													
۴	<p>اعداد زیر را به صورت گسترده بنویسید.</p> <p>۲۱۴۹ =</p> <p>۹۰۸۳ =</p>													

جای خالی را کامل کنید.

* ۳۵۶ سانتی متر یعنی متر و سانتی متر.

* ۷ کیلومتر یعنی متر.


* یک ربع ساعت ساعت است.

* ۹ متر و ۱۵ سانتی متر یعنی سانتی متر.

* ۶۹۰۰ گرم برابر است با کیلوگرم و گرم.

۵

با کامل کردن شکل نشان دهید که $\frac{2}{5} = \frac{4}{10}$ است.



۶

مقایسه کنید $< = >$

۱ $\frac{7}{7}$

۴ واحد و $\frac{1}{2}$ واحد ۵ واحد و $\frac{1}{5}$ واحد

ثلث خمس

$\frac{2}{5}$ $\frac{2}{7}$

$\frac{3}{10}$ $\frac{6}{10}$

۷

زاویه و خط تقارن شکل زیر را مشخص کنید. و بنویسید زاویه مربع چه نوع زاویه ای است؟



۹

۳ دلار کشوری معادل ۳۰۰ تومان است، ۵ دلار چند تومان ارزش دارد؟

دلار					
تومان					

۱۰



نام درس: ریاضی

نام دبیر:

تاریخ امتحان: ۱۷ / ۱۰ /

ساعت امتحان: صبح

مدت امتحان: دقیقه

کلیدسؤالات ترم نوبت اول

ردیف	راهنمای تصحیح	محل مهر یا امضاء مدیر												
۱	<table border="1"> <thead> <tr> <th>یکان</th> <th>دهگان</th> <th>صدگان</th> <th>هزارگان</th> </tr> </thead> <tbody> <tr> <td>۰</td> <td>۴</td> <td>۳</td> <td>۱</td> </tr> </tbody> </table> <p>هزار و سیصد و چهل</p>	یکان	دهگان	صدگان	هزارگان	۰	۴	۳	۱					
یکان	دهگان	صدگان	هزارگان											
۰	۴	۳	۱											
۲	<table border="1"> <thead> <tr> <th>شیشه شیر</th> <th>۱</th> <th>۲</th> <th>۳</th> <th>۴</th> <th>۵</th> </tr> </thead> <tbody> <tr> <td>سود</td> <td>۳۰</td> <td>۶۰</td> <td>۹۰</td> <td>۱۲۰</td> <td>۱۵۰</td> </tr> </tbody> </table> <p>سود هر بسته ۳۰ تومن است</p>	شیشه شیر	۱	۲	۳	۴	۵	سود	۳۰	۶۰	۹۰	۱۲۰	۱۵۰	
شیشه شیر	۱	۲	۳	۴	۵									
سود	۳۰	۶۰	۹۰	۱۲۰	۱۵۰									
۳	<p> $\frac{1}{4}$ واحد و $\frac{2}{4}$ واحد $\frac{2}{4}$ واحد و $\frac{3}{4}$ واحد </p>													
۴	<p> $2149 = 2000 + 100 + 40 + 9$ $9083 = 9000 + 80 + 3$ </p>													
۵	<ul style="list-style-type: none"> ❖ ۳ متر و ۵۶ سانتی متر ❖ ۷۰۰۰ متر ❖ $\frac{1}{4}$ ساعت 													

گروه آموزشی عصر

www.my-dars.ir

❖ ۹۱۵ سانتی متر
❖ ۶ کیلوگرم و ۹۰۰ گرم

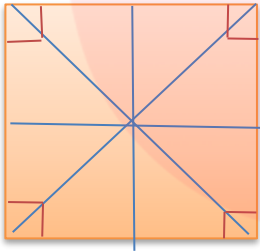


۶

$$\frac{2}{5} > \frac{2}{7} \quad \frac{3}{10} < \frac{6}{10} \quad 1 = \frac{7}{7}$$

۴ واحد و $\frac{1}{2}$ واحد > ۵ واحد و $\frac{1}{5}$ واحد > ثلث < خمس

۷



مربع ۴ زاویه راست دارد و ۴ خط تقارن

۸

دولار	1	2	3	4	5
تومان	100	200	300	400	500

9

با توجه به اینکه ۳ دلار کشوری ۳۰۰ تومان ارزش دارد پس ۱ دلار آن ۱۰۰ تومان است، در نتیجه ۵ دلار آن ۵۰۰ تومان ارزش دارد

www.my-dars.ir

امضاء:

نام و نام خانوادگی مصحح :