

فصل ۴

هندسه

در این فصل اول چند تا تعریف داریم

پاره خط : خطی که از دو طرف بسته باشد . (دو طرف نقطه باشد) .



نیم خط: خطی است که از یک طرف باز و از طرف دیگر بسته باشد . (یک طرف نقطه)



زاویه نیم صفحه : زاویه 180° درجه را نیم صفحه می نامند .

زاویه های متمم : اگر جمع دو زاویه با هم 90° درجه باشد متمم می نامند

زاویه مکمل : به دو زاویه که جمع شان 180° درجه باشد مکمل می گویند .

زاویه متقابل به رأس : یعنی دو زاویه که مانند دسته و لبه قیچی با هم برابر و روبه روی هم باشند .

تبدیل های هندسی : تبدیل های هندسی شامل انتقال ، دوران و تقارن هستند .

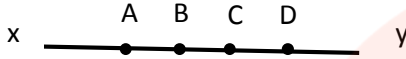
شکل های هم نهشت : اگر با تبدیل های هندسی دو شکل را بتوانیم دقیقاً روی هم قرار دهیم آن دو

شکل هم نهشت هستند .

چندضلعی محدب : به چند ضلعی که زاویه ی بزرگ تر از 180° درجه نداشته باشد .

چندضلعی مقعر : چندضلعی که حداقل یک زاویه بزرگ تر از 180° درجه دارد .

سوال ۱) در شکل زیر نام یدو پاره خط و نیم خط را بنویسید . و رابطه زیر را کامل کنید .



$$AB + BC =$$

$$AD - CD =$$

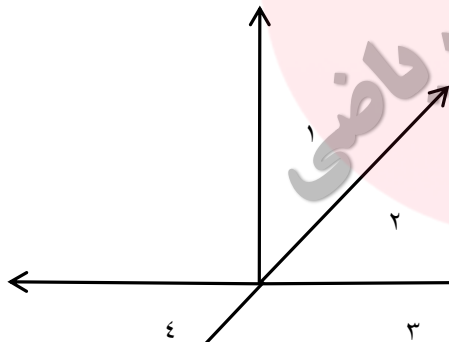
جواب : نام دو پاره خط AB و BC و نام دو نیم خط XA و DY .

$$AB + BC = AC$$

$$AD - CD = AC$$

برای قسمت آخر کافی است حروف شبیه هم را حذف کنید . تا به جواب برسید و یا از شکل کمک بگیرید .

سوال ۲) در شکل زیر اندازه زاویه ۱ برابر 30° درجه است اندازه زاویه های دیگر را بدست آورید .



جواب :

در شکل زاویه های ۲ و ۴ متقابل به رأس هستند و برابر

زاویه های ۳ و ۴ مکمل هستند و جمعشان 180° درجه می شود.

زاوی های ۱ و ۲ متمم هستند پس :

$$\hat{1} + \hat{2} = 90 \rightarrow \hat{2} = 90 - 30 = 60$$


$$\hat{2} = \hat{4} = 60$$

$$\hat{3} + \hat{4} = 180 \rightarrow \hat{3} = 180 - 60 = 120$$

علامت \hat{A} به معنای زاویه ی یک است .

سوال ۳) آیا شکل های زیر هم نهشت هستند ؟ (شکل ها از نوع مقعر هستند چون زاویه ی بزرگتر

از 180° درجه دارند)



جواب : بله چون با تبدیل هندسی دوران و انتقال می توان آنها را روی هم قرار دارد .



مای درس

گروه آموزشی عصر

www.my-dars.ir